


کد کنترل

351

A

خارج از کشور



351A



دفترچه شماره ۱
صبح جمعه

«اگر دانشگاه اصلاح شود مملکت اصلاح می‌شود.»
امام خمینی (ره)

جمهوری اسلامی ایران
وزارت علوم، تحقیقات و فناوری
سازمان سنجش آموزش کشور

آزمون سراسری ورودی دانشگاه‌های کشور - ۱۴۰۰

گروه آزمایشی علوم انسانی آزمون عمومی

مدت پاسخ‌گویی: ۷۵ دقیقه

تعداد سؤال: ۱۰۰

ردیف	مواد امتحانی	تعداد سؤال	از شماره	تا شماره	مدت پاسخ‌گویی
۱	زبان و ادبیات فارسی	۲۵	۱	۲۵	۱۸ دقیقه
۲	زبان عربی	۲۵	۲۶	۵۰	۲۰ دقیقه
۳	فرهنگ و معارف اسلامی	۲۵	۵۱	۷۵	۱۷ دقیقه
۴	زبان انگلیسی	۲۵	۷۶	۱۰۰	۲۰ دقیقه

سال ۱۴۰۰

حق چاپ، تکثیر و انتشار سؤالات به هر روش (الکترونیکی و ...) پس از برگزاری آزمون، برای تمامی اشخاص حقیقی و حقوقی تنها با مجوز این سازمان مجاز می‌باشد و یا متغلفان برابر مقررات رفتار می‌شود.

* داوطلب گرامی، عدم درج مشخصات و امضاء در مندرجات جدول ذیل، به منزله عدم حضور شما در جلسه آزمون است.

اینجانب..... با شماره داوطلبی..... با آگاهی کامل، یکسان بودن شمارهٔ سندلی خود را با شماره داوطلبی مندرج در بالای کارت ورود به جلسه، بالای پاسخنامه و دفترچهٔ سوالات، نوع و کدکنترل درج شده بر روی دفترچهٔ سوالات و پائین پاسخنامه‌ام را تأیید می‌نمایم.

امضاء:

- ۱- معنی واژه‌های زوج در کدام گزینه «تماماً» درست است؟
 «شکن، نموده، قفا، تناور، تفریط، بهرام، دوده، هزیر»
 (۱) سیارهٔ مریخ، ارائه کرده، نیکو، فربه
 (۲) کیوان، آشکار کرده، قوی جثه، خشمگین
 (۳) نشان داده، تنومند، بسپاردان، خاندان
 (۴) سیارهٔ زحل، پس گردن، تنومند، چابک
- ۲- معنی چند واژه، درست است؟
 (زخم: ضربه) (شیخ: پیر) (عندلیب: هزاردستان) (خنیده: پرآوازه) (نماز پیشین: نماز مغرب) (آزرم: گمان نژاد: خوار و زیون) (درای: زنگ کاروان) (سیماب: لوزان)
 (۱) پنج (۲) شش (۳) هفت (۴) هشت
- ۳- مترادف «قطره، فریاد، غریو، کاهش یافتن» به ترتیب، در کدام ابیات یافت می‌شود؟
 الف) بی‌صرفه نیست ریزش مستان به پای گل
 ب) گهی که جرم مرا پیش تو حساب کنند
 ج) غو پاس بانان و بانگ جرس
 د) صغیر بلبل شوریده و نغیر هزار
 (۱) الف - د - ب - ج (۲) ج - د - ب - الف (۳) ب - ج - الف - د (۴) ب - د - ج - الف
- ۴- در کدام عبارات «غلط املائی» وجود دارد؟
 الف) وی دست در دامن ازلی زد و نصرت خاست.
 ب) هر کس به قراضه‌ای در معبر نشسته و رخت سفر بسته.
 ج) از وحشت آباد عالم فانی به نزهت سرای جاودانی انتقال نمود.
 د) وی پشیمان گشت و گفت از پشت دست خوابیدن چه سود.
 (۱) الف - ج (۲) الف - د (۳) ب - ج (۴) ب - د
- ۵- در کدام عبارت «غلط املائی» وجود دارد؟
 (۱) اتفاق کردند که او را استحقاق و اهلیت این منزلت هست.
 (۲) خواست که به نصرت و معاونت و استخلاص مملکت او قیام نماید.
 (۳) به خوش‌دلی و قبطت عزم مراجعت در خدمت او به امضا رسانیدند.
 (۴) اگر ما دبیری را فرماییم که چیزی نویسد، اگرچه استیصال او در آن باشد زهره دارد که ننویسد؟
 در متن زیر چند «غلط املائی» وجود دارد؟
- ۶- «آدم صفی خلعت صفوت ازو یافت، روح پر فتوح در غالب نوح به عزت او درآمد، طیلسان صعود بر سر هود او کشید، منشور امارت به نام اسماعیل او نبشت، نعلین غربت در پای موسی او کرد، عمامهٔ رفعت بر سر عیسی او نهاد.»
 (۱) یک (۲) دو (۳) سه (۴) چهار
- ۷- نام سرایندهٔ کدام بیت، در مقابل آن «غلط» آمده است؟
 (۱) مشو در پیچ و تاب رنج و غم گم
 (۲) غلام عشق شو کاندیشه این است
 (۳) طاق‌پذیر است عشق جفت نخواهد حریف
 (۴) صبر بر داغ دل سوخته باید چون شمع
 به هر حالت تبسم کن تبسم (فریدون مشیری)
 همه صاحب‌دلان را پیشه این است (نظامی)
 بر نمط عشق اگر پای نهی طاق نه (منوچهری)
 لایق صیحت بزم تو شدن آسان نیست (هوشنگ ابتهاج)

- ۸- در منظومه زیر به ترتیب، چند تشبیه و چند استعاره وجود دارد؟
 «فوران گل حسرت از خاک / بارش شبنم روی پل خواب / پرش شادی از خندق مرگ / گذرحادثه از پشت کلام»
 (۱) سه - پنج (۲) سه - شش (۳) چهار - پنج (۴) چهار - شش
- ۹- آرایه‌های مقابل همه ابیات «کاملاً» درست است، به جز:
 (۱) از انش آب دهن چون گلاب شیرین است
 (۲) هر جا که سیف باشد بستان اوست رویش
 (۳) گو در این مصر که فرعون در او صد بیش است
 (۴) سرورانی که به هر گرسنه نان می‌دادند
- ۱۰- بیت زیر، به کدام «آرایه‌ها» آراسته شده است؟
 «قامت یکتای من گشته دوتا چون هلال»
 (۱) تضاد، استعاره، جناس نام، ایهام
 (۲) تشبیه، مجاز، تضاد، ایهام تناسب
 (۳) استعاره، واج آرایی، جناس ناقص، مجاز
 (۴) تشبیه، واج آرایی، کنایه، جناس ناقص
- ۱۱- آرایه‌های «جناس، اسلوب معادله، استعاره، حسن تعلیل و ایهام تناسب» به ترتیب، در کدام ابیات آمده است؟
 الف) می‌خورم خون جگر تا می‌برم روزی به سر
 ب) زان عمر من و زلف تو کوتاه و بلند است
 ج) چون شود اخلاص کامل تر رسد سلطان عشق
 د) سخن را روی گرم از قید خاموشی برون آرد
 ه) آمد شبی خیالش در صدر سینه جا کرد
 (۱) الف - ج - ه - ب - د
 (۲) الف - د - ه - ج - ب
 (۳) ج - ب - د - الف - ه
 (۴) ج - د - ه - ب - الف
- ۱۲- زمان افعال موجود در ابیات زیر، به ترتیب، کدام است؟
 «هر که بی‌مشورت کند تدبیر
 بیخ بی‌مشورت که بنشانی»
 (۱) مضارع اخباری، مضارع اخباری، مضارع التزامی، مضارع التزامی
 (۲) مضارع اخباری، مضارع التزامی، ماضی التزامی، مضارع التزامی
 (۳) مضارع التزامی، مضارع اخباری، مضارع التزامی، مضارع اخباری
 (۴) مضارع التزامی، مضارع اخباری، ماضی التزامی، ماضی مستمر
- ۱۳- در کدام بیت، نقش دستوری «واژه قافیه» متفاوت است؟
 (۱) بر سرو قامت گل و بادام روی و چشم
 (۲) کسی در نیامده است بدین خوبی از دری
 (۳) اول منم که در همه عالم نیامده است
 (۴) رویی که روز روشن اگر برکشد نقاب
- ۱۴- تعداد جمله‌های کدام بیت، با بیت زیر یکسان است؟
 «می رفت فروغی ز سر کویت و می‌گفت
 (۱) دلا من قدر وصل او ندانستم تو می‌دانی
 (۲) به آنچه می‌گذرد دل منه که دجله بسی
 (۳) از دیده دل سوختگان چهره میوشان
 (۴) بی تو می‌گویند تعطیل است کار عشق بازی
- که هست همچو شکر مغز پسته دهنش (واج آرایی، حسن تعلیل)
 «چون است حال بستان ای باد نوبهاری» (استعاره، تضمین)
 نان عزیز است که شد یوسف گندم چاهی (ایهام تناسب، تشبیه)
 استخوان جوی شده همچو سگ درگاهی (مجاز، استعاره)
- تا تو قرین قمر زلف دوتا کرده‌ای
 (۲) تشبیه، مجاز، تضاد، ایهام تناسب
 (۴) تشبیه، واج آرایی، کنایه، جناس ناقص
- قسمت از خوان قضا بنگر که چونم داده‌اند
 زیرا که به هر ورطه نشیب است و فراز است
 آن چه بود افسار در سر بعد از این افسر شود
 سپند از آتش سوزان بلند آواز می‌گردد
 در مسجد خرابی بت‌خانه‌ای بنا کرد
 (۲) الف - د - ه - ج - ب
 (۴) ج - د - ه - ب - الف
- غالبش بر غرض نیاید تیر
 بر نیارد به جز پشیمانی
- نشیده‌ام که سرو چنین آورد بری
 دیگر نیارود چو تو فرزند مادری
 زیباتر از تو در نظرم هیچ منظری
 پرتو دهد چنان که شب تیره اختری
- کز دست دل ای کاش چنین زار نبودم
 کنون دانستم و سودی نمی‌دارد پشیمانی
 پس از خلیفه بخواهد گذشت در بغداد
 ای آینه هس‌دار که صاحب نفسی هست
 عشق اما کی خبر از شنبه و آدینه دارد

- ۱۵- نقش قسمت‌های مشخص شده در همه ابیات کاملاً درست است، به جز:
- (۱) بادِ عمرت در جهان همچون خَضر
 (۲) این سخن همچون ستاره است و قمر
 (۳) هر یکی از ما مسیح عالمی است
 (۴) چون که حرفی بر تابند این وصال
- جان فزا و دستگیر و مستمّر (متمم، مسند)
 لبیک بی فرمان حق ندهد اثر (مسند، مفعول)
 هر الم را در کف ما مرهمی است (مضاف‌الیه، نهاد)
 واجب آید که کنم کوته مقال (مسند، مفعول)
- ۱۶- با توجه به ابیات زیر همه موارد «کاملاً» درست هستند، به جز:
- «بدو گفت کز من رهایی مجوی
 نیامد به دامم به سان تو گور»
- (۱) ابیات از هفت جمله تشکیل شده‌اند.
 (۲) در ابیات چهار فعل نیاز به مفعول دارد.
 (۳) منادا و یک جهش ضمیر در ابیات مشهود است.
 (۴) فعل مضارع اخباری و ماضی ساده در ابیات به چشم می‌خورد.
- چرا جنگ جویی تو ای ماه‌رو
 ز چنگم رهایی نیابی مشور
- ۱۷- مفهوم ضرب‌المثل «از کوزه همان برون تراود که در اوست» از کدام بیت، دریافت می‌شود؟
- (۱) مرد را اوّل بزرگی نفس بید پس نسب
 (۲) گر جان بدهد سنگ سیه لعل نگرود
 (۳) صورت زیبای ظاهر هیچ نیست
 (۴) اگر ذاتی تواند بود کز هستی توان دارد
- هست اندر ذات او این هر دو معنی آشکار
 باطنیت اصلی چه کند بدگهر افتاد
 ای برادر سیرت زیبا بیار
 من آن ذاتم که او از نیستی جان و روان دارد
- ۱۸- کدام بیت با بیت زیر، قرابت مفهومی دارد؟
- «آب اجل که هست گلوگیر خاص و عام
 بی اجل یاد کسی خلق به نیکی نکنند
 ما بر گه دادیم این رفت ستم بر ما
 هیچ شک نیست به تیر اجل ای یار عزیز
 چو خواهی عاقبت شد رزق موران
- بر حلق و بر دهان شما نیز بگذرد
 مرگ، این طایفه را بر سر انصاف آرد
 بر قصر ستمکاران گویی چه رسد خذلان
 که من از پای درآیم چو تو اندازی به
 به دولت گر سیمانی چه حاصل؟
- ۱۹- از کدام بیت، مفهوم بیت زیر استنباط می‌شود؟
- «گریهٔ شام و سحر شکر که ضایع نگشت
 (۱) گریهٔ دل‌های شب آینه‌ام را صاف کرد
 (۲) مرا چون اشک هر سو می‌دواند چشم پرکاری
 (۳) گریهٔ مستانه نگشود از رگ جانم گره
 (۴) بسوز ای دل که تا خامی نیاید بوی دل از تو
- قطرهٔ باران ما گوهر یکدانه شد
 نور بینش همچو شمع از چشم گریان یافتم
 که هر مزگان او در عالم دیگر کند بازی
 تاک را در گریه کردن عقده از دل وانشد
 کجا دیدی که بی‌آتش کسی را بوی عود آید
- ۲۰- عبارات زیر با کدام بیت، قرابت مفهومی دارد؟
- «از ابر کرم، باران محبت بر خاک آدم بارید و به ید قدرت در گل از گل دل کرد.»
- (۱) صبح خندان محبت به فروغی گریان
 (۲) نقطهٔ عشق که از کلک محبت بچکید
 (۳) در ازل پرتو حسنت ز تجالی دم زد
 (۴) کلک نقاش ازل کز ابدیت دم زد
- اشک بارید و به گل‌های خزان شبنم زد
 دل آدم شد و از عشق و محبت دم زد
 عشق پیدا شد و آتش به همه عالم زد
 از بر لوح عدم نقش همه عالم زد

۲۱- کدام بیت با بیت زیر، قرابت مفهومی ندارد؟

«وصلت آن کس یافت کز خود شد فنا»

- (۱) هرکه در قید خودی ماند زمین گیر بود
- (۲) عمر اگر باشد ز قید تن رها خواهم شدن
- (۳) سوخت تا پروانه واصل شد توهم از بال و پر
- (۴) چو از شمعی رسد پروانه را نور

۲۲- کدام بیت «فاقد» مفهوم عبارت زیر است؟

«تا با خاک آنس نگیری، راهی به مراتب قرب نداری.»

- (۱) غبار دامن صحرای خاکساری شو
- (۲) به خاکساری ما صرفه نیست خندیدن
- (۳) قطره ایی که دارد در نظر گوهر شدن
- (۴) شده است گرد ز افتادگی سوار بر باد

۲۳- مفهوم کدام بیت با عبارت زیر، یکسان است؟

«از بیم عقرب جراره دموکراسی قرن بیستم، ناچار شده به مار غاشیه حکومت سرهنگ‌ها پناه ببرد.»

- (۱) کنون در خطرگاه جان آمدیم
- (۲) ای که تو از ظلم چاهی می کنی
- (۳) خلقی بیفکنند چو مار از نهیب پوست
- (۴) مکر او معکوس و او سر زیر شد

۲۴- مفهوم بیت زیر با کدام بیت متناسب نیست؟

«هیچ نقاشت نمی بیند که نقشی بر کند»

- (۱) سرگشته به بر و بحر گردند
- (۲) ای لال ز وصف تو زبان‌ها
- (۳) در عالم عشق سیر کردیم
- (۴) به بینندگان آفریننده را

۲۵- کدام مورد، با توجه به ابیات زیر «غلط» است؟

«فلک در شگفتی ز عزم شماسست

شما را چو باور به یزدان بود»

(۱) در سروده «پنج ترکیب اضافی» یافت می شود.

(۲) آرایه‌های «استعاره، اغراق و جناس» در ابیات به چشم می خورد.

(۳) نقش قسمت‌های مشخص شده، به ترتیب، «متمم و مفعول» است.

(۴) بیت دوم با آیه شریفه ﴿وَمَنْ يَتَوَكَّلْ عَلَى اللَّهِ فَهُوَ حَسْبُهُ﴾ تناسب مفهومی دارد.

هرکه فانی شد ز خود مردانه‌ای است»
هرکه بیرون رود از خود همه جا می باشد
بی گره چون موجّه آب بقا خواهم شدن
بازکن آغوش رغبت در هوای سوختن
در آید پرزنان پروانه از دور

که تاج رفعت از این رهگذر توانی یافت
مکن به جام سفالین شراب بی غش را
از کنار ابر تا دریا تنزل بآیدش
نشسته است ز گردن کشی نتان در خاک

ز باران سوی ناودان آمدیم
از برای خویش دامی می تنی
قومی برآورد چو مور از نشاط پر
روزگارش برود و روزش دیر شد

وان که دید، از حیرتش کلک از بنان افکنده‌ای
اندر طلب تو کاروان‌ها
کوته ز ثنای تو بیان‌ها
دیدیم یکان یکان نشان‌ها
نبینی مرنجانان دو بیننده را

ملک آفرین گوی رزم شماسست
هم او مر شما را نگهبان بود»

■ ■ عین الأنسب للجواب عن الترجمة أو المفهوم من أو إلى العربية (۲۶ - ۳۵)

۲۶- ﴿... مَنْ بَعَثْنَا مِنْ مَرْقَدْنَا، هَذَا مَا وَعَدَ الرَّحْمَنُ وَ صَدَقَ الْمُرْسَلُونَ﴾:

- ۱) کسی که ما را از مرقد خود بیرون آورد، همان است که خدا وعده آن را داده بود، و مرسلین راستگو هستند!
- ۲) کسی ما را از آرامگاهمان برانگیخت، او همان است که رحمن به ما وعده داده بود، و پیامبران راستگو هستند!
- ۳) چه کسی ما را از خوابگاهمان برانگیخت، این همان است که خداوند رحمن وعده داده، و رسولان راست گفته‌اند!
- ۴) آنکه ما را از قبرهایمان بیرون آورد، و این همان چیزی است که خداوند وعده داده است، و پیامبران مرسل راست گفته‌اند!

۲۷- « هُوَ أَسْتَاذٌ عَالِمٌ فِي هَذِهِ اللُّغَةِ فَجَادِلْهُ بِأَلْتِي هِيَ أَحْسَنُ لِأَنَّهُ أَعْلَمُ مَنْ فِي هَذِهِ الْبِلَادِ! »:

- ۱) او استاد دانشمندی در این زبان است، پس با او با آنچه نکوتر است بحث کن زیرا او داناترین کسانی است که در این کشور هستند!
- ۲) او استادی دانشمند در این زبان است، لذا به نیکوترین شیوه با او بحث کن زیرا او داناتر از کسانی است که در این کشور هستند!
- ۳) او استادی فاضل در این زبان است، پس بحث با او باید به نیکوترین چیز باشد چه او داناترین کسانی است که در این کشور می‌باشند!
- ۴) او استاد فاضلی است در این زبان، لذا باید با او به روشی نیکو بحث علمی کنی چه او داناتر از آنهایی است که در این کشور می‌باشند!

۲۸- « دَعِ مِنَ الذِّكْرِيَّاتِ مَا يُرْعِجُ قَلْبَكَ وَ يَجْعَلُكَ خَائِبًا، لِأَنَّهَا تَمْنَعُكَ مِنَ التَّقَدُّمِ! »:

- ۱) فروگذار آنچه را که دلت را آزرده می‌سازد از خاطرات ناامیدکننده، زیرا مانع پیشرفت تو می‌شود!
- ۲) از خاطرات آنچه را که دلت را آزرده می‌کند و تو را ناامید می‌سازد رها کن، زیرا آنها تو را از پیشرفت باز می‌دارد!
- ۳) از خاطرات آنچه که قلبت را آزرده می‌سازد و ناامیدت می‌کند، ترک کن، زیرا مانعی برای پیشرفت تو می‌شود!
- ۴) ترک کن آنچه را که قلبت را آزرده می‌کند و خاطراتی که ناامیدت می‌گرداند، زیرا تو را از پیشرفت باز می‌دارد!

۲۹- « لَعَلَّ مَرَحِلَةً مِنَ مَرَاحِلِ الْبُخْلِ هِيَ أَنْ تَعُدَّ مَا تُتَفَقَّهَ خُسَارَةً وَ لَا تَرْضَى بِهِ رِضَابَةً فِي نَفْسِكَ! »:

- ۱) شاید یک مرحله از مراحل بخل آن است که خسارت شمرده شود چیزی که انفاق می‌شود و در درونت به آن راضی نشوی!
- ۲) شاید از مراحل بخل این مرحله باشد که آنچه انفاق شود خسارت شمرده شود و در باطنت به آن کاملاً راضی نباشی!
- ۳) شاید مرحله‌ای از مراحل بخل این است که خسارت بشمردی چیزی را که انفاقت کرده‌ای و در باطنت به آن رضایت نداده‌ای!
- ۴) شاید مرحله‌ای از مراحل بخل آن باشد که آنچه را انفاق می‌کنی خسارت به‌شمار آوری و در درونت کاملاً به آن راضی نباشی!

۳۰- « كثير من إختراعات الإنسان الحديثة ليست في مجال الإعمار و البناء، لأنه لم يستفد من جانبها النافع! »:

- (۱) بسیاری از اختراعات انسان در زمینه آباد کردن و ساختن، جدید نیست زیرا او از جنبه مفید آن استفاده نمی‌کند!
- (۲) تعداد زیادی از اختراعات انسان در بخش آبادسازی و ساختمان بکار نرفته است، زیرا او از جنبه سودمند آن بهره نمی‌برد!
- (۳) بسیاری از اختراعات جدید انسان در زمینه آبادانی و ساختن نیست، زیرا او از قسمت مفید آنها استفاده نکرده است!
- (۴) تعداد زیادی از اختراعات جدید انسان در زمره آبادانی و ساختمان نمی‌باشد، بخاطر اینکه از بخش مفید آن بهره‌برداری نشده است!

۳۱- « النفايات الصناعية تُهدد بلادنا بتلوث البيئة و تُضيع التوازن في طبيعتها، فما أظلم الإنسان بنفسه! »:

- (۱) پسماندهای صنایع کشورمان را به آلوده شدن محیط زیستش تهدید کرده توازن را در طبیعت از بین می‌برد، پس انسان بسیار ظالم بر خود است!
- (۲) زباله‌های صنعتی کشور ما را به آلودگی محیط‌زیست تهدید می‌کند و توازن را در طبیعت آن از بین می‌برد، پس چه ظالم است انسان به خودش!
- (۳) زباله‌های ناشی از صنعت محیط‌زیست ما را در کشور تهدید به آلودگی می‌کند و توازن موجود در طبیعت را از بین خواهد برد، پس انسان بسیار ظلم کرده است!
- (۴) پسماندهای مربوط به صنعت محیط‌زیست کشورمان را تهدید به آلوده کردن می‌کند و توازن آن را در طبیعتش از بین خواهد برد، پس انسان چقدر ظلم می‌کند!

۳۲- « ليس هناك عظم في اللسان ولكنه يستطيع أن يكسر القلوب استطاعة، فلترقب كلامنا! »:

- (۱) در زبان استخوانی وجود ندارد، ولی قطعاً می‌تواند دلها را بشکند، پس باید مواظب سخنانمان باشیم!
- (۲) در زبان استخوانی نیست، اما بخوبی توانائی شکستن قلبها را دارد، پس باید از سخنانمان مراقبت کنیم!
- (۳) استخوانی در زبان وجود ندارد، اما توانائی دارد قلبهای دیگران را کاملاً بشکند، پس باید مراقب سخن‌گفتنمان باشیم!
- (۴) در هیچ زبانی استخوان نیست، ولی واقعاً می‌تواند قلبها را بشکند، پس باید بخوبی از سخن‌گفتنمان مواظبت کنیم!

۳۳- « لا فرق بين القط الأسود و القط الأبيض، القط يجب أن يقدر أن يصيد الفأر صيداً نيشع بطنه! »:

- (۱) هیچ فرقی بین گربه سیاه و گربه سفید نیست، گربه باید بتواند حتماً موش بگیرد تا شکمش را سیر کند!
- (۲) فرقی بین گربه سفید و گربه سیاه اصلاً نیست، چه گربه باید قادر باشد موش بگیرد تا شکمش سیر شود!
- (۳) اصلاً فرقی بین گربه‌ای که سیاه باشد و گربه‌ای که سفید باشد وجود ندارد، حتماً گربه باید قادر باشد موشی بگیرد تا شکمش را سیر کند!
- (۴) فرقی بین گربه که سیاه باشد یا سفید باشد وجود ندارد، قطعاً گربه باید بتواند موشی بگیرد تا شکمش سیر شود!

۳۴- عین الخطأ:

- ۱) أفضل الأعمال الحلم عند الغضب و الصبر عند الطمع: برترین کارها بردباری هنگام خشم است و صبر هنگام طمع!
- ۲) لا تجمع من المال و أنت لا تدري لمن تجمع: از مال و ثروت جمع مکن درحالیکه تو نمی دانی برای چه کسی جمع می کنی!
- ۳) إذا سلمت من الأسد المفترس فلا تطمع في صيده: هرگاه از شیر درنده در سلامت ماندی به شکار کردنش طمع مکن!
- ۴) إن المجاهدين باعوا أرواحهم واشتروا الجنة: جهادکنندگان جانهای خود را فروختند تا به بهشت برسند!

۳۵- « برتری دانشمندی بر غیر خود، مانند برتری پیامبر بر امت خویش است: »

- ۱) فضل العالم على غيره، كفضل النبي على أمته.
- ۲) فضل العالم على الآخرين، مثل فضل نبي على أمته.
- ۳) الفضل للعالم على غيره، مثل فضل أنبياء على الأمة.
- ۴) الفضل للعالم على أحد آخر، كفضل الأنبياء على الأمة.

■ ■ ■ اقرأ النص التالي ثم أجب عن الأسئلة (٣٦ - ٤٢) بما يناسب النص:

إن الماء يمرّ بمراحل، بدءاً من وجوده على سطح الأرض ثم انتقاله إلى الجو ثم عودته إلى سطح الأرض. و هذا الجولان هو أحد الأسباب التي تؤثر على نظام البيئة، حيث إنها تنقل عناصر مهمة من النظام البرّي في البيئة إلى النظام المائي في البيئة و بالعكس!

إن الحرارة المنبعثة من الشمس تُصير الماء بخاراً فيصعد إلى طبقات الجو العليا ثم تسبّب البرودة تكوين السحب و نزول الأمطار. فهذا يُشكّل جريانات سطحية على الأرض تنتهي بالأهبار، و من هناك نحو المحيطات و مرّة أخرى تبدأ تلك المرحلة من جديد!

في هذا الأثناء بعض المياه يتحوّل إلى بركة جميلة و بعضه يجري نحو أعماق الأرض و يُشكّل المياه تحت الأرض، و قسماً منه يصعد إلى سطح الأرض عبر العيون!

۳۶- عین الصحيح:

- ۱) إن بداية دوران المياه في الطبيعة تبدأ من الأمطار!
- ۲) لن ترجع ذرات بخار الماء الموجود في الجو إلى الأرض!
- ۳) إن لم يكن دوران الماء و دوراته لم يكن يتشكّل النظام البرّي في بيئتنا!
- ۴) إن مياه الأهبار لا تبقى في مكانها، بل تجري نحو ما فيه كثير من البحار!

۳۷- جواب أي سؤال جاء في النص؟:

- ۱) ما هو مقدار مياه تحت الأرض؟
- ۲) ما هي أسباب تكوين السحب؟
- ۳) ما هو أثر العيون في الطبيعة؟
- ۴) ما هي مشكلات فقدان الماء؟

٣٨- عَيْن ما لم يُذكر في النَّص:

- (١) أثر الشَّمس في تشكيل المطر!
 (٢) كَيْفِيَّةُ تحوُّل الماء إلى السحاب!
 (٣) أثر دوران المياه على حياة الإنسان!
 (٤) اختلاف البيئة و أثره في نزول المطر!

٣٩- ما هو الموضوع الأساس في النَّص:

- (١) أهميّة الماء
 (٢) كَيْفِيَّةُ تشكيل الأمطار
 (٣) دوران الماء
 (٤) أثر المحيطات في نزول الأمطار

■ عَيْن الخطأ في الإعراب و التحليل الصرفي (٤٠ - ٤٢)

٤٠- « تُسبَّبُ »:

- (١) فعل مضارع - مزيد ثلاثي (من باب تفعّل) - متعدّد / فعل و فاعله « البرودة »
 (٢) مضارع - للمؤنث الغائب - متعدّد - معلوم / فعل و فاعله « البرودة » و الجملة فعلية
 (٣) للمفرد المؤنث الغائب - متعدّد - معلوم / فاعله « البرودة » و مرفوع، و الجملة فعلية
 (٤) للمؤنث - مزيد ثلاثي (من باب تفعيل) / فاعله « البرودة » و مفعوله « تكوين » و منصوب

٤١- « يتحوّل »:

- (١) مضارع - مزيد ثلاثي (من باب تفعّل) - لازم / فعل و مع فاعله جملة فعلية
 (٢) فعل مضارع - للمذكّر - مزيد ثلاثي - لازم / فعل و فاعل، و الجملة فعلية و خبر
 (٣) مضارع - للمفرد المذكّر الغائب - مزيد ثلاثي (من باب تفعيل) / فعلّ و مع فاعله جملة فعلية
 (٤) فعل مضارع - للمفرد الغائب - لازم - معلوم / فعل و فاعل، و الجملة فعلية و خبر للمبتدأ « بعض »

٤٢- « المتبعية »:

- (١) اسم - مفرد مؤنث - اسم فاعل - معرفّ بأل - معرب / منصوب بالتبعية للموصوف
 (٢) اسم - مفرد مؤنث - اسم فاعل (مصدر فعله: انبعث) / خبر « إن » المشبهة بالفعل و مرفوع
 (٣) اسم فاعل (مصدر فعله: انبعث، من باب انفعال) - معرفّ بأل / صفة للموصوف « الحرارة »
 (٤) مفرد مؤنث - اسم فاعل (حروفه الأصلية « بعث » / صفة و منصوب بالتبعية للموصوف « الحرارة »

■ عَيْن المناسب للجواب عن الأسئلة التالية (٤٣ - ٥٠)

٤٣- عَيْن الخطأ في ضبط حركات الحروف:

- (١) تستطيعُ الحرباءُ أن تُديرَ عَيْنَيْها في اتجاهاتٍ مُختلفةٍ.
 (٢) ثمانيةٌ و ستونٌ ناقصٌ أحدَ عَشَرَ يساوي سبعةً و خمسين.
 (٣) في اللّغة العربيّة مئاتُ الكَلِماتِ المُعرّبة ذات الأُصولِ الفارسيّةِ
 (٤) عيشُ الحيواناتِ بعضها على بعضٍ يُحقِّقُ إيجاباً التّوازنِ في الطّبيعةِ.

٤٤ - عَيْنِ الصَّحِيحِ لِلْفَرَاغِ: «... مجالسةُ هذا الصَّدِيقِ المَجْتَهِدِ إِلَى نَجَاحِ فِي أَعْمَالِنَا أَكْثَرَ مِنْ قَبْلِ»

(١) اقْتَرَبْتِنَا (٢) تَقَرَّبْتِنَا (٣) قَرَّبْتِنَا (٤) قَرَّبْتِ مَنْأ

٤٥ - عَيْنِ مَا فِيهِ جَمْعُ سَائِمٍ لِلْمَذْكَرِ:

- (١) إِنْ كُنْتَ مِنَ الصَّائِمِينَ فَلَا تَكْذِبْ فِي أَعْمَالِكَ!
- (٢) لِكُلِّ بِلَدٍ قَوَانِينٌ خَاصَّةٌ يَجِبُ عَلَى النَّاسِ اتِّبَاعُهَا!
- (٣) الذَّلَافِينَ حَيَوَانَاتٌ تُحِبُّ الْإِنْسَانَ أَكْثَرَ مِنْ غَيْرِهَا!
- (٤) عَلَيْنَا أَنْ نُسَاعِدَ الْمَسَاكِينَ خَاصَّةً فِي فَصْلِ الشِّتَاءِ!

٤٦ - عَيْنِ مَا فِيهِ « نُونُ الْوَقَايَةِ » أَكْثَرُ:

- (١) لَا تَنْظُرِي أَنْكَ تَظْلِمِينِي وَ تَضْرِبِينِي وَ لَا تَشَاهِدِينَ عَاقِبَةَ عَمَلِكَ!
- (٢) يَسْأَلُونِي عَنِ مِهْنِي الْمَخْتَلِفَةِ وَ شَرَحْتُ لَهُمْ خِسْرَانِي فِي بَعْضِهَا!
- (٣) أَتَمَنَّى أَنْ يُوَصِّلَنِي أَبِي إِلَى مَدْرَسَتِي وَ يَسْتُوْدِعَنِي اللهُ كُلَّ صَبَاحٍ!
- (٤) شَجَّعَنِي وَ نَصَحَنِي مَعَلِّمِي بِتَنْظِيمِ الْبِرْنَامِجِ وَ سَاعَدَنِي فِي إِجْرَائِهِ!

٤٧ - عَيْنِ مَا لَيْسَ فِيهِ جُمْلَةٌ فَعْلِيَّةٌ:

- (١) الْجَوْلَةُ الْعِلْمِيَّةُ عَمَلٌ مُفِيدٌ لَنَا تَفَرُّحُنَا رَغْمَ صَعُوبَتِهَا!
- (٢) لَا كَاتِبَ إِلَّا أَنْ يَكُونَ مَجْتَهِدًا فِي الْكِتَابَةِ، فَكُتِبَ كَثِيرًا!
- (٣) إِنْ الطِّينَ تَرَابٌ يُخْتَلَطُ بِالْمَاءِ وَ لَوْ زَالَتْ عَنْهُ الرِّطُوبَةُ!
- (٤) حَتَّى الْوَرْدِ الْمُتَسَاقِطِ عَلَى الْأَرْضِ جَمَالُهُ كَثِيرٌ لِلنَّاضِرِينَ!

٤٨ - عَيْنِ الْمَفْعُولِ بِهِ مَعْرَبًا:

- (١) كَلَّمَا نُحْصِي مَا كَسَبْنَاهُ حَتَّى الْآنَ نَشْعُرُ بِالسَّعَادَةِ،
- (٢) هَذَا الْأَمْرُ يُوَصِّلُنَا إِلَى نَتِيجَةٍ رَائِعَةٍ،
- (٣) وَ هِيَ أَنْ السَّعَادَةَ نَجِدُهَا فِي أَفْكَارِنَا وَ نَيْسَتْ بِخَارِجِ مِنْهَا،
- (٤) فَإِذَا نُحْصِي الْأَشْيَاءَ الَّتِي نَحْتَاجُ إِلَيْهَا نَظُنُّ أَنَّهُ لِاسْعَادَةِ لَنَا!

٤٩ - عَيْنِ نَائِبِ الْفَاعِلِ مِنَ الْأَعْدَادِ:

- (١) مَا يُزْرَعُ فِي الدُّنْيَا مَرَّةً وَاحِدَةً يُمَكِّنُ أَنْ يُحْصَدَ عَشْرَ مَرَّاتٍ!
- (٢) إِشْتَرَكْتُ فِي السَّبَاقِ الْعِلْمِيِّ مِائَةً طَالِبٍ وَ نَجَحْتُ سَبْعَةَ طُلَّابٍ مِنْهُمْ!
- (٣) تَشَاهَدْتُ مِائَاتِ الْمَصَابِيحِ الْمَلُوتَةِ فِي أَعْمَاقِ الْبَحْرِ خُلِقَتْ لِلظَّلَامِ!
- (٤) قَدْ أَلَّفْتُ عِدَّةً مِنْ كُتُبِ عِلْمِ اللُّغَةِ يَضُمُّ أَلْفَ الْكَلِمَاتِ الْفَارْسِيَّةِ الْمُعْرَبَةِ!

٥٠ - عَيْنِ الصِّفَةِ يَخْتَلِفُ نَوْعُهَا:

- (١) نَحْنُ نَعْرِسُ الْأَشْجَارَ الْمُثْمِرَةَ وَ نَأْمَلُ أَنْ نَسْتَفِيدَ مِنْهَا!
- (٢) إِنْ الدُّنْيَا عِنْدَ الْمُؤْمِنِ أَهْوَنُ مِنْ وَرْقَةٍ تَقْضُمُهَا الْجِرَادَةُ!
- (٣) يَقْدِرُ التَّمْسَاحُ أَنْ يَأْكُلَ فَرِيسَةً أَكْبَرَ مِنْ فَمِهِ بِسَهُولَةٍ!
- (٤) تَسَاعَدُ الذَّاكِرَةُ الْقَوِيَّةُ الْإِنْسَانَ عَلَى التَّعَلُّمِ الْأَحْسَنِ!

- ۵۱ با توجه به اینکه «انسان‌ها عزت نفس و عدالت را دوست دارند و از ریا و ظلم و حقارت نفس بیزارند.» کدام آیه شریفه حاکی از آن است؟
- (۱) ﴿وَلَا أَقْسِمُ بِالنَّفْسِ اللَّوَّامَةِ﴾
 (۲) ﴿إِنَّا هَدَيْنَاهُ السَّبِيلَ إِمَّا شَاكِرًا وَإِمَّا كَفُورًا﴾
 (۳) ﴿وَنَفْسٍ وَمَا سَوَّاهَا فَأَلْهَمَهَا فُجُورَهَا وَتَقْوَاهَا﴾
 (۴) ﴿كُلُّ نَفْسٍ ذَائِقَةُ الْمَوْتِ وَنَبَلُّوكُم بِالشَّرِّ وَالْخَيْرِ فِتْنَةً﴾
- ۵۲ ثابت بودن شخصیت انسان و تغییر و تحول مداوم بدن، تأییدی بر مفهوم کدام بیت است؟
- (۱) چون بلند و پست با هم یار شد
 (۲) به گفت طفل جستی راه پرهیز
 (۳) تا در صنّب گوهر کانی، کانی
 (۴) چه کنم با که توان گفت که او
- ۵۳ «گروهی وجود جهان پس از مرگ را انکار می‌کنند». کدام عبارت، بیانگر این دیدگاه است؟
- (۱) ﴿وَمَا هَذِهِ الْحَيَاةُ الدُّنْيَا إِلَّا نَهْوٌ وَلَعِبٌ﴾ (۲) ﴿وَقَالُوا مَا هِيَ إِلَّا حَيَاتُنَا الدُّنْيَا نَمُوتُ وَنَحْيَا﴾
 (۳) ﴿حَتَّىٰ إِذَا جَاءَ أَحَدَهُمُ الْمَوْتُ قَالَ رَبِّ ارْجِعُونِ﴾ (۴) ﴿رَبِّ ارْجِعُونِ لَعَلِّي أَعْمَلُ صَالِحًا فِيمَا تَرَكْتُ﴾
- ۵۴ گوینده سخن «سلام بر شما، وارد بهشت شوید به خاطر اعمالی که انجام دادید» کدام مورد می‌باشد و ظرف زمانی تحقق آن کدام عالم است؟
- (۱) خداوند - برزخ (۲) خداوند - قیامت (۳) فرشتگان - قیامت (۴) فرشتگان - برزخ
- ۵۵ عبارت ﴿وَكَانَتِ الْجِبَالُ كَثِيرًا مَّهِيلًا﴾ مربوط به کدام مرحله قیامت است و به چه معناست؟
- (۱) اول - کوه‌ها به صورت توده‌هایی از شن نرم در آیند. (۲) دوم - کوه‌ها به صورت توده‌هایی از شن نرم در آیند.
 (۳) اول - کوه‌ها در آن روز سخت به لرزه درآیند. (۴) دوم - کوه‌ها در آن روز سخت به لرزه درآیند.
- ۵۶ بعد از مرحله دوم گام گذاشتن در مسیر بندگی و قرب الهی و همچنین برای ثابت ماندن در این راه، نوبت کدام عمل فرا می‌رسد؟
- (۱) اگر در انجام عهد خود موفق بوده‌ایم، خوب است خدا را سپاسگزار باشیم.
 (۲) باقی ماندن بر پیمان خود با خدا و وفای بر عهد که رضایت خدا را در پی دارد.
 (۳) از خداوند طلب بخشش کنیم و با تصمیم قوی‌تر، دوباره با خداوند عهد ببندیم.
 (۴) با خدای خود پیمان می‌بندد که آنچه را برای رسیدن به این هدف مشخص کرده، انجام دهد.
- ۵۷ در چه صورتی هر نتیجه‌ای که از کار انسان حاصل شود به مصلحت اوست و دیگر نباید نسبت به آن نتیجه و محصول عمل، نگرانی وجود داشته باشد؟
- (۱) به خدا اعتماد نموده و کار و نتیجه‌اش را به خداوند واگذار کند.
 (۲) کارها به خدایی که از هر کس به بندگانش مهربان‌تر است سپرده شود.
 (۳) در عین عمل به وظیفه و انجام صحیح مسئولیت به خدا توکل نماید.
 (۴) بداند که گاهی چیزهایی را به نفع خود می‌پنداریم در حالی که به ضرر ماست.
- ۵۸ کسی که غسل بر او واجب است، روزه‌اش در ماه مبارک رمضان چه حکمی دارد؟
- (۱) اگر سهل‌انگاری کند و غسل نکند تا وقت تنگ شود، نمی‌تواند روزه بگیرد و در مورد غسل نکردن معصیت کرده است.
 (۲) اگر عمداً تا اذان صبح غسل نکند یا اگر وظیفه‌اش تیمم است، تیمم نکند، می‌تواند روزه بگیرد و باید قضای آن را هم به جا آورد.
 (۳) اگر عمداً تا اذان صبح غسل نکند یا اگر وظیفه‌اش تیمم است، سهواً تیمم نکند می‌تواند روزه بگیرد و باید یک مد طعام به فقیر بدهد.
 (۴) اگر سهل‌انگاری کند و غسل نکند تا وقت تنگ شود، می‌تواند با تیمم روزه بگیرد و روزه‌اش صحیح است و در مورد غسل نکردن معصیت کرده است.
- ۵۹ دستور الهی بیان شده در روایت نبوی «امرنا ان نكلم الناس على قدر عقولهم» با توجه به فطری بودن سرمایه تفکر، بیانگر کدام مورد است؟
- (۱) بیان پیامبران درباره اصول ثابت دین مانند توحید، متناسب با رشد مردم بوده است.
 (۲) رشد تدریجی سطح فکری مردم موجب شده تا ابد، در هر دوره‌ای پیامبر جدیدی مبعوث شود.
 (۳) سخن گفتن متناسب با فهم و اندیشه انسان‌های هر دوران، نشان‌دهنده تحریف تعلیمات قبلی است.
 (۴) ویژگی‌های خاص همه انسان‌ها یکی است و خداوند متناسب با همین خصوصیات فطری، انسان را هدایت می‌نماید.

۶۰- آمدن پیامبر جدید نشانه چیست و کدام سرنوشت در انتظار کسانی است که به آخرین پیامبر ایمان نیاورده‌اند؟

- (۱) بخشی از تعلیمات پیامبر قبلی، پاسخ‌گوی نیازهای مردم نیست - ﴿ذَلِكَ هُوَ الْخُسْرَانُ الْمُبِينُ﴾
- (۲) بخشی از تعلیمات پیامبر قبلی، پاسخ‌گوی نیازهای مردم نیست - ﴿هُوَ فِي الْآخِرَةِ مِنَ الْخَاسِرِينَ﴾
- (۳) پیروان پیامبر قبلی از دستورات او سرپیچی کرده و اطاعت نمی‌کنند - ﴿ذَلِكَ هُوَ الْخُسْرَانُ الْمُبِينُ﴾
- (۴) پیروان پیامبر قبلی از دستورات او سرپیچی کرده و اطاعت نمی‌کنند - ﴿هُوَ فِي الْآخِرَةِ مِنَ الْخَاسِرِينَ﴾

۶۱- شیطان به گمراهی کدام گروه از افراد امیدوار است؟

- (۱) ﴿يُوعِدُونَ أَنَّهُمْ آمَنُوا بِمَا نُزِّلَ إِلَيْكَ﴾
- (۲) ﴿إِنْ كَانُوا مِنْ قَبْلُ لَفِي ضَلَالٍ مُبِينٍ﴾
- (۳) ﴿يُرِيدُ الشَّيْطَانُ أَنْ يُضِلَّهُمْ ضَلَالًا بَعِيدًا﴾
- (۴) ﴿يُرِيدُونَ أَنْ يُتَحَاكَمُوا إِلَى الطَّاغُوتِ﴾

۶۲- کدام عبارات به ترتیب، مرتبط با دو یادگار گرانبهای پیامبر اسلام (ﷺ) می‌باشد؟

- (۱) ﴿وَمَا مُحَمَّدٌ إِلَّا رَسُولٌ قَدْ خَلَتْ مِنْ قَبْلِهِ الرُّسُلُ﴾ - ﴿وَمَا كَانَ الْمُؤْمِنُونَ لِيَنفِرُوا كَافَّةً﴾
- (۲) ﴿وَلَوْ كَانَ مِنْ عِنْدِ غَيْرِ اللَّهِ لَوَجَدُوا فِيهِ اخْتِلَافًا كَثِيرًا﴾ - ﴿وَمَا كَانَ الْمُؤْمِنُونَ لِيَنفِرُوا كَافَّةً﴾
- (۳) ﴿وَمَا مُحَمَّدٌ إِلَّا رَسُولٌ قَدْ خَلَتْ مِنْ قَبْلِهِ الرُّسُلُ﴾ - ﴿إِنَّ الَّذِينَ آمَنُوا وَعَمِلُوا الصَّالِحَاتِ أُولَئِكَ هُمْ خَيْرُ الْبَرِيَّةِ﴾
- (۴) ﴿وَلَوْ كَانَ مِنْ عِنْدِ غَيْرِ اللَّهِ لَوَجَدُوا فِيهِ اخْتِلَافًا كَثِيرًا﴾ - ﴿إِنَّ الَّذِينَ آمَنُوا وَعَمِلُوا الصَّالِحَاتِ أُولَئِكَ هُمْ خَيْرُ الْبَرِيَّةِ﴾

۶۳- پیش‌بینی حضرت علی (علیه السلام) در مورد این موضوع که «زمانی که هیچ کالایی رایج‌تر و فراوان‌تر از قرآن نیست» و «چه هنگامی انسان می‌تواند پیرو قرآن باشد» به ترتیب کدام است؟

- (۱) به صورت وارونه و به نفع دنیاطلبان معنایش کنند - عمل‌کنندگان واقعی به قرآن را بشناسد.
- (۲) وقتی بتوانید به عهد خود با قرآن وفادار بمانید - عمل‌کنندگان واقعی به قرآن را بشناسد.
- (۳) به صورت وارونه و به نفع دنیاطلبان معنایش کنند - فراموش‌کنندگان قرآن را بشناسد.
- (۴) وقتی بتوانید به عهد خود با قرآن وفادار بمانید - فراموش‌کنندگان قرآن را بشناسد.

۶۴- با توجه به کلام حکیمانه حضرت علی (علیه السلام) که زمین از حجت خدا (امام) خالی نمی‌ماند، به چه علت مردم از وجود حجت در میانشان بی‌بهره شده‌اند و وعده خداوند در این مورد چیست؟

- (۱) فراهم نشدن شرایط ظهور برای آن حضرت - ﴿لَيْسَتْ خَلْقَتُهُمْ فِي الْأَرْضِ كَمَا اسْتَخْلَفَ الَّذِينَ مِنْ قَبْلِهِمْ...﴾
- (۲) ستمگری انسان‌ها و زیاده‌روی‌شان در گناه - ﴿لَيْسَتْ خَلْقَتُهُمْ فِي الْأَرْضِ كَمَا اسْتَخْلَفَ الَّذِينَ مِنْ قَبْلِهِمْ...﴾
- (۳) فراهم نشدن شرایط ظهور برای آن حضرت - ﴿ذَلِكَ بِأَنَّ اللَّهَ لَمْ يَكُ مُغَيِّرًا نِعْمَةً أَنْعَمَهَا عَلَى قَوْمٍ...﴾
- (۴) ستمگری انسان‌ها و زیاده‌روی‌شان در گناه - ﴿ذَلِكَ بِأَنَّ اللَّهَ لَمْ يَكُ مُغَيِّرًا نِعْمَةً أَنْعَمَهَا عَلَى قَوْمٍ...﴾

۶۵- با توجه به آیه شریفه ﴿يَا أَيُّهَا النَّبِيُّ اتَّقِ اللَّهَ...﴾ پیامبر اکرم (ﷺ) از همراهی و پیروی چه کسانی نهی شده‌اند؟

- (۱) مشرکین - مرتدین (۲) کافرین - مرتدین (۳) کافرین - منافقین (۴) مشرکین - منافقین

۶۶- به ترتیب، کدام مورد به «زمان مناسب برای ازدواج» و «آثار پاسخ‌گویی ناصحیح به نیاز جنسی» اشاره نموده است؟

- (۱) کمترین تأخیر پس از بلوغ جنسی و عقلی - خرد شدن شخصیت
- (۲) کمترین تأخیر پس از بلوغ جنسی و عقلی - لذت‌گریزی ناشی از گناه
- (۳) پس از کنار گذاشتن پندارهای باطل و رسوم غلط - خرد شدن شخصیت
- (۴) پس از کنار گذاشتن پندارهای باطل و رسوم غلط - لذت‌گریزی ناشی از گناه

۶۷- قرآن کریم، رابطه میان خداوند و جهان هستی را با کدام کلمه بیان می‌کند و معنای دقیق آن چیست؟

- (۱) خداوند نور هستی است - تمام موجودات، وجود خود را از او می‌گیرند.
- (۲) خداوند رب العالمین است - تمام موجودات، وجود خود را از او می‌گیرند.
- (۳) خداوند نور هستی است - تصرف و سرپرستی مخلوقات، به دست خداوند است.
- (۴) خداوند رب العالمین است - تصرف و سرپرستی مخلوقات، به دست خداوند است.

۶۸- کدام مورد، توضیح مناسبی جهت تبیین مرز توحید و شرک می‌باشد؟

- (۱) در مقام پذیرش ولایت الهی باید هرگونه اثر را از اشیا و یا انسان‌ها سلب کنیم.
- (۲) در متون دینی بارها بر تأثیر نداشتن موجودات گوناگون در عالم تأکید شده است.
- (۳) برای قبول توحید در ربوبیت ضرورتی ندارد که هرگونه اثر را از اشیا و یا انسان‌ها سلب کنیم.
- (۴) می‌توان با قبول اثر مخلوقات این اثر را مستقل از خداوند دانست و ارتباط آن با خداوند منتفی می‌باشد.

۶۹- کدام مورد، مفهوم آیه شریفه ﴿يَا أَيُّهَا الَّذِينَ آمَنُوا لَا تَتَّخِذُوا عَدُوِّي وَعَدُوَّكُمْ أَوْلِيَاءَ...﴾ را تبیین و تأکید می‌نماید؟

- (۱) ﴿وَمِنَ النَّاسِ مَن يَتَّخِذُ مِن دُونِ اللَّهِ أَندَادًا﴾
- (۲) ﴿وَلَن يَجْعَلَ اللَّهُ لِلْكَافِرِينَ عَلَى الْمُؤْمِنِينَ سَبِيلًا﴾
- (۳) ﴿يُرِيدُ الَّذِينَ يَتَّبِعُونَ الشَّهَوَاتِ أَنْ تَمِيلُوا مَيْلًا عَظِيمًا﴾
- (۴) ﴿أَرَأَيْتَ مَنِ اتَّخَذَ إِلَهَهُ هَوَاهُ أ فَأَنْتَ تَكُونُ عَلَيْهِ وَكِيلًا﴾

۷۰- مفهوم بیت زیر در تبیین کدام فرمایش پیشوایان دین قابل ارائه می‌باشد؟

«پاسبان حرم دل شده‌ام شب همه شب تا در این پرده جز اندیشه او نگذارم»

- (۱) حاسبوا انفسكم قبل ان تحاسبوا
 - (۲) نَبِيَّةُ الْمُؤْمِنِ خَيْرٌ مِنْ عَمَلِهِ
 - (۳) مَنْ يَعِشْ بِالْإِحْسَانِ أَكْثَرُ مِمَّنْ يَعِشُ بِالْأَعْمَارِ
 - (۴) فاعل الخیر خیر منه و فاعل الشر شر منه
- ۷۱- سنت بیان شده در کدام آیه شریفه، عام‌ترین و فراگیرترین قانون خداوند می‌باشد که ثابت و همیشگی است و شامل همه انسان‌ها در همه دوران‌ها می‌شود؟

- (۱) ﴿وَأْمَلَىٰ لَهُمْ إِنْ كَيْدِي مَبِينٌ﴾
- (۲) ﴿كُلًّا نُمِدُّ هَؤُلَاءِ وَهَؤُلَاءِ مِنْ عَطَاءِ رَبِّكَ﴾
- (۳) ﴿كُلُّ نَفْسٍ ذَائِقَةُ الْمَوْتِ وَ نَبَلُّوْكُمْ بِالْأَسْرِ وَالْخَيْرِ فِتْنَةً وَإِلَيْنَا تُرْجَعُونَ﴾
- (۴) ﴿وَلَوْ أَنَّ أَهْلَ الْقُرَىٰ آمَنُوا وَ اتَّقَوْا لَفَتَحْنَا عَلَيْهِم بَرَكَاتٍ مِنَ السَّمَاءِ وَ الْأَرْضِ﴾

۷۲- کدام عبارت، توضیح مناسبی برای تبیین علت و جرایب حرکت انسان به سمت گناه می‌باشد؟

- (۱) انسان باید میان گرایش‌های خویش به خیر و نیکی تعادل برقرار کند تا جلوی طغیان امیال و غرایز خود را بگیرد.
 - (۲) غرایز و گرایش به خیر و نیکی برای زندگی مادی و امیال و امور فطری در جهت رشد زندگی معنوی انسان است.
 - (۳) انسان به‌طور فطری به دنبال عمل صالح از یک طرف و گناه و بدی از طرف دیگر می‌باشد و یک‌سویه نمی‌شود.
 - (۴) در وجود انسان امیال برای حیات مادی ضروری است ولی گاهی حد و مرز آن رعایت نمی‌شود.
- ۷۳- به سخن امام باقر (علیه السلام) به محمد بن مسلم که فرمودند «مراقب باش مؤمنین را از رحمت خدا مأیوس نکنی» در جهت تبیین کدام سنت الهی می‌توان استناد جست؟

- (۱) ﴿مَنْ آمَنَ بِاللَّهِ وَ الْيَوْمِ الْآخِرِ وَ عَمِلَ صَالِحًا فَلَهُمْ أَجْرُهُمْ عِنْدَ رَبِّهِمْ﴾
- (۲) ﴿كُلًّا نُمِدُّ هَؤُلَاءِ وَ هَؤُلَاءِ مِنْ عَطَاءِ رَبِّكَ وَ مَا كَانَ عَطَاءُ رَبِّكَ مَحْضُورًا﴾
- (۳) ﴿مَنْ جَاءَ بِالْحَسَنَةِ فَلَهُ عَشْرُ أَمْثَالِهَا وَ مَنْ جَاءَ بِالسَّيِّئَةِ فَلَا يُجْزَىٰ إِلَّا بِمِثْلِهَا﴾
- (۴) ﴿وَلَوْ أَنَّ أَهْلَ الْقُرَىٰ آمَنُوا وَ اتَّقَوْا لَفَتَحْنَا عَلَيْهِم بَرَكَاتٍ مِنَ السَّمَاءِ وَ الْأَرْضِ﴾

۷۴- کدام مورد را می‌توان به‌عنوان مصداق مناسبی برای روشی که خداوند متعال در آیه شریفه ﴿ادْعُ إِلَى سَبِيلِ رَبِّكَ بِالْحُكْمَةِ وَ الْمَوْعِظَةِ الْحَسَنَةِ وَ جَادِلْهُمْ بِالَّتِي هِيَ أَحْسَنُ...﴾ به پیامبر گرامی‌اش آموزش داده است، ارائه نمود؟

- (۱) ﴿ذَلِكَ بِأَنَّ اللَّهَ لَمْ يَكُ مُغَيِّرًا نِعْمَةً أَنْعَمَهَا عَلَىٰ قَوْمٍ حَتَّىٰ يُغَيِّرُوا مَا بِأَنْفُسِهِمْ وَ أَنَّ اللَّهَ سَمِيعٌ عَلِيمٌ﴾
- (۲) ﴿يَسْأَلُونَكَ عَنِ الْخَمْرِ وَ الْمَيْسِرِ قُلْ فِيهِمَا إِثْمٌ كَبِيرٌ وَ مَنَافِعُ لِلنَّاسِ وَإِثْمُهُمَا أَكْبَرُ مِنْ نَفْعِهِمَا﴾
- (۳) ﴿وَ كَذَلِكَ جَعَلْنَاكُمْ أُمَّةً وَسَطًا لِتَكُونُوا شُهَدَاءَ عَلَى النَّاسِ وَ يَكُونَ الرُّسُلُ عَلَيْكُمْ شُهَدَاءَ﴾
- (۴) ﴿فَلَوْ لَا نَفَرْنَا مِنْ كُلِّ قَرْيَةٍ مِنْهُمْ طَائِفَةٌ لَيَتَفَقَّهُوا فِي الدِّينِ وَ يُنذِرُوا قَوْمَهُمْ إِذَا رَجَعُوا إِلَيْهِمْ﴾

۷۵- در بررسی معیارهای تمدن اسلامی، کدام مورد با مفهوم مندرج در آیه ﴿يَا أَيُّهَا الَّذِينَ آمَنُوا أَطِيعُوا اللَّهَ وَ أَطِيعُوا الرُّسُلَ وَ أُولِي الْأَمْرِ مِنْكُمْ﴾ شباهت دارد و آن را تبیین می‌نماید؟

- (۱) ﴿وَ مَنْ يَتَّبِعْ غَيْرَ الْإِسْلَامِ دِينًا فَلَن يُقْبَلَ مِنْهُ وَ هُوَ فِي الْآخِرَةِ مِنَ الْخَاسِرِينَ﴾
- (۲) ﴿وَ مَا مُحَمَّدٌ إِلَّا رَسُولٌ قَدْ خَلَتْ مِن قَبْلِهِ الرُّسُلُ أَفَإِن مَاتَ أَوْ قُتِلَ انْقَلَبْتُمْ عَلَىٰ أَعْقَابِكُمْ﴾
- (۳) ﴿وَ لَيَمَكِّنَنَّ لَهُمْ دِينَهُمُ الَّذِي ارْتَضَىٰ لَهُمْ وَ لَيُبَدِّلَنَّهُمْ مِنْ بَعْدِ خَوْفِهِمْ أَمْنًا يُعْبُدُونَنِي لَا يُشْرِكُونَ بِي شَيْئًا﴾
- (۴) ﴿أَلَمْ تَرَ إِلَى الَّذِينَ يَزْعُمُونَ أَنَّهُمْ آمَنُوا بِمَا نُزِّلَ إِلَيْكَ وَ مَا أَنتَ إِلَّا نَذِيرٌ مِّن قَبْلِكَ يُرِيدُونَ أَنْ يَتَحَاكَمُوا إِلَى الطَّاغُوتِ﴾

Part A. Grammar and Vocabulary

Directions: Questions 76-87 are incomplete sentences. Beneath each sentence you will see four words or phrases marked (1), (2), (3), and (4). Choose the one word or phrase that best completes the sentence. Then mark your answer sheet.

- 76- Fire blight, a common disease of apple trees, ----- with an antibiotic spray.
 1) can sometimes be controlled 2) can sometimes control
 3) by controlling, it can sometimes 4) it sometimes can be controlled
- 77- You're always tired. If you didn't go to bed so late every night, you ----- tired all the time.
 1) weren't 2) wouldn't be 3) hadn't been 4) haven't been
- 78- Basal body temperature is ----- temperature of a healthy person during waking hours.
 1) low 2) as low 3) the lowest 4) lower than
- 79- On nights when the sky is clear -----, the earth's surface radiates heat into the atmosphere.
 1) and the air calm 2) or the air as clam
 3) that the calm air 4) and calm is the air
- 80- I was surprised by the ----- of the choices that were available.
 1) notice 2) variety 3) access 4) introduction
- 81- People are hungry for anything which gives their lives shape and sense of -----.
 1) purpose 2) emotion 3) ethics 4) symbol
- 82- After years of research, scientists have ----- the virus that is responsible for the disease.
 1) founded 2) injured 3) appreciated 4) identified
- 83- The book ----- a 28-day workout plan that women can do at home or in the gym.
 1) weaves 2) achieves 3) contains 4) imagines
- 84- Readers of the magazine said they wanted more stories about ----- people and fewer stories about the rich and famous.
 1) useful 2) elderly 3) advanced 4) ordinary
- 85- -----, until recently little attention has been paid to reducing the vast quantity of food that is thrown away every year.
 1) Correctly 2) Immediately 3) Surprisingly 4) Accidentally
- 86- The region where we go for our holidays is becoming ----- popular.
 1) increasingly 2) generously 3) emotionally 4) primarily
- 87- She isn't used to working for her own money; her husband gives her everything that she wants. She has even crashed her new car. I guess it's a case of -----.
 1) easy come, easy go
 2) practice makes perfect
 3) actions speak louder than words
 4) don't count your chickens before they hatch

Part B. Cloze Test

Directions: Questions 88-92 are related to the following passage. Read the passage and decide which choice (1), (2), (3), or (4) best fits each space. Then mark your answer sheet.

It is possible that sleep plays an important role in health, but scientists are not yet sure what it is. Some psychologists argue that it allows the brain (88) ----- and store information. However, (89) ----- for scientists to study sleep effectively because they have no way to find out exactly what is going through a person's head while he or she is asleep. What people remember afterward may (90) ----- accurate or complete. However, in recent years, (91) ----- have been carried out with new technology that has made it possible to learn a great deal more about sleep. Scientists placed special equipment on the heads of sleeping people to (92) ----- the electrical activity of the brain. Based on the results of these studies, the scientists now think that sleep may serve a number of purposes for the brain and the body.

- | | | | | |
|-----|--------------|-------------------|-----------------------|--------------------|
| 88- | 1) rest | 2) resting | 3) to rest | 4) that it rests |
| 89- | 1) difficult | 2) that difficult | 3) there is difficult | 4) it is difficult |
| 90- | 1) be not | 2) not be | 3) do not be | 4) not being |
| 91- | 1) products | 2) solutions | 3) temperatures | 4) experiments |
| 92- | 1) exist | 2) respect | 3) measure | 4) prevent |

Part C. Reading Comprehension

Directions: In this part of the test, you will read two passages. Each passage is followed by four questions. Answer the questions by choosing the best choice (1), (2), (3), or (4). Then mark your answer sheet.

PASSAGE 1:

A Plastic Ocean is a film to make you think. Think, and then act. We need to take action on our dependence on plastic. We have been producing plastic in huge quantities since the 1940s. Drink bottles, shopping bags, toiletries and even clothes are made with plastic. We live in a world full of plastic and only a small proportion is recycled. What happens to all the rest? This is the question the film *A Plastic Ocean* answers. It is a documentary that looks at the impact that plastic waste has on the environment. The impact is devastating.

The film begins as a journey to film the largest animal on the planet, the blue whale. But during the journey the filmmakers make the shocking discovery of a huge, thick layer of plastic floating in the middle of the Indian Ocean. This prompts them to travel around the world to look at other areas that have been affected. In total, they visited 20 locations around the world during the four years it took them to make the film.

It is very clear that a lot of research went into the film. There are beautiful shots of the seas and marine life. These are contrasted with scenes of polluted cities and dumps full of plastic rubbish. We see how marine species are being killed by all the plastic we are dumping in the ocean. The message about our use of plastic is painfully obvious.

- 93- **What is the author's main purpose in the passage?**
- 1) To compare several filmmakers
 - 2) To suggest a solution to a problem
 - 3) To explain the causes of plastic dumping
 - 4) To provide details about a documentary
- 94- **The phrase "the rest" in paragraph 1 refers to -----.**
- 1) plastic that is not recycled
 - 2) the world which is full of plastic
 - 3) the question *A Plastic Ocean* answers
 - 4) a small amount of plastic which is not reused
- 95- **According to the passage, the filmmakers who are shown in *A Plastic Ocean* -----.**
- 1) are against blue whale hunting
 - 2) do not plan to make a film about plastic pollution at first
 - 3) spend over 4 years working in the Indian Ocean
 - 4) do not film locations which are far away

96- According to the passage, which of the following statements about *A Plastic Ocean* is TRUE?

- 1) It is based on extensive research.
- 2) It takes attention away from marine life problems.
- 3) It mostly contains scenes of polluted cities.
- 4) It is hard for nonscientists to understand.

PASSAGE 2:

Culture shock begins with the “honeymoon stage”. This is the period of time when we, travelers, first arrive in a foreign country. In this stage, everything about the new culture is strange and exciting. We may be suffering from “jet lag” but we are thrilled to be in the new environment, seeing new sights, hearing new sounds and language, eating new kinds of food. This honeymoon stage can last for quite a long time because we feel we are involved in some kind of great adventure.

Unfortunately, the second stage of culture shock can be more difficult. After we have settled down into our new life, working or studying, buying groceries, doing laundry, or living with a home-stay family, we can become very tired and begin to miss our homeland and our family, friend, pets. All the little problems that everybody in life has seem to be much bigger and more disturbing when you face them in a foreign culture. This period of cultural adjustment can be very difficult and lead to the new arrival rejecting or pulling away from the new culture. This “rejection stage” can be quite dangerous because the visitor may develop unhealthy habits (smoking too much, being too concerned over food or contact with people from the new culture). This can, unfortunately, lead to the person getting sick or developing skin infections or rashes which then makes the person feel even more scared and confused and helpless. This stage is considered a crisis in the process of cultural adjustment and many people choose to go back to their homeland or spend all their time with people from their own culture speaking their native language.

97- What does the passage mainly discuss?

- 1) Who suffers most in the first and second stages of culture shock
- 2) Culture shock and success in a foreign country
- 3) Difficulties of moving to a foreign country
- 4) The first two stages of culture shock

98- It is suggested in paragraph 1 that in the honeymoon stage hearing new sounds and language -----.

- 1) has a positive influence on travelers
- 2) sometimes makes travelers confused
- 3) is the most important source of entertainment for travelers
- 4) is more enjoyable for travelers than eating new kinds of food

99- The word “that” in paragraph 2 refers to -----.

- 1) life
- 2) problems
- 3) everybody
- 4) culture

100- Which of the following statements about a person in the rejection stage is NOT supported by the information in paragraph 2?


- 1) They may experience homesickness.
- 2) They may develop physical problems.
- 3) They may feel they are wasting their kinetic energy.
- 4) They may develop habits that are harmful to their health.

کد کنترل

671

A

خارج از کشور



671A



دفترچه فرهنگ و معارف اقلیت‌های
دینی و زبان‌های خارجی غیرانگلیسی
(ضمیمه دفترچه شماره ۱)
صبح جمعه

جمهوری اسلامی ایران
وزارت علوم، تحقیقات و فناوری
سازمان سنجش آموزش کشور

«اگر دانشگاه اصلاح شود مملکت اصلاح می‌شود.»
امام خمینی (ره)

آزمون سراسری ورودی دانشگاه‌های کشور - ۱۴۰۰

آزمون فرهنگ و معارف اقلیت‌های دینی و زبان‌های خارجی غیرانگلیسی
گروه‌های آزمایشی علوم ریاضی، علوم تجربی، علوم انسانی، هنر و زبان

زبان خارجی
آلمانی، فرانسه، روسی، ایتالیایی

فرهنگ و معارف اقلیت‌های دینی
مسیحی، زرتشتی، کلیبی

تعداد: ۲۵ سؤال مدت پاسخ‌گویی: ۲۰ دقیقه

تعداد: ۲۵ سؤال مدت پاسخ‌گویی: ۱۷ دقیقه

سال ۱۴۰۰

حق چاپ، تکثیر و انتشار سؤالات به هر روش (الکترونیکی و ...) پس از برگزاری آزمون، برای تمامی اشخاص حقیقی و حقوقی آنها با سبب این سازمان مجاز می‌باشد و با استغنان برابر مقررات رفتار می‌شود.

* داوطلب گرامی، عدم درج مشخصات و امضاء در مندرجات جدول ذیل، به منزله عدم حضور شما در جلسه آزمون است.

اینجانب..... با شماره داوطلبی..... با آگاهی کامل، یکسان بودن شماره صندلی خود را با شماره داوطلبی مندرج در بالای کارت ورود به جلسه، بالای پاسخنامه و دفترچه سؤالات، نوع و کد کنترل درج شده بر روی دفترچه سؤالات و پائین پاسخنامه ام را تأیید می نمایم.

امضاء:

- ۵۱- برای کدام مورد باید دلیل آورده شود؟
 (۱) «وحی» وجود دارد.
 (۲) «معجزه» وجود ندارد.
 (۳) «معجزه» مانند «وحی» است.
 (۴) نمی دانم «وحی» وجود دارد یا ندارد.
- ۵۲- کدام مورد، در پیدایش پدیده نظم وجودش قطعی و تردیدناپذیر است؟
 (۱) حسابگری در انتخاب اجزاء
 (۲) خصوصیات ناظم، جلوه گر در پدیده نظم
 (۳) وجود یک بینش درست نسبت به جهان
 (۴) وجود باوری عمیق و تأثیرگذار در موضع گیری های انسان
- ۵۳- کدام بیت، می تواند پاسخ مناسبی برای این پرسش باشد که چرا بعضی از افراد با وجود میل نیرومند فطری خداجویی، از پرستش خداوند روی برمی تابند و خدا را انکار می کنند؟
 (۱) دستگیری نتوان داشت توقع ز غریق
 (۲) خلوت دل نیست جای صحبت اغیار
 (۳) ما که باشیم ای تو ما را جان جان
 (۴) اندر دل من هزار خورشید بتافت
- ۵۴- در تعالیم دینی کدام مورد در رأس کلیه برنامه ها قرار دارد؟
 (۱) انسان سازی
 (۲) خدامحوری
 (۳) اعتقاد به معاد
 (۴) عدالت خواهی
- ۵۵- این فرمایش پیشوایان دین: «آن چه را برای خود می خواهید، برای دیگران نیز بخواهید» به کدام راه و روش مبارزه با خودخواهی اشاره دارد؟
 (۱) بصیرت و آگاهی
 (۲) خالص کردن عمل
 (۳) تعیین حریم برای غرایز
 (۴) تحصیل فضایل اخلاقی
- ۵۶- کدام بیت، نادرست بودن عبارت «پدیده های جهان بی قید و شرط قدم در عرصه هستی گذارده اند.» را عیان و آشکار می نماید؟
 (۱) هم چنان هر یک به جزیی کو رسید
 (۲) که بلای دوست تظہیر شماسست
 (۳) دستگیری نتوان داشت توقع ز غریق
 (۴) بر دم آن از دهان و از لبش
 فهم آن می کرد و بر آن می تنید
 علم او بالای تدبیر شماسست
 کاهل دنیا همه درمانده تر از یکدگرند
 تا پدید آید ضمیر و مذهبش

- ۵۷- کدام مورد، به بت اعظمی اشاره دارد که سرچشمه شرک پنهان می باشد؟
- (۱) کف به حس بینی و دریا از دلیل
 (۲) دل گرچه در این بادیه بسیار شتافت
 (۳) دستگیری نتوان داشت توقع ز غریق
 (۴) میان عاشق و معشوق هیچ حایل نیست
- ۵۸- پیشوایان دین ایمان را اعتقاد به دل، و عمل به اعضا معرفی فرموده اند.
- (۱) وارستگی از خودخواهی
 (۲) حرکت به سوی خدا
 (۳) اقرار به زبان
 (۴) باور به خداوند
- ۵۹- پذیرش این که خداوند متعال تربیت کننده جهانیان است ما را به درک کدام اصل راهنمایی می کند و معنای آن کدام است؟
- (۱) هدایت عمومی - همه موجودات جهان در اثر نیروی شگفت انگیزی در درونشان به سوی مقصد معینی در حرکت هستند.
 (۲) حکمت الهی - همه موجودات جهان در اثر نیروی شگفت انگیزی در درونشان به سوی مقصد معینی در حرکت هستند.
 (۳) هدایت عمومی - همگان از نعمت های الهی به صورت عادلانه بهره مند می شوند و حتی حیوانات هم بهره خود را دارند.
 (۴) حکمت الهی - همگان از نعمت های الهی به صورت عادلانه بهره مند می شوند و حتی حیوانات هم بهره خود را دارند.
- ۶۰- کدام مورد، از خصوصیات مهم اهداف و کمالاتی نمی باشد که انبیاء با توجه به تمامی واقعیت های جهان هستی انسان را به سویشان هدایت می کنند؟
- (۱) خواسته فطری انسان است.
 (۲) تحقق آن اهداف در جهان خارج امکان پذیر است.
 (۳) شکوفا کننده همه استعدادها و ارزش های روحانی اوست.
 (۴) با دستیابی به هدف های مادی، طبع بی نهایت جوی انسان را 'رضا نماید.
- ۶۱- امتیازی که انسان نسبت به جمادات و گیاهان و حیوانات دارد کدام است و «انسانیت» او چگونه قابل تعریف است؟
- (۱) تکامل زیستی و پیچیدگی ساختمان جسمی او می باشد - در ارتباط با خدا
 (۲) تکامل زیستی و پیچیدگی ساختمان جسمی او می باشد - در ارتباط با جامعه
 (۳) فعالیت هایش تأمین کننده بخشی از نیازهای حیاتی او می باشد - در ارتباط با خدا
 (۴) فعالیت هایش تأمین کننده بخشی از نیازهای حیاتی او می باشد - در ارتباط با جامعه

۶۲- بزرگ ترین تکیه گاه روحی و معنوی اهل ایمان چیست و بهترین معیار برای تشخیص و ارزیابی ایمان خود و دیگران کدام است؟

- ۱) اخلاق خوب - اعمال و کردار و خصوصیات روحی و اخلاقی فرد
- ۲) یاد خداوند - اعمال و کردار و خصوصیات روحی و اخلاقی فرد
- ۳) اخلاق خوب - انجام درست وظایف فردی و اجتماعی خود فرد
- ۴) یاد خداوند - انجام درست وظایف فردی و اجتماعی خود فرد

۶۳- در مکتب آسمانی، تعیین ارزش ها و مسئولیت ها چگونه است؟

- ۱) قراردادی و قانون تعیین کننده آن است.
- ۲) در تمام مراحل برعهده خود انسان نهاده است.
- ۳) هرگز برعهده انسان ها واگذار نگردیده است.
- ۴) در دنیا قابل واگذاری نیست و مربوط به قیامت است.

۶۴- بعید شمردن معاد از جانب منکرین معاد به کدام جهت است؟

- ۱) آن را به میزان قدرت و توانایی خویش می سنجند و از قدرت نامحدود خداوند غفلت می ورزند.
- ۲) چون جهان هستی را در جهان ماده خلاصه نمی بینند و با مرگ حیات او ادامه می یابد، از آن غافل می شود.
- ۳) چون مراحل آفرینش خود را از وقتی که به صورت قطره آبی بوده و سپس تحول پیدا کرده فراموش کرده است.
- ۴) اینکه با فرا رسیدن زمستان فروغ حیات و زندگی رخت بر بسته و با بهار، نور حیات دمیده می شود را از یاد برده اند.

۶۵- کیفر و پاداش در حیات اخروی بر چه اساسی است؟

- ۱) همان اعمال دنیایی است که گزارش آن در قیامت داده می شود.
- ۲) محصول طبیعی خود عملی است که در دنیا انجام داده است.
- ۳) تناسب جرم و مجازات در آن مطرح می باشد و عادلانه است.
- ۴) جرم از مجرم جدا نیست و کیفر و پاداش عین عمل اوست.

- ۶۶- مردم لستره با دیدن شفای لنگ مادرزاد به دست پولس، چه گفتند؟
 (۱) این مرد، متقلب است.
 (۲) ما همگی مسیحی خواهیم شد.
 (۳) اینک آخر زمان فرا رسیده است.
 (۴) خدایان به صورت انسان نزد ما نازل شده اند.
- ۶۷- پولس در آخرین وصایایش به کشیشان افسس، چگونه می دانست که از خون همه تری است؟
 (۱) همه الهیات مسیحی را در رساله اش به آن کلیسا، ذکر کرده بود.
 (۲) زیرا با اعلام نمودن تمامی اراده خدا به آن ها، کوتاهی نکرده بود.
 (۳) وعده داده بود که زمان مرگ، در شهر آنان اقامت کند.
 (۴) به آن ها در کز اداره کلیسا، اختیار تام داده بود.
- ۶۸- هفت هفته پس از مرگ و زنده شدن مسیح، چه روزی فرا رسید؟
 (۱) عید پسخ
 (۲) عید عروج
 (۳) پنطیکاست
 (۴) دادن شاخه های نخل به ایمانداران
- ۶۹- دومین معجزه عیسی مسیح بعد از بیرون آمدن از یهودیه، چه بود؟
 (۱) شفای ایلعازر در بالاخانه
 (۲) بخشیدن گناهان زن سامری
 (۳) شفای پسر افسر کفرناحوم
 (۴) دادن نان و ماهی به پنج هزار نفر
- ۷۰- هنگامی که یهودیان به عیسی می گویند تو مسیح نیستی، چه پاسخی داد؟
 (۱) زنده شدن من پس از سه روز و قیام از مردگان نشان دهنده این است که مسیح موعود هستم.
 (۲) معجزاتی را که به قدرت پدرم انجام می دهم، ثابت می کند من مسیح هستم.
 (۳) پیشگویی تورات در مورد من نشان دهنده آن است که مسیح هستم.
 (۴) من اگر مسیح نبودم همانند شما پدر جسمانی داشتم.
- ۷۱- طبق فرمایش عیسی، محبت واقعی را چگونه باید سنجید؟
 (۱) با ترازوی ایمان، عمل و امید
 (۲) با ایمان و فدا شدن در راه مسیح
 (۳) با گذشت از خطاهای دیگران و تسلیم مسیح بودن
 (۴) جان خود را در راه دیگران فدا سازیم.
- ۷۲- کدام یک از شاگردان باور نکرد که مسیح زنده شده است؟
 (۱) توما
 (۲) فیلیپ
 (۳) اندریاس
 (۴) شمعون پطرس
- ۷۳- اولین چیزی که پولس رسول در باب اول رساله اش به قرنطیان از مخاطبان خود می خواهد، چیست؟
 (۱) همه یک سخن بگویند و در آن ها شقاق نباشد.
 (۲) رساله اش را به سراسر دنیا بفرستند.
 (۳) پیرو شریعت موسی عمل کنند.
 (۴) از قوانین ابراهیم پیروی کنند.
- ۷۴- نامه اول پولس، به قرنطیان در مورد چه بود؟
 (۱) محبت و ایمان
 (۲) مسائل زناشویی
 (۳) زندگی و ایمان مسیحی
 (۴) ایمان به خدای یگانه
- ۷۵- کدام گزینه، عبارت زیر را کامل می کند؟
 «اگر خدا از ما دعوت می کند تا زندگی خود را به مسیح بسپاریم،»
 (۱) باید طبق شریعت عمل کنیم.
 (۲) محبت مسیح را در الویت قرار دهیم.
 (۳) از آن پس باید روزه و دعا را ترک نکنیم.
 (۴) لزومی ندارد شرایط و موقعیت سابق خود را تغییر دهیم.

- ۶۶- کدام گزینه، دربارهٔ آریان‌ها و مسکن نخستین آن‌ها نادرست است؟
 (۱) زبان مشترک آریان‌ها هندواروپایی نام دارد.
 (۲) سرزمین اصلی آریان‌های ایران در اوستا آئیرینه و نجه نام دارد.
 (۳) آریان‌ها شاخه ایرانی و هندی خود را آریایی به معنی «نجیب و آزاده» می‌نامیدند.
 (۴) آریان‌ها شاخه گسترده‌ای از نژاد سپیدند که در سرزمین‌های جنوب ایران و شمال روسیه می‌زیستند.
- ۶۷- کدام گزینه، دربارهٔ ویژگی هومت و هوخت و هورشت درست نیست؟
 (۱) اندیشه و گفتار و کرداری است که در راه رسیدن به اهداف والا از انجام هیچ کاری سر باز نزنند.
 (۲) اندیشه و گفتار و کرداری که با همهٔ توان از راستی دفاع کند و در برابر دروغ و تزویر بایستد.
 (۳) اندیشه و گفتار و کرداری که با یکدیگر همساز و هماهنگ باشد و به سوی بالا حرکت کند.
 (۴) اندیشه و گفتار و کرداری که با قانون و هنجار هستی همراه و همساز باشد.
- ۶۸- کدام گزینه، ارتباط مستقیم با مفهوم هات ۳۰ بند ۲ گاهان ندارد: «ای مردم این حقیقت را با گوش بشنوید و با اندیشهٔ روشن آن‌ها را بررسی کنید. سپس هر مرد و زن راه نیک و بد را برای خویش برگزیند.»
 (۱) خردمند آفریده شدن انسان
 (۲) برخورداری انسان از قدرت اختیار
 (۳) توجه به شادی و آرامش در زندگی
 (۴) آزادی در گزینش راه که دست‌آورد مهم خرد است.
- ۶۹- کدام گزینه، در رابطه با فلسفه شادی و رنج از دیدگاه اشوزرتشت درست نیست؟
 (۱) پیروی از راستی مهم‌ترین راه رسیدن به خوشبختی و شادی حقیقی است.
 (۲) دوری از جهان مادی راه شادی واقعی و رهایی از رنج است.
 (۳) دروغ سبب دور شدن از خرسندی و مایهٔ رنج انسان می‌شود.
 (۴) خوشبختی از آن کسی است که دیگران را خوشبخت سازد.
- ۷۰- بوی و برنگ شامل چیست؟
 (۱) شیر و تخم‌مرغ
 (۲) مجموعه‌ای از هفت نوع میوه خشک
 (۳) سیرگ، تخم‌مرغ سرخ شده و سیروسداب
 (۴) مجموعه همه خوراکی‌هایی که برای گاهنبار تهیه می‌شود.
- ۷۱- عبارت اوستایی «دینبا ونگهویا مازده‌یسنواپش» در وصف کدام ایزد آمده است؟
 (۱) آشی (۲) چیستا (۳) میثره (۴) فروشی
- ۷۲- براساس گفته افلاطون آزادگی و چیرگی بر خویشتن را کدام آموزگار به شاهزاده ایرانی می‌آموخت؟
 (۱) آموزگار پارسا (۲) آموزگار فرزانه
 (۳) آموزگار دادورز (۴) آموزگار دلیر
- ۷۳- کدام گزینه، شامل بخش‌های مینوی وجود انسان است که جاودانی و بی‌پایان هستند؟
 (۱) بوی، اهو، دئنا (۲) روان، دئنا، فروهر
 (۳) بوی، روان، تن (۴) دئنا، اهو، فروهر
- ۷۴- براساس آموزه‌های اشوزرتشت، انسان با تکیه بر کدام نیرو، نیکی و بدی را برمی‌گزیند؟
 (۱) خرد (۲) اخلاق نیک (۳) راستی (۴) آموزه‌های گاهانی
- ۷۵- معنای خشره و ئیریه چیست؟
 (۱) شهرباری نیک (۲) شهرباری مقدس (۳) بهترین شهرباری (۴) شهرباری آرزو شده

- ۶۶- اولین پاسوق (آیه) تورا، کدام است؟
 (۱) بزرگ و مقدس است نام او
 (۲) خد - اوند در ابتدا آسمان ها و زمین را آفرید.
 (۳) و این است اسامی کسانی که به مصر وارد شدند.
 (۴) پشنو بنی اسرائیل خد - ای خالق ما خد - ای یکتاست.
- ۶۷- معنی کلمه تلمود به فارسی چیست؟ تلمود از مجموع کدام کتاب ها تشکیل شده است؟
 (۱) آموزش و تعلیم - میشنا و گمارا
 (۲) تحصیل و مطالعه - میشنا و گمارا
 (۳) آموزش و تعلیم - میشنا و شولخان عاروخ
 (۴) تحصیل و مطالعه - میشنا و شولخان عاروخ
- ۶۸- جهت پخت مصا، بین عمل تهیه خمیر تا وارد کردن آن به تنور حداکثر چه فاصله زمانی باید رعایت گردد؟
 (۱) ۵ دقیقه (۲) ۱۰ دقیقه (۳) ۲۰ دقیقه (۴) ۳۰ دقیقه
- ۶۹- هارامیام در کدام کتاب خود کلیه قوانین توراى شفاهی (تلمود) را به طور روشن و مختصر شرح داده، اما از ذکر بحث بین علما در اثبات قوانین خودداری کرده است؟
 (۱) موره نووخیم
 (۲) راهنمای گمگشتگان
 (۳) مائور (روشنایی)
 (۴) میشنه تورا (دست قوی)
- ۷۰- در کدام مورد، مسئولان موظف می باشند که تا آخرین لحظه رسیدن آن به دست مردم، بر همه مراحل نظارت دقیق داشته باشند؟
 (۱) مرغ (۲) ماهی (۳) گوشت (۴) انگور و زیتون
- ۷۱- پیدایش و فروپاشی گروه قرائیم در کدام دوران اتفاق افتاد؟
 (۱) تنائیم (۲) گتونیم (۳) اموراییم (۴) سوراییم
- ۷۲- تقسیم بندی یهودیان سفارادی و اشکنازی چگونه آغاز شد؟
 (۱) با ساخته شدن اولین گتو
 (۲) اخراج یهودیان از اسپانیا
 (۳) با نوشتن رساله سعدیا علیه قرائیم
 (۴) با سقوط بابل به عنوان یک مرکز مهم
- ۷۳- مشهورترین قبالیست (دانشمند قبالا) قرون پس از دوره تنائیم کیست؟
 (۱) اری زال (بیصحاق لوریا اشکنازی)
 (۲) راشی (ربی شلومو بن بیصحاق)
 (۳) هزارامبام (ربی مشه بن مایمون)
 (۴) ربی العازار
- ۷۴- نام فارسی هگ شاووعوت کدام است؟ به کدام علت این نام انتخاب گردیده است؟
 (۱) جشن درو - چون مصادف با دروی گندم است.
 (۲) جشن درو - چون مصادف با دروی جو است.
 (۳) جشن هفته ها - به علت شمردن هفت هفته از فردای روز اول پسخ
 (۴) جشن هفته ها - به علت شمردن هفت هفته از فردای روز اول شاووعوت
- ۷۵- کدام مورد، از وقایع عصر گنولا (نجات نهایی) نمی باشد؟
 (۱) پایان بدی و گناه
 (۲) پایان تفیلین بستن
 (۳) همزیستی مسالمت آمیز و صلح جهانی
 (۴) احیای سنت های اولیه عبادت یهود

Teil A: Grammatik

- 76- Gestern war das Wetter kalt und er ----- (ziehen) sich warm an.
1) zog 2) zieht 3) zogt 4) ziehte
- 77- Welche Bedeutung hat das Modalverb im Satz „Er will sein Haus verkaufen“?
1) Absicht 2) Erlaubnis 3) Bedingung 4) Fähigkeit
- 78- Wir als Eltern denken oft -----, Geld für unsere Kinder und Enkel zurückzulegen.
1) dafür 2) darauf 3) davon 4) daran
- 79- In welchem Kasus steht die Präposition im Satz „Ab nächster Woche habe ich mehr Zeit“?
1) Dativ 2) Genitiv 3) Akkusativ 4) Nominativ
- 80- In welchem Tempus steht der Satz „Die Frau stammte aus Norwegen“?
1) Futur I 2) Perfekt 3) Präsens 4) Präteritum
- 81- Schapl ist ein ----- Laden. Dort werden gebrauchte Schallplatten und Musikkassetten verkauft.
1) kleine 2) kleines 3) kleiner 4) kleinen
- 82- Ich ----- meinen Kollegen nicht beleidigen. Aber er hat mir keine andere Wahl gelassen.
1) wurde 2) wollte 3) konnte 4) musste
- 83- Das ist ----- Klassenkamerad Hakon. Er kommt aus Island.
1) meine 2) mein 3) meiner 4) meins
- 84- ----- kommt der Zug aus Frankfurt im Bahnhof an? – In fünfzehn Minuten.
1) Wie lange 2) Warum 3) Wann 4) Wie
- 85- ----- es draußen regnete, wollte Sara keinen Regenschirm mitnehmen.
1) Ob 2) Wann 3) Damit 4) Obwohl

Teil B: Vokabeln

- 86- Der Suezkanal in Ägypten ----- das Rote Meer mit dem Mittelmeer.
1) verhindert 2) verkauft 3) verbindet 4) verwechselt
- 87- Ein ----- ist jemand, der beruflich Vieh züchtet oder Getreide, Kartoffeln usw. anpflanzt.
1) Maurer 2) Konditor 3) Tankwart 4) Landwirt
- 88- Dieses Medikament ist in den Apotheken nur auf ----- zu erhalten.
1) Probe 2) Rezept 3) Befehl 4) Wunsch
- 89- Um nach Deutschland zu reisen, brauchen Sie nicht nur -----, sondern auch ein Visum.
1) ein Passwort 2) eine Kreditkarte
3) einen Reisepass 4) einen Führerschein
- 90- Welches Wort passt nicht in die Reihenfolge?
1) Zange 2) Hörsaal 3) Hammer 4) Schraubenzieher

Teil C: Lückentest

Ergänzen Sie den Text mit den richtigen Auswahlmöglichkeiten!

Die Giraffe hat einen zwei bis drei Meter langen (91) -----, Trotzdem kann sie mit dem Maul den (92) ----- nur dann erreichen, wenn sie die Vorderbeine (93) ----- auseinanderstellt. Das braucht sie fast nie zu tun, (94) ----- sie sich ihre Nahrung von den Bäumen pflückt. Einer erwachsenen Giraffe kann kaum ein anderes Tier gefährlich werden. Sie ist sehr (95) -----.

- | | | | | |
|-----|----------|----------|-----------|------------|
| 91- | 1) Hals | 2) Feder | 3) Rüssel | 4) Schwanz |
| 92- | 1) Dach | 2) Vogel | 3) Zweig | 4) Boden |
| 93- | 1) weit | 2) lang | 3) hoch | 4) dünn |
| 94- | 1) je | 2) ob | 3) da | 4) aber |
| 95- | 1) breit | 2) stark | 3) mager | 4) elend |

Teil D: Leseverstehen

Die Niederlande grenzen im Westen an Deutschland und im Süden an Belgien. Das Land ist etwas kleiner als das deutsche Bundesland Niedersachsen. Trotzdem ist es sehr dicht besiedelt, ungefähr 16,7 Millionen Menschen leben dort. Der vollständige Name der Niederlande lautet "Königreich der Niederlande". Amsterdam ist die Hauptstadt. Die Regierung befindet sich aber in Den Haag. Neben dem europäischen Teil gehören auch Gebiete in der Karibik zu den Niederlanden. Königin Beatrix ist seit 1980 das Staatsoberhaupt des Königreiches. Sie herrscht aber nicht allein, sondern teilt sich die Macht mit dem Parlament. Größtenteils nimmt die niederländische Königin nur repräsentative Aufgaben wahr, so ähnlich wie der Bundespräsident in Deutschland. Die Niederlande sind eines der sechs Gründungsmitglieder der Europäischen Gemeinschaft, aus der sich später die Europäische Union entwickelt hat. Seit 2002 bezahlt man wie in Deutschland mit dem Euro, davor mit Gulden. Die Amtssprache der Niederlande ist Niederländisch.

- 96- **Welche Staatsform haben die Niederlande?**
 1) Republik 2) Königreich 3) Fürstentum 4) Volksrepublik
- 97- **Mit welcher Währung bezahlt man in den Niederlanden?**
 1) Euro 2) Krone 3) Rubel 4) Pfund
- 98- **Die Niederlande sind ----- Deutschland.**
 1) größer als 2) gleich groß wie
 3) viel kleiner als 4) doppelt so groß wie
- 99- **In welche Stadt befindet sich der Regierungssitz von Niederlanden?**
 1) Utrecht 2) Den Haag 3) Rotterdam 4) Amsterdam
- 100- **Das Staatsoberhaupt von den Niederlanden hat größtenteils dieselben Aufgaben wie der -----.**
 1) deutsche Bundeskanzler 2) englische Premierminister
 3) deutsche Ministerpräsident 4) deutsche Bundespräsident

А. Выберите правильный вариант ответа:

- 76- Он весь вечер ждал звонка -----.
 1) из Москвы 2) Москва 3) в Москве 4) Москву
- 77- ----- интересуется только литература.
 1) Ему 2) У него 3) Его 4) С ним
- 78- ----- не было в кабинете.
 1) С зубным врачом 2) Зубного врача
 3) К зубному врачу 4) У зубного врача
- 79- Вы поедете на экскурсию -----?
 1) на автобус 2) в автобус 3) автобус 4) на автобусе
- 80- ----- находится в Москве.
 1) Большой театр 2) В большом театре
 3) В большой театр 4) Большому театру
- 81- Михаил все время говорит -----.
 1) мою работу 2) моя работа 3) о моей работе 4) моей работы
- 82- Я дружусь -----, с кем хочу.
 1) о том 2) с тем 3) тому 4) того
- 83- ----- нравится серьезная музыка.
 1) Пину 2) Пина 3) Пине 4) С Пиной
- 84- На выставке Марта купила словари, ----- у нее не было.
 1) которые 2) которым 3) который 4) которых
- 85- Он встретил спортсмена, ----- сегодня была пресс-конференция.
 1) у которых 2) у которого 3) которая 4) который
- 86- Мой друг уже ----- экзамен по русскому языку.
 1) сдал 2) сдавать 3) сдать 4) сдавал
- 87- Виктор не знает, ----- находится аптека.
 1) куда 2) где 3) как 4) чему
- 88- В Москву мы ----- целую ночь.
 1) ходить 2) ходили 3) ездить 4) ехали
- 89- Она смотрит на глобус, ----- на столе.
 1) стоящих 2) стоящее 3) стоящий 4) стоящая
- 90- ----- стать учителем, он поступил в педагогический институт.
 1) Решив 2) Решивших 3) Решившего 4) Решившим

Б. Дополните текст, используя подходящее по смыслу слово.

Прошло четыре (91) ----- . В городе у Старцева была уже (92) ----- практика. Каждое утро он спешно принимал больных у себя в Дялиже, потом уезжал (93) ---- ----- городским большим, уезжал уже не на паре, а на тройке с (94) -----, и возвращался домой поздно (95) -----.

- | | | | | |
|-----|--------------|----------------|---------------|---------------|
| 91- | 1) год | 2) года | 3) лет | 4) годы |
| 92- | 1) большое | 2) большой | 3) большую | 4) большая |
| 93- | 1) к | 2) у | 3) в | 4) на |
| 94- | 1) бубенчики | 2) бубенчиками | 3) бубенчиков | 4) бубенчикам |
| 95- | 1) ночь | 2) ночи | 3) ночью | 4) ночах |

В. Прочитайте текст и выполните задания после него:

Однажды вечером я (Денис) сидел во дворе, возле песка, и ждал маму. Она, наверно, задерживалась в институте, или в магазине, или, может быть, долго стояла на автобусной остановке. Не знаю. Только все родители нашего двора уже пришли, и все ребята пошли с ними по домам и уже, наверно, пили чай с бубликами и брызгой, а моей мамы все еще не было...

И мне захотелось есть, а мамы все не было, и я подумал, что, если бы я знал, что моя мама хочет есть и ждет меня где-то на краю света, я бы моментально к ней побежал, а не опаздывал бы и не заставлял ее сидеть на песке и скучать.

И в это время во двор вышел Мишка. Он сказал: – Здорово!

И я сказал: – Здорово!

Мишка сел со мной и взял в руки самосвал.

– Ого! – сказал Мишка. – Где достал? А он сам набирает песок? Не сам? А сам сваливает? Да? А ручка? Для чего она? Ее можно вертеть? Да? А? Ого! Дашь мне его домой?

Я сказал: – Нет, не дам. Подарок. Папа подарил перед отъездом...

- 96- Почему Денис сидел вечером во дворе?
 1) ждал маму
 2) ждал друга
 3) вышел подышать воздухом
 4) ему было просто нечего делать
- 97- О чем Денис думал?
 1) о том, куда пропал его друг
 2) о том, чем ему заняться
 3) о том, где могла задержаться мама
 4) о том, как интересно жить на свете
- 98- Что стал рассматривать Мишка?
 1) игрушечный танк Дениса
 2) игрушечный самолет Дениса
 3) игрушечный пистолет Дениса
 4) игрушечный самосвал Дениса
- 99- О чем Мишка попросил Дениса?
 1) подарить ему игрушку
 2) дать ему игрушку домой
 3) дать ему немного поиграть
 4) продать ему игрушку
- 100- Что ответил Денис Мишке?
 1) «Конечно, бери».
 2) «А что ты мне за это дашь?».
 3) «За него можешь дать два Барбадоса?».
 4) «Нет, это папа подарил перед отъездом».

Capitolo A: Indicate la risposta corretta

- 76- **Sento la necessita' di togliere ----- polvere dal pavimento.**
 1) le 2) il 3) lo 4) la
- 77- **Signor Rossi, mi sento solo, posso venire ----- Lei?**
 1) a 2) da 3) di 4) per
- 78- **Alessandra e' andata ----- vedere un nuovo film che oggi danno al cinema.**
 1) a 2) per 3) di 4) al
- 79- **Il mio amico non e' riuscito a trovare lavoro ----- due anni.**
 1) in 2) di 3) per 4) con
- 80- **Mario che esercita professionalmente la medicina e' -----.**
 1) medico 2) dottore 3) insegnante 4) cantante
- 81- **Disposizione o collocazione che permette od offre la visione di oggetti o fatti determinati al pubblico e' -----.**
 1) societa' 2) agenzia 3) mostra 4) azienda
- 82- **Roberta e Antonia arrivano domani. Vogliamo ----- a cena.**
 1) invitarli 2) invitarle 3) invitarli 4) invitarmi
- 83- **Dubito che questo ----- un messaggio diretto a noi.**
 1) sii 2) sia 3) fosse 4) sarebbe
- 84- **Voglio che tu ----- i compiti.**
 1) finirebbe 2) finisce 3) finisci 4) finisca
- 85- **Signore, spero che gli ----- questo libro.**
 1) piace 2) piaci 3) piaccia 4) piaccio
- 86- **Chiamo Mario-----il telefono non funziona.**
 1) quando 2) a meno che 3) fino a quando 4) dopo che
- 87- **Io leggevo un romanzo quando Paolo -----.**
 1) mi chiamo' 2) mi chiamava 3) mi chiama 4) mi chiamai
- 88- **Ci dici cosa ha raccontato Carlo? No, non voglio -----.**
 1) dirtelo 2) dirvela 3) dirglielo 4) dirvelo
- 89- **Agli inglesi piace ----- bere il te' ----- il cappuccino.**
 1) tanto-che 2) piu' -tanto 3) tanto-piu' 4) piu' -che
- 90- **Avrei mandato una lettera se non ----- il suo indirizzo.**
 1) avessi perduto 2) avesti perduto 3) avresti perduto 4) avrei perduto

Capitolo B: Completate il seguente testo con le parole proposte

Due turisti sono in Italia, a Firenze. Sono marito e moglie. Il marito: Cara, sono stanco e ho (91) ----- . Abbiamo girato tutto il giorno. Abbiamo visitato tre chiese e due musei: abbiamo visto almeno cento (92) ----- ed un enorme numero di quadri. Adesso basta: ho bisogno di mangiare, ho bisogno di riposo. La moglie: ma, caro stiamo a Firenze due giorni soltanto. Ci sono tante cose che non abbiamo visto (93) ----- e non abbiamo molto tempo. Io ho portato due panini e così non abbiamo bisogno di trovare un ristorante. Il marito: Ma io sono stanco e ho fame. Abbiamo camminato tanto. Ah, questi poveri piedi! La moglie: Quei poveri piedi sono stati (94) ----- riposo sul letto per otto ore. Se adesso camminano un'ora o due non e' un disastro. E poi ho sentito che oggi c'e' una festa bella, un gioco di calico (95) ----- costume.

- | | | | | |
|-----|------------|-----------|------------|-------------|
| 91- | 1) fame | 2) fama | 3) pena | 4) angoscia |
| 92- | 1) statuei | 2) statei | 3) statue | 4) statui |
| 93- | 1) ora | 2) finora | 3) tuttora | 4) ancora |
| 94- | 1) a | 2) in | 3) di | 4) da |
| 95- | 1) su | 2) in | 3) del | 4) di |

Capitolo C: Leggete il testo e rispondete alle domande seguenti

Pietro dice: Da qualche tempo dormo soltanto due o tre ore la notte. È un bel guaio per me, ma non so come rimediare. Non mi piacciono i vari sonniferi perché, anche se dormo, mi danno un atroce mal di testa. Per me l'unico compenso c'è quello dei sogni. Quando uno dorme male sogna molto, almeno così capita a me. È spesso questi sogni sono interessanti e divertenti. Per esempio stanotte ho fatto un sogno molto curioso. Ero in campagna; dietro di me c'era un muro molto alto e sopra il muro c'era un soldato. Io sapevo che dall'altra parte del muro, c'erano molti animali feroci e affamati, ma sapevo anche che io ero fuori di ogni pericolo. Camminavo per la campagna, guardavo gli alberi e i fiori, ero senza pensieri, assolutamente in pace.


- | | | | | |
|------|--|-------------------------|----------------|-----------------|
| 96- | Pietro di solito dorme -----. | | | |
| | 1) poco | 2) molto | | |
| | 3) abbastanza bene | 4) in pace | | |
| 97- | I vari sonniferi -----. | | | |
| | 1) piacciono a Roberto | 2) costano troppo | | |
| | 3) fanno male a Roberto | 4) fanno bene a Roberto | | |
| 98- | Roberto nel suo sogno -----. | | | |
| | 1) dorme | 2) cammina | 3) si sveglia | 4) vede i sogni |
| 99- | Nel suo sogno, Roberto era -----. | | | |
| | 1) un povero | 2) ricchissimo | 3) un mercante | 4) gentile |
| 100- | Roberto camminava -----. | | | |
| | 1) nell'aria | 2) per il campo | | |
| | 3) sulla strada | 4) per la campagna | | |

کُد کنترل

361

A

خارج از کشور



361A



دفترچه شماره ۲
صبح جمعه

«اگر دانشگاه اصلاح شود مملکت اصلاح می‌شود.»
امام خمینی (ره)

جمهوری اسلامی ایران
وزارت علوم، تحقیقات و فناوری
سازمان سنجش آموزش کشور

آزمون سراسری ورودی دانشگاه‌های کشور - ۱۴۰۰

گروه آزمایشی علوم انسانی آزمون اختصاصی

مدت پاسخ‌گویی: ۱۶۵ دقیقه

تعداد سؤال: ۱۸۰

ردیف	مواد امتحانی	تعداد سؤال	از شماره	تا شماره	مدت پاسخ‌گویی
۱	ریاضی	۲۰	۱۰۱	۱۲۰	۲۵ دقیقه
۲	اقتصاد	۱۵	۱۲۱	۱۳۵	۱۰ دقیقه
۳	زبان و ادبیات فارسی	۳۰	۱۳۶	۱۶۵	۳۰ دقیقه
۴	زبان عربی	۲۰	۱۶۶	۱۸۵	۲۰ دقیقه
۵	تاریخ	۱۵	۱۸۶	۲۰۰	۲۵ دقیقه
۶	جغرافیا	۱۵	۲۰۱	۲۱۵	
۷	علوم اجتماعی	۲۰	۲۱۶	۲۳۵	۱۵ دقیقه
۸	فلسفه و منطق	۲۵	۲۳۶	۲۶۰	۲۵ دقیقه
۹	روان‌شناسی	۲۰	۲۶۱	۲۸۰	۱۵ دقیقه

سال ۱۴۰۰

حق چاپ، تکثیر و انتشار سؤالات به هر روش (الکترونیکی و ...) پس از برگزاری آزمون، برای تمامی اشخاص حقیقی و حقوقی تنها با مجوز این سازمان مجاز می‌باشد و با متخلفان برابر سقرات رفتار می‌شود.

* داوطلب گرامی، عدم درج مشخصات و امضاء در مندرجات جدول ذیل، به منزله عدم حضور شما در جلسه آزمون است.

اینجانب..... با شماره داوطلبی..... با آگاهی کامل، یکسان بودن شماره سندلی خود را با شماره داوطلبی مندرج در بالای کارت ورود به جلسه، بالای پاسخنامه و دفترچه سؤالات، نوع و کدکنترل درج شده بر روی دفترچه سؤالات و پائین پاسخنامه ام را تأیید می نمایم.

امضاء:

۱۰۱- فرض کنید تابع درآمد شرکتی به ازای تولید x محصول از یک کالا به صورت $R(x) = -\frac{1}{2}x^2 + 30x$ و تابع هزینه

به صورت $C(x) = ax + 18$ باشد. اگر بیشترین سود این شرکت به ازای تولید ۹ واحد کالا باشد، مقدار a کدام است؟

- (۱) ۲۱ (۲) ۱۸ (۳) -۲۱ (۴) -۳۹

۱۰۲- اگر عبارت‌های گویا تعریف شده باشند، قدرمطلق تفاضل جواب‌های معادله $1 = \frac{9x^2 - (x+3)^2}{2x-3} - \frac{2}{x}$ ، کدام است؟

- (۱) صفر (۲) $\frac{1}{2}$ (۳) ۱ (۴) $\frac{2}{2}$

۱۰۳- فرض کنید $f(x) = \frac{2x-1}{[x] - \text{sign}(x)}$ ، بر مجموعه $\{-2/5, 2/1, 0/8, 4\}$ تعریف شده باشد. ماکزیمم عضو مجموعه برد

تابع f ، کدام است؟

- (۱) $\frac{7}{3}$ (۲) ۳ (۳) $3/2$ (۴) ۴

۱۰۴- فرض کنید $f(x) = |x-1|$ ، $g(x) = [2x]$ و $h(x) = \text{sign}(-x)$ باشد. ضابطه تابع $y = 2f(x) - h(x)g(x)$ در بازه

$-\frac{3}{2} < x < -1$ ، کدام است؟

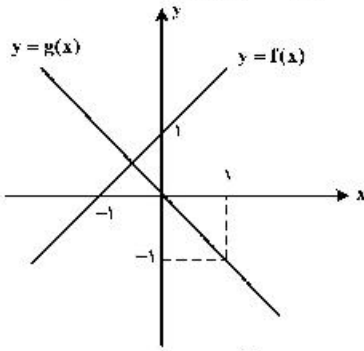
- (۱) $3x - 2$ (۲) $5 - 2x$ (۳) $-2x + 2$ (۴) $-8x - 4$

۱۰۵- اگر معادله $\frac{x^2 - a}{x + 3} = 2x - 1$ ، دارای دو ریشه حقیقی متمایز باشد، محدوده تغییرات a ، کدام می‌تواند باشد؟

- (۱) $a < 9$ (۲) $a > 9$ (۳) $a < \frac{37}{4}$ (۴) $a > \frac{37}{4}$

محل انجام محاسبات

۱۰۶- فرض کنید نمودار تابع‌های خط راست $y = f(x)$ و $y = g(x)$ در صفحه مختصات مطابق شکل زیر داده شده باشند.



قدر مطلق اختلاف جواب‌های معادله $\frac{f^2(x)}{g(x)} = 2$ کدام است؟

- (۱) $\sqrt{3}$
 (۲) $\frac{2}{\sqrt{3}}$
 (۳) $2\sqrt{3}$
 (۴) $3\sqrt{3}$

۱۰۷- فرض کنید $f = \{(x, x^2) \mid x = \pm 5, \pm 4, \dots, \pm 1, 0\}$ و $g = \{(x, x^2) \mid x = \pm 5, \pm 4, \dots, \pm 1, 0\}$ دو تابع در

صفحه مختصات باشند. تعداد عناصر برد تابع $y = \frac{g}{f}(x)$ کدام است؟

- (۱) ۱۱ (۲) ۱۰ (۳) ۶ (۴) ۵

۱۰۸- نمودار تابع با ضابطه $y = a\left(\frac{1}{3}\right)^x$ در نقطه‌ای به عرض ۴ محور y را قطع می‌کند. مقدار تابع در $x = -2$ کدام است؟

- (۱) $\frac{4}{9}$ (۲) $\frac{9}{4}$ (۳) ۲۷ (۴) ۳۶

۱۰۹- اگر $3^A \times 12^B = \frac{\frac{1}{3^4} \times \frac{1}{3^8} \times \frac{1}{9^{22}} \times \frac{1}{9^{64}}}{\frac{1}{3^2} \times \frac{1}{4^2} \times 3^8 \times 4^8}$ باشد، مقدار $A+B$ کدام است؟

- (۱) $-\frac{13}{32}$ (۲) $\frac{13}{32}$ (۳) $\frac{13}{16}$ (۴) $-\frac{13}{16}$

۱۱۰- اگر $z, x+2, x, x-1, y$ جملات متوالی یک دنباله هندسی باشند، مقدار xyz کدام است؟

- (۱) ۲ (۲) ۴ (۳) ۸ (۴) ۱۶

۱۱۱- جمله پنجم یک دنباله حسابی با اختلاف مشترک ناصفر، واسطه هندسی بین جملات سوم و نهم آن دنباله است.

اگر جمله پنجم دنباله ۷ باشد، جمله صد و یکم دنباله، کدام است؟

- (۱) ۲۰۰ (۲) ۱۷۵ (۳) ۱۵۰ (۴) ۱۲۵

۱۱۲- جمله دهم دنباله بازگشتی $a_{n+1} = \frac{1}{a_n} + 1$ و $a_1 = 1$ ، کدام است؟

- (۱) $\frac{55}{34}$ (۲) $\frac{144}{89}$ (۳) $\frac{610}{377}$ (۴) $\frac{89}{55}$

۱۱۳- جدول ارزشی کدام گزاره با جدول ارزشی گزاره $(p \Rightarrow q) \Rightarrow (r \wedge (p \Rightarrow q))$ ، یکسان نیست؟

- (۱) $p \vee q \vee r$ (۲) $(p \wedge \sim q) \vee r$ (۳) $\sim (p \Rightarrow q) \vee r$ (۴) $(p \vee r) \wedge (q \Rightarrow r)$

۱۱۴- ارزش گزاره $(\sim(p \Leftrightarrow q) \wedge p) \Rightarrow \sim q$ ، کدام است؟

- (۱) همواره درست است.
 (۲) همواره نادرست است.
 (۳) به ارزش q بستگی دارد.
 (۴) به ارزش p بستگی دارد.

۱۱۵- اگر $A \subseteq B'$ باشد، حاصل $((A - B) \cup (B - A))'$ ، کدام است؟

- (۱) $A \cap B$ (۲) $A' \cap B'$ (۳) $A \cup B$ (۴) $A' \cup B'$

۱۱۶- در یک بازی ۱۶ نفره به هر نفر یکی از شماره‌های ۳، ۴، ۵، ...، ۱۸ را تخصیص می‌دهیم. سه تاس را پرتاب می‌کنیم و اعداد روشده را با یکدیگر جمع می‌کنیم. شخصی که آن شماره را داشته باشد، انتخاب می‌شود. احتمال این که شخص صاحب شماره ۱۰ انتخاب شود، کدام است؟

- (۱) $\frac{1}{10}$ (۲) $\frac{1}{9}$ (۳) $\frac{1}{8}$ (۴) $\frac{1}{7}$

۱۱۷- برای اندازه‌گیری ویژگی افراد یا اشیاء با دقت زیاد از کدام مقیاس اندازه‌گیری، استفاده می‌شود؟

- (۱) اسمی (۲) نسبی (۳) ترتیبی (۴) فاصله‌ای

۱۱۸- در یک جامعه با میانگین ۴۰ تقریباً ۶۸ درصد داده‌ها بین ۳۵ و ۴۵ قرار می‌گیرند. واریانس داده‌ها، کدام است؟

- (۱) ۵ (۲) ۱۵ (۳) ۲۵ (۴) ۴۰

۱۱۹- جمعیت ده کشور دنیا برحسب میلیون نفر به صورت داده‌های زیر است.

۸۵، ۱۰۵۰، ۲۴۰، ۸۵، ۶۵، ۳، ۸، ۴۲، ۲۵، ۳۶

نسبت دامنه کل به دامنه میان چارکی، کدام است؟

- (۱) $۱۲/۳۵$ (۲) $۱۷/۴۵$ (۳) $۱۹/۳۵$ (۴) $۱۹/۵۵$

۱۲۰- مقدار بارندگی یک شهر در روزهای مختلف هفته اول سال، برحسب میلی‌متر، به صورت جدول زیر است؟

روز	شنبه	یکشنبه	دوشنبه	سه‌شنبه	چهارشنبه	پنجشنبه	جمعه
مقدار بارندگی (میلی‌متر)	۱۲	۱۱	۵	۱۳	۷	۱۵	x

در جدول فوق داده x معلوم است. پیش‌بینی می‌شود مقدار بارندگی این شهر روز سه‌شنبه هفته جدید ۱۵ میلی‌متر باشد. میانگین مقدار بارندگی در هفته اول سال، کدام است؟

- (۱) ۹ (۲) $۱۰/۸$ (۳) $۱۱/۲$ (۴) ۱۴

محل انجام محاسبات

۱۲۱- کدام گزینه مبین پاسخ درست و کامل سؤالات زیر است؟

الف) مالیات بر «ارزش افزوده»، نوعی مالیات بر «.....» است که «.....» را از پرداخت مالیات «.....» ب) در ادبیات اقتصادی به کسی که حتی در صورت دسترسی به امکانات معیشتی توانایی استفاده از آن‌ها را هم ندارد چه می‌گویند؟

ج) بهترین روش «تحریک تقاضای کل جامعه» که در مواقع رکود بتواند رونق را به بازار برگرداند چیست؟

۱) الف) فروش دو مرحله‌ای - کالا و خدمات واسطه‌ای - نمی‌رهاند. ب) فقیر مطلق ج) کاهش مخارج جاری و عمرانی دولت و کاهش نرخ‌های مالیاتی یا پایه‌های مالیاتی

۲) الف) فروش دو مرحله‌ای - کالا و خدمات سرمایه‌ای - نمی‌رهاند. ب) فقیر اقتصادی ج) کاهش مخارج جاری یا عمرانی دولت و افزایش نرخ‌های مالیاتی یا پایه‌های مالیاتی

۳) الف) فروش چند مرحله‌ای - کالاها و خدمات سرمایه‌ای - معاف می‌کند. ب) فقیر خاص ج) افزایش مخارج جاری یا عمرانی دولت و افزایش نرخ‌های مالیاتی یا پایه‌های مالیاتی

۴) الف) فروش چند مرحله‌ای - کالا و خدمات واسطه‌ای - معاف می‌کند. ب) مسکین ج) افزایش مخارج جاری یا عمرانی دولت و کاهش نرخ‌های مالیاتی یا پایه‌های مالیاتی

۱۲۲- در یک جامعه فرضی یک دستگاه سرمایه‌ای به قیمت ۸۵ میلیارد ریال و عمر مفید آن ۵ سال منظور شده است. در این صورت به ترتیب از راست به چپ:

الف) چنانچه در دو سال آخر عمر مفید این کالای سرمایه‌ای ۷ درصد افزایش قیمت داشته باشد، مجموع هزینه

استهلاک دو سال آخر، چه مقدار خواهد بود؟

ب) قیمت جدید کالای سرمایه‌ای چقدر است؟

ج) هر سال چه مقدار به‌عنوان هزینه استهلاکی باید منظور شود؟

ارقام به «میلیون و میلیارد ریال» است.

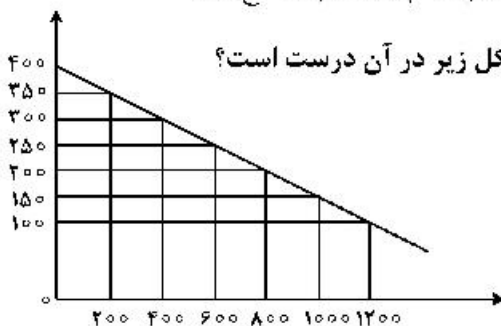
۱) الف) (الف) ۳۶,۳۸۰ (ب) ۹۰,۹۵۰ (ج) ۱۷

۲) الف) (الف) ۳۶,۳۸۰ (ب) ۹۰,۵۹۰ (ج) ۱۷

۳) الف) (الف) ۳۸,۳۶۰ (ب) ۹۰,۹۵۰ (ج) ۱۸

۴) الف) (الف) ۳۸,۳۶۰ (ب) ۹۰,۵۹۰ (ج) ۱۸

۱۲۳- کدام گروه از مشخصات در رابطه با نمودار منحنی ترسیم شده در شکل زیر در آن درست است؟



۱) معنا و مفهوم آن این است که با افزایش قیمت، مقدار تقاضا کاهش و با کاهش آن مقدار تقاضا افزایش می‌یابد - رابطه بین تقاضا و قیمت یک رابطه معکوس است - این منحنی مبین چگونگی رفتار اقتصادی مصرف‌کنندگان است - در این نمودار محور افقی بیانگر «مقدار» و محور عمودی مبین «قیمت کالا» است.

۲) معنا و مفهوم آن این است که با افزایش قیمت، مقدار عرضه کالا افزایش و با کاهش آن کاهش می‌یابد - موقعیت منحنی از راست به چپ نزولی است - رابطه بین تقاضا و قیمت یک رابطه غیرمستقیم است - این منحنی بیانگر چگونگی رفتار اقتصادی «تولیدکنندگان» است.

۳) معنا و مفهوم آن این است که با افزایش قیمت، مقدار تقاضا کاهش و با کاهش آن مقدار تقاضا افزایش می‌یابد - رابطه بین تقاضا و قیمت یک رابطه مستقیم است - این منحنی بیانگر چگونگی رفتار اقتصادی تولیدکنندگان است - نقطه تعادل همان نقطه تقاطع «قیمت و مقدار» است.

۴) معنا و مفهوم آن این است که با افزایش قیمت، مقدار عرضه کالا افزایش و با کاهش آن کاهش می‌یابد - رابطه بین عرضه و قیمت یک رابطه مستقیم است - این منحنی بیانگر چگونگی رفتار تولیدکنندگان است - موقعیت منحنی از راست به چپ صعودی است.

۱۲۴- پاسخ درست و کامل پرسش‌های زیر در کدام گزینه مطرح شده است؟

الف) کدام اثر و نتیجه، مربوط به برقراری ارتباط بین عرضه‌کنندگان و تقاضاکنندگان سرمایه در فعالیت‌های بورس تلقی می‌شود؟

ب) دو مؤسسه تولید محصولات صنعتی و تولید محصولات کشاورزی در استفاده از کدام نهاده‌های تولید، اشتراک دارند؟

ج) با توجه به مشکلات عدیده در دوران استفاده از کالاهای پولی انسان با استفاده از پول «.....» از به‌کارگیری کالاها در مبادلات رهایی یافت و استفاده از برخی فلزات از جمله «.....» را جایگزین آن‌ها نمود.

د) برخی از انواع بازارها را می‌توان دید که در قالب حراجی‌ها به دو صورت «.....» فعالیت می‌کنند. فروشندگان آثار هنری با برگزاری نمایشگاه‌ها و حراجی‌ها از روش «.....» و خریداران عمده کالاها و خدمات مثل خریدهای دولتی از روش «.....» استفاده می‌کنند.

۱) الف) کاهش نرخ تورم ب) ماشین‌آلات ج) کاغذی - اسکناس د) مزایده و مناقصه - مناقصه - مزایده

۲) الف) تنظیم معاملات بازار سرمایه ب) نیروی کار ج) فلزی - طلا و نقره د) مناقصه و مزایده - مزایده - مناقصه

۳) الف) افزایش حجم سرمایه‌گذاری ب) مواد اولیه ج) فلزی - مفرغ و نیکل د) رقابت و انحصار - مزایده - مناقصه

۴) الف) اجرای پروژه‌های بزرگ خصوصی و دولتی ب) سردخانه ج) پول کاغذی - رسیده‌های جایگزین پول د) رقابت و انحصار - مزایده - مناقصه

۱۲۵- مندرجات جدول زیر، مربوط به یک جامعه فرضی است. چنانچه مجموع ارزش اقلام: ماشین‌آلات، پوشاک، و مواد

غذایی ۱۳۵ میلیارد ریال باشد، در این صورت:

الف) تولید خالص ملی ب) تولید ناخالص داخلی ج) تولید خالص داخلی سرانه

در این جامعه، کدام است؟

۱	جمعیت کل کشور	۵۰ میلیون نفر
۲	ارزش تولید خارجیان مقیم کشور	۱/۵ برابر هزینه استهلاک
۳	هزینه استهلاک	۱۴ میلیارد ریال
۴	ارزش خدمات ارائه شده	$\frac{1}{3}$ ارزش تولید مردم کشور که در خارج اقامت دارند.
۵	ارزش تولید مردم کشور که در خارج اقامت دارند.	۴۵ میلیارد ریال

۱) الف) ۱۱۸ ب) ۱۷۱ ج) ۳/۱۴ د) الف) ۱۱۸ ب) ۷۱۱ ج) ۴/۱۳

۳) الف) ۱۸۱ ب) ۱۷۱ ج) ۳/۱۴ د) الف) ۱۸۱ ب) ۷۱۱ ج) ۴/۱۳

۱۲۶- کدام گزینه دربردارنده پاسخ درست و کامل پرسش‌های زیر است؟

الف) به دلیل کدام‌یک از فعالیت‌های بانکی، که در بخش واقعی اقتصاد قرار دارد، سود بانکی چه علی‌الحساب و چه قطعی اعطایی به سپرده‌گذاران در قانون ربا تلقی نشده است؟

ب) اثر و نتیجه این فعالیت بورس، یعنی تشویق مردم به پس‌انداز و به‌کارگیری پس‌اندازها در فعالیت‌های مفید اقتصادی کدام است؟

ج) کدام گروه از فعالیت‌ها منحصراً مربوط به بخش دولتی است؟

۱) الف) حضور بانک‌ها در سرمایه‌گذاری غیرمستقیم از طریق استفاده از عقود اسلامی مجاز برای اعطای تسهیلات مالی به مشتریان خود ب) اثرگذاری در کاهش نرخ تورم ج) بانکداری، راه و راه‌آهن، بیمه و تأمین نیرو و صنایع مادر

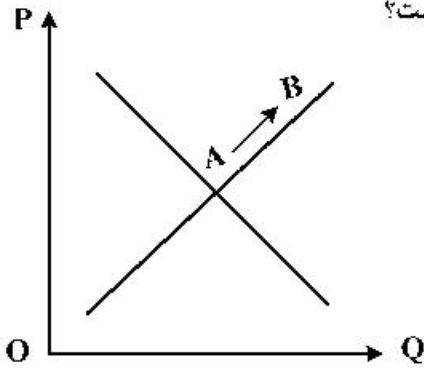
۲) الف) دریافت مطالبات اسنادی و سود سهام و اوراق بهادار و اشیای قیمتی مشتریان ب) تنظیم معاملات بازار سرمایه ج) سدها، بازرگانی خارجی، کشاورزی، شبکه‌های آبرسانی

۳) الف) خرید و فروش ارز و نقل و انتقال وجوه در داخل کشور ب) جلوگیری از نوسان شدید قیمت‌ها ج) صنایع بزرگ، دامداری، تجارت و خدمات، بازرگانی خارجی

۴) الف) سرمایه‌گذاری مستقیم بانک‌ها در طرح‌های تولیدی و عمرانی ب) افزایش حجم سرمایه‌گذاری در جامعه

ج) صنایع، دامداری، صنعت، پست، تلگراف و تلفن

۱۲۷- با توجه به نمودار منحنی «.....» علت حرکت از نقطه A به B کدام است؟



- (۱) تقاضا - افزایش عرضه
- (۲) عرضه - کاهش قیمت کالا
- (۳) تقاضا - کاهش مقدار عرضه
- (۴) عرضه - افزایش قیمت کالا

۱۲۸- فرض کنیم کشاورزان هر یک کیلوگرم پنبه تولیدی خود را به ارزش ۵۰۰۰ ریال به کارگاه‌های ریسندگی بفروشند. کارگاه‌های ریسندگی هم این مقدار پنبه را به مقداری نخ تبدیل کرده و به ارزش ۷۰۰۰ ریال به کارگاه‌های پارچه‌بافی بفروشند. در کارگاه‌های پارچه‌بافی نخ به پارچه تبدیل شده و به ارزش ۹۵۰۰ ریال به کارگاه‌های تولید پوشاک فروخته می‌شود. در این کارگاه‌ها پارچه به پوشاک تبدیل شده و به ارزش ۱۳۰۰۰ ریال به دست مصرف‌کنندگان می‌رسد. با توجه به داده‌ها و ستاده‌ها:

الف) ارزش افزوده مرحله اول و چهارم به ترتیب از راست به چپ، کدام است؟

ب) به جز این روش چه روش‌های دیگر برای محاسبه تولید کل جامعه، وجود دارد و عناوین آن کدام است؟
 ج) روشی که در آن با جمع زدن همه اجزای سهم در «روند تولید» عایدی همه بازیگران و فعالان اقتصادی داخلی یا ملی «تولید کل» محاسبه می‌شود، چه نام دارد؟ ضمناً در کدام روش محاسبه تولیدات کل، نگران اندازه‌گیری تولیدات واسطه‌ای و مواد اولیه نیستیم چرا که ارزش پولی همه آنها در محاسبه کالاها و خدمات نهایی خود به خود اندازه‌گیری شده است؟

د) از نظر کارشناسان اقتصادی برای جلوگیری از اشتباه در محاسبه «تولید کل جامعه» توسل به چه اقدامی ضروری است؟

(۱) الف) ۲۰۰۰ - ۲۵۰۰ (ب) روش هزینه‌ای - روش تولید (ج) روش درآمدی - روش هزینه‌ای (د) دو روش را به کار می‌گیرند و میانگین این دو را می‌پذیرند.

(۲) الف) ۵۰۰۰ - ۳۵۰۰ (ب) روش هزینه‌ای - روش درآمدی (ج) روش هزینه‌ای - روش درآمدی (د) حداقل دو روش را به کار می‌گیرند و نتایج را با هم مقایسه می‌کنند.

(۳) الف) ۳۵۰۰ - ۵۰۰۰ (ب) روش درآمدی - روش هزینه‌ای (ج) روش درآمدی - روش هزینه‌ای (د) هر سه روش را استفاده می‌کنند و هر کدام بیشتر بود آن را منظور می‌دارند.

(۴) الف) ۲۵۰۰ - ۲۰۰۰ (ب) روش درآمدی - روش تولید (ج) روش هزینه‌ای - روش درآمدی (د) هر سه روش به کار گرفته می‌شود و میانگین آنها به عنوان پاسخ قطعی مورد قبول قرار می‌گیرد.

محل انجام محاسبات

۱۲۹- کدام گزینه، دربردارنده پاسخ درست و کامل پرسش‌های زیر است؟

الف) مطلب زیر مربوط به کدام مورد است؟

«یک سبد کالایی یکسان، سالانه در ایران قیمت‌گذاری می‌شود و هم‌زمان همان سبد کالایی در کشور آمریکا، تعیین قیمت می‌شود. تقسیم این دو بر هم قدرت خرید دلار را در ایران نشان می‌دهند.»

ب) به کالاهای با دوام سرمایه‌ای، که در جریان تولید به‌کار گرفته می‌شود، نظیر تراکتور برای کشاورز و کامیون برای شرکت‌های حمل‌ونقل «.....» گفته می‌شود و آنچه که در طول زمان، خدماتشان در جریان تولید استفاده می‌شود «.....» می‌گویند و تولیدکننده با آن‌ها «.....» ایجاد می‌کند.

ج) چندین سال است، مطلبی در رابطه با «بودجه کل کشور که بی‌ارتباط با تشکیل «صندوق توسعه ملی» نیست در بودجه کل کشور لحاظ و رعایت می‌شود، محتوی و مضمون آن کدام است؟

د) گاهی به اوراقی مثل: سفته، چک، پول، برات و حوالجات در زبان مردم، «وراق بهادار» گفته می‌شود که کارکرد آن‌ها «.....» اما در اصطلاح اقتصاددانان، آن‌ها اوراق بهادار «.....».

۱) الف) استفاده از دلار رفاهی یا دلار برابری خرید (P.P.P) ب) سرمایه فیزیکی - کالاهای سرمایه‌ای بادوام - ارزش افزوده ج) نفت خام ثروت عمومی است و صادرات و فروش آن درآمد محسوب نشده و وجوه حاصل از فروش آن و همچنین گاز طبیعی تولید شده پس از کسر هزینه‌های تولید حتماً باید به صندوق توسعه ملی واریز شود. د) تضمین تعهدات است نه تأمین مالی - تلقی نمی‌شود.

۲) الف) مورد استفاد قرار دادن میانگین ارزهای معتبر جهان و تبدیل تولید ملی به آن ب) سرمایه مالی - کالاهای سرمایه‌ای - سود حسابداری ج) درآمدهای حاصل از فروش ثروت‌های عمومی برای زاینده‌گی مستمر و حفظ این ثروت طبیعی هرگز نباید مورد مصرف و استفاده قرار گیرد. د) تأمین مالی است نه تضمین تعهدات - تلقی نمی‌شود.

۳) الف) مورد استفاده قرار دادن ارزی که ارتباط مستقیمی با نرخ دلار موجود در بازار ارز را ندارد. ب) سرمایه مؤند - کالاهای سرمایه‌ای بادوام - سود اقتصادی ج) درآمدهای حاصل از فروش ثروت‌های عمومی باید به‌عنوان درآمدهای خاص دولتی به صندوق توسعه ملی واریز شود. د) تضمین تعهدات است نه تأمین مالی - تلقی می‌شود.

۴) الف) استفاده از دلاری که توسط سازمان‌های مالی بین‌المللی محاسبه و اعلام می‌شود. ب) سرمایه عمرانی - کالاهای بادوام نهایی - سود ویژه ج) نفت خام ثروت عمومی بوده و فروش آن باید از طریق صندوق توسعه ملی در جهت فقرزدایی همه جانبه و فراگیر مورد مصرف قرار گیرد. د) تأمین مالی است نه تضمین تعهدات - تلقی می‌شود.

۱۳۰- جدول زیر نمایانگر اطلاعات ارائه شده در یک جامعه فرضی است، با توجه به مندرجات جدول:

الف) میزان «حجم شبه پول» این جامعه چقدر است؟

ب) ارزش پولی سپرده‌های غیردیداری کدام است؟

ج) حجم کل «پول موجود یا کل نقدینگی» این جامعه، کدام است؟

۱	ارزش پولی موجودی سپرده‌های مدت‌دار مردم	۴۸۰ واحد
۲	ارزش پولی مجموع سپرده‌های دیداری و غیردیداری مردم	۱۲۰۰ واحد
۳	ارزش پولی مجموع مسکوکات در دست مردم	$\frac{۲}{۳}$ موجودی اسکناس‌ها
۴	ارزش پولی مجموع اسکناس‌ها	۱۵۰۰ واحد
۵	ارزش پولی سپرده‌های دیداری مردم	۱۲۰ واحد
۶	ارزش پولی حساب‌های قرض‌الحسنه	۱۶۳۰ واحد

۱) الف) ۲۷۱۰ (ب) ۱۰۸۰ (ج) ۵۳۳۰ (۲) الف) ۲۱۷۰ (ب) ۱۰۰۸ (ج) ۵۳۳۰
 ۳) الف) ۲۷۱۰ (ب) ۱۰۰۸ (ج) ۵۰۳۳ (۴) الف) ۲۱۷۰ (ب) ۱۰۸۰ (ج) ۵۰۳۳

محل انجام محاسبات

۱۳۱- جدول زیر، نمودار: «تقاضا، عرضه، قیمت» در یک جامعه بازاری فرضی است. در این صورت کدام یک از ردیف‌های جدول، بیانگر:

الف) مازاد عرضه است؟

ب) برابری میان «تقاضا و عرضه است و نام «اصطلاح اقتصادی» آن کدام است؟

ج) کمبود عرضه است؟

ردیف	قیمت «به ریال»	مقدار تقاضا «به کیلو»	مقدار عرضه «به کیلو»
۱	۱۰۰	۱۲۰۰	۰
۲	۱۵۰	۱۰۰۰	۲۰۰
۳	۲۰۰	۸۰۰	۴۰۰
۴	۲۵۰	۶۰۰	۶۰۰
۵	۳۰۰	۴۰۰	۸۰۰
۶	۳۵۰	۲۰۰	۱۰۰۰
۷	۴۰۰	۰	۱۲۰۰

(۱) الف) ردیف: ۳ (ب) ردیف: ۴ - قیمت تعادلی (ج) ردیف: ۳

(۲) الف) ردیف: ۳ (ب) ردیف: ۵ - مقدار تعادلی (ج) ردیف: ۴

(۳) الف) ردیف: ۵ (ب) ردیف: ۴ - قیمت و مقدار تعادلی (ج) ردیف: ۳

(۴) الف) ردیف: ۵ (ب) ردیف: ۵ - مقدار و قیمت تعادلی (ج) ردیف: ۴

۱۳۲- کدام گزینه، متضمن پاسخ درست و کامل سوالات زیر است؟

الف) مطلب زیر در ارتباط با کدام مورد است؟

«صاحبان زمین، بذر، تراکتور و نیروی کار، همه با هم یک واحد کشت و صنعت، را راه‌اندازی کرده و به تولید گندم می‌پردازند و عواید به‌دست آمده را بین هم تقسیم می‌کنند. این نوع نهاد اقتصادی، «.....» نامیده می‌شود و نمونه‌ای از آن «.....» است.»

ب) انگیزه «.....» تقاضای کالا، رفع نیاز است و تصمیم آن‌ها در مورد مصرف کالا از عواملی مانند «قیمت کالا»، «درآمد»، سلیقه خودشان و «.....» و «.....» تأثیر می‌پذیرد.

ج) نظر اقتصاددانان در رابطه با توجه یا عدم توجه به مفاهیم اقتصادی همچون: «مزیت‌های مطلق و نسبی، استقلال اقتصادی، خودکفایی، عدم وابستگی و تولید و مصرف کالاهای ملی کدام است؟

د) در رابطه با محورهای کلی و ویژگی‌های اساسی نظام اقتصادی کشور، اصول مربوط به آن‌ها، کدام مورد درست است؟

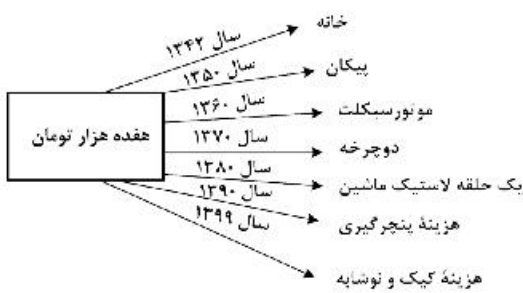
(۱) الف) سازمان تولید مشارکتی - شرکت تعاونی (ب) مصرف‌کنندگان - تبلیغات - قیمت سایر کالاها (ج) آنان موفق

به ایجاد ترکیب جامعی از منافع ملی و منافع بین‌المللی شده‌اند. (د) مالی دولت، پنج اصل: اصول ۵۱ تا ۵۵

(۲) الف) واحد کشت و صنعت کشاورزی - شرکت تعاونی (ب) تولیدکنندگان - تبلیغات - قیمت سایر کالاها (ج) آنان معتقدند این اصطلاحات در ارتباط منطقی و درست با هم نیستند. (د) منابع مالی حکومت برای ایفای وظایف خود، پنج اصل: ۴۱ تا ۴۵

(۳) الف) سازمان تولید زراعی - شرکت سهامی (ب) مصرف‌کنندگان - پیش‌بینی در مورد رونق و رکود بازار - قیمت سایر کالاها (ج) اقتصاددانان بر این باورند که استقلال اقتصادی در دنیای امروز کاملاً بی‌معناست. (د) اصول مالی دولت، پنج اصل: ۴۱ تا ۴۵

(۴) الف) سازمان تعاون روستایی - شرکت سهامی (ب) تولیدکنندگان - تثبیت قیمت کالاها - قیمت کالاهای جایگزین (ج) غالب اقتصاددانان معتقدند برخلاف الگوی فرضی مطرح شده تک محصولی شدن در دنیای واقعی مطلوب نیست. (د) منابع مالی حکومت برای ایفای وظایف خود، پنج اصل: ۵۱ تا ۵۵



۱۳۳- با توجه به نمودار تصویری روبه‌رو در رابطه با قدرت خرید پول:

- (الف) نتیجه کاهش قدرت خرید پول، کدام است؟
 (ب) پول در مقابل چه چیزی قدرت خرید خود را حفظ نکرده است؟
 (ج) یکی از دلایل مهم کاهش قدرت خرید پول جامعه، کدام است؟
 (د) رابطه پول با چه چیزی یک رابطه غیرمستقیم است؟
 (ه) چرا گفته می‌شود قدرت خرید پول دستخوش تغییر است؟
 (و) قدرت خرید پول جامعه وابسته به چیست؟

- (۱) الف) تورم رکودی (ب) سطح عمومی قیمت‌ها (ج) نابرابری عرضه تقاضای و کل جامعه (د) حجم پول در گردش (ه) چون یک واحد پول نتوانسته ارزش خود را در طول زمان حفظ کند. (و) قدرت موازنه پرداختی‌های خارجی آن است.
 (۲) الف) تورم رکودی (ب) افزایش نقدینگی (ج) نابرابری عرضه و تقاضای کل جامعه (د) سطح عمومی قیمت‌ها (ه) چون ارزش پول متناسب با رونق و شکوفایی اقتصادی افزایش هماهنگ نداشته است. (و) سطح عمومی قیمت‌ها
 (۳) الف) تورم (ب) افزایش نقدینگی (ج) حجم زیاد پول نسبت به تولید جامعه (د) حجم پول در گردش (ه) چون ارزش پول متناسب با رونق و شکوفایی اقتصادی افزایش هماهنگ نداشته است. (و) قدرت موازنه پرداختی‌های خارجی آن است.
 (۴) الف) تورم (ب) سطح عمومی قیمت‌ها (ج) حجم زیاد پول نسبت به تولید جامعه (د) سطح عمومی قیمت‌ها (ه) چون یک واحد پول نتوانسته ارزش خود را در طول زمان حفظ کند. (و) سطح عمومی قیمت‌ها

۱۳۴- با فرض جدول مالیاتی زیر:

- الف) میزان مالیات شخصی که در ماه، ۱۵ میلیارد ریال درآمد دارد، کدام است؟
 (ب) میزان مانده خالص ماهیانه او کدام است؟
 (ج) این محاسبه مربوط به کدام یک از روش‌های نرخ مالیاتی ثابت، تصاعدی کلی، تصاعدی طبقه‌ای است؟
 (د) در رابطه با ویژگی نوع نرخ مالیاتی در محاسبه این جدول، کدام مورد، نادرست است؟

۱	درآمدهای تا: ۱۵۰ میلیون ریال	معاف از مالیات
۲	درآمدهای تا: ۲۵۰ میلیون ریال	با نرخ: ۱۵٪ نسبت به مازاد: ۱۵۰ میلیون ریال
۳	درآمدهای تا: ۳۵۰ میلیون ریال	با نرخ: ۲۰٪ نسبت به مازاد: ۲۵۰ میلیون ریال
۴	درآمدهای تا: ۴۵۰ میلیون ریال	با نرخ: ۲۵٪ نسبت به مازاد: ۳۵۰ میلیون ریال
۵	درآمدهای تا: ۹۰۰ میلیون ریال	با نرخ: ۳۵٪ نسبت به مازاد: ۴۵۰ میلیون ریال
۶	درآمدهای بالاتر از: ۹۰۰ میلیون ریال	با نرخ: ۴۵٪ نسبت به مازاد: ۹۰۰ میلیون ریال

- (۱) الف) ۶,۵۶۲,۵۰۰,۰۰۰ ریال (ب) ۷,۴۳۸,۵۰۰,۰۰۰ ریال (ج) تصاعدی (د) این نوع نرخ مالیاتی در تعدیل درآمد و ثروت افراد جامعه، مؤثر است.
 (۲) الف) ۶,۶۲۵,۵۰۰,۰۰۰ ریال (ب) ۸,۴۳۷,۵۰۰,۰۰۰ ریال (ج) ثابت (د) در این نوع مالیات، افراد با درآمدهای بیشتر با نرخ بیشتر و افراد با درآمدهای پایین‌تر با نرخ کمتری مالیات می‌پردازند.
 (۳) الف) ۶,۵۶۲,۵۰۰,۰۰۰ ریال (ب) ۸,۴۳۷,۵۰۰,۰۰۰ ریال (ج) تصاعدی طبقه‌ای (د) در این نوع مالیات، میزان مالیات پرداختی افراد، متناسب با تغییر در درآمد یا دارایی آن‌ها کم و زیاد می‌شود.
 (۴) الف) ۶,۶۲۵,۵۰۰,۰۰۰ ریال (ب) ۷,۴۳۸,۵۰۰,۰۰۰ ریال (ج) تصاعدی کلی (د) در این نظام مالیاتی نرخ مالیات با افزایش درآمد یا دارایی، زیاد و به عکس با کاهش درآمد یا دارایی، کم می‌شود.

محل انجام محاسبات

۱۳۵- با توجه به اطلاعات به دست آمده از چند کشور و شاخص‌های مربوط به آن‌ها مندرج در کتاب درسی، گزینه کامل‌کننده اطلاعات، به ترتیب حروف، کدام است؟

شخص‌ها کشورها	نرخ مرگ‌ومیر نوزادان در هر ۱۰۰۰ تولد	امید به زندگی «سال»	نرخ باسوادی بزرگسالان به درصد	تولید ناخالص داخلی سرانه به دلار PPP ثابت سال ۲۰۱۱
الف	نروژ رتبه اول	۸۱٫۶	حدود ۱۰۰	؟
ب	موزامبیک رتبه «؟»	۵۵٫۱	؟	۱۰۷۰
ج	ایران رتبه «؟»	؟	۸۴٫۳	۱۵۰۹۰
د	چین رتبه «؟»	۷۵	۹۵٫۱	؟

- (۱) الف) ۱-۸۲,۵۲۴ (ب) ۳-۴۰,۳ (ج) ۳-۷۲,۳ (د) ۹-۶,۹-۱۱,۵۲۵
- (۲) الف) ۳-۶۲,۴۴۸ (ب) ۶-۵۰,۶ (ج) ۴-۷۵,۴ (د) ۹-۱۰,۹-۱۱,۵۲۵
- (۳) الف) ۱-۸۲,۵۲۴ (ب) ۳-۴۰,۳ (ج) ۳-۷۲,۳ (د) ۹-۱۰,۹-۱۱,۵۲۵
- (۴) الف) ۳-۶۲,۴۴۸ (ب) ۶-۵۰,۶ (ج) ۴-۷۵,۴ (د) ۹-۱۰,۹-۱۱,۵۲۵

محل انجام محاسبات

۱۳۶- ویژگی‌های زبانی «سبک خراسانی» در کدام مصراع‌ها مشهود است؟

- (الف) به رنج اندر است ای خردمند گنج
 (ب) یک است ابلهان را شتاب و شکیب
 (ج) چه پرسی کزین پس نبینی تو کام
 (د) به فتراک برست پیچان کمند
 (ه) کمان را بمالید رستم به چنگ

(۱) الف - ب - د (۲) الف - ج - د (۳) ب - ج - د (۴) ب - ج - ه

۱۳۷- در کدام عبارات، ویژگی‌های زبان پهلوی آمده است؟

- (الف) در زمان اشکانیان و در شمال و شمال شرقی ایران رواج داشته است.
 (ب) اغلب آثار ادبی پهلوی شفاهی بوده و به کتابت در نیامده است.
 (ج) از این زبان ترجمه عربی و فارسی کلیله و دمنه و هزار و یک شب موجود است.
 (د) در اصل «درخت آسوریک» و «یادگار زبیران» به این زبان است.
 (ه) زبان رسمی دوران ساسانی و متعلق به ناحیه پارس است.

(۱) الف - ب - ج (۲) الف - د - ه (۳) ب - ج - د (۴) ب - ج - ه

۱۳۸- پدیدآورندگان «خسی در میقات - راه آب نامه - زمستان - شهری چون بهشت» به ترتیب، دارای آثاری مانند نیز هستند.

- (۱) سه تار - یکی بود یکی نبود - همسایه‌ها - سووشون
 (۲) دید و بازدید - دهکده پرمال - آخر شاهنامه - تنگسیر
 (۳) مدیر مدرسه - تلخ و شیرین - از این اوستا - آتش خاموش
 (۴) ارزیابی شتابزده - شوهر آهو خانم - چشمه‌پایش - سگ ولگرد

۱۳۹- همه عبارات از لحاظ تاریخ ادبیات درست است، به جز:

- (۱) شاعران عصر صفوی موضوعات کهن را با مضامین تازه و زبان جدید همراه کردند.
 (۲) در قرن نهم و دهم لغات مربوط به مذاهب و آداب و رسوم هندوان به حوزه شعر و ادب راه یافت.
 (۳) در قرن هفتم و هشتم برخی نویسندگان کتاب‌های مشکل را به زبان ساده بازنویسی می‌کردند.
 (۴) درامیختگی نظم و نثر، کاربرد وجه وصفی و فراوانی لغات مغولی از ویژگی‌های نثر سبک هندی است.

۱۴۰- نثر هر یک از آثار زیر، به ترتیب، چگونه است؟

«شرفنامه بدلیسی، محبوب‌القلوب، احسن‌التواریخ، دارا شکوه»

- (۱) مصنوع، ساده، بینابین، ساده (۲) ساده، بینابین، مصنوع، ساده
 (۳) ساده، بینابین، ساده، مصنوع (۴) ساده، مصنوع، بینابین، ساده

۱۴۱- چند اثر درست، معرفی شده است؟

- (زیارت: جلال آل احمد) (شهری چون بهشت: سیمین دانشور) (راه آب نامه: علی اکبر دهخدا)
 (دهکده پرمال: احمد محمود) (بره گمشده راعی: هوشنگ گلشیری) (جعفرخان از فرنگ برگشته: مشفق کاظمی)
 (دید و بازدید: علی محمد افغانی) (تهران مخوف: مشفق کاظمی)

(۱) سه (۲) چهار (۳) پنج (۴) شش

۱۴۲- کدام نویسندگان «همگی» در داستان‌نویسی «سبک تلفیقی» را برگزیدند؟

- (۱) محمود اعتمادزاده، صادق چوبک، احمد محمود (۲) جلال آل احمد، علی محمد افغانی، امین فقیری
 (۳) غلامحسین ساعدی، جمال میرصادقی، تقی مدرس (۴) سیمین دانشور، بزرگ علوی، هوشنگ گلشیری

۱۴۳- در کدام بیت، ویژگی «ادبی سبک هندی» به چشم نمی‌خورد؟

- (۱) دوری از ما مکن ای چشم بد از روی تو دور
 (۲) در سر مرده‌دلان شور ندیده است کسی
 (۳) دامن شادی چو غم آسان نمی‌آید به دست
 (۴) سختی رسد از چرخ به نازک‌سخنان بیش
 زان که جانی تو و از جان نتوان بود صبور
 نفس گرم ز کافور ندیده است کسی
 پسته را خون می‌شود دل تالبی خندان کند
 با سنگ سر و کار بود شیشه‌گری را

۱۴۴- کدام یک، از ویژگی‌های داستان نویسی دوره انقلاب اسلامی نیست؟

- (۱) اندیشه حاکم بر داستان‌های دهه اول انقلاب اسلامی سیاسی و اجتماعی بودن است.
- (۲) گرایش به خاطره، قطعه ادبی، سفرنامه و شرح حال رایج شد.
- (۳) زبان داستان‌ها به ویژه در زمان جنگ بیشتر ادبی است.
- (۴) تفکر اومانیستی در برخی آثار این دوره کمرنگ است.

۱۴۵- در همه ابیات، آرایه مجاز به چشم می‌خورد، به جز:

- (۱) می‌رود صبح و اشارت می‌کند
- (۲) هزار نکته باریک‌تر ز مو اینجاست
- (۳) من و تو غافلیم و ماه و خورشید
- (۴) از تلاوت بر تو حق دارد کتاب

۱۴۶- آرایه‌های «جناس، استعاره، موازنه و اغراق» همگی در کدام بیت آمده است؟

- (۱) بگفت از سوز کم‌تر گوی با مور
- (۲) بهاری کز دو رخسارش همی شمس و قمر خیزد
- (۳) پرواز به آنجا که نشاط است و امید است
- (۴) آمد نفس صبح و سلامت نرسانید

۱۴۷- آرایه‌های بیت زیر، کدام است؟

- (۱) استعاره - ایهام - کنایه - تضاد
- (۲) کنایه - ایهام - تناسب - تکرار - متناقص نما
- (۳) تضاد - استعاره - کنایه - واج‌آرایی
- (۴) جناس هم‌سان - استعاره - یارادوکس - مجاز

۱۴۸- در همه ابیات همه ارکان تشبیه یافت می‌شود، به جز:

- (۱) گویی شب هجر تو چو بخت سیه من
- (۲) من از لب می‌گون تو مستی طلبیدم
- (۳) رقص آیدم از ساز تو چون زهره چنگی
- (۴) پیش رخ روشن‌تر از آینه‌ات ای ماه

۱۴۹- در کدام بیت، آرایه‌های ایهام و استعاره «هر دو» یافت می‌شود؟

- (۱) آفتابی کز شفق، رخسار، در خون شسته است
- (۲) زهره‌سازی خوش نمی‌سازد مگر عودش بسوخت
- (۳) در بزم دور یک دو قدح درکش و برو
- (۴) فرش طرب بگستر چون باد نوبهاری

۱۵۰- آرایه‌های مقابل همه ابیات درست است، به جز:

- (۱) ز آشفتنگی به حلقه جمعی رسیده‌ام
 - (۲) به عشق زلف و رخت فارغم ز دیر و حرم
 - (۳) به یاد کاکل پرتاب و زلف پرجینش
 - (۴) چراغ چشم من آن روی مجلس افروز است
- کز حلقه‌های زلف تو تایی نداشتند (ایهام، یارادوکس)
 که این معامله بیرون ز کفر و ایمان است (استعاره، لف و نشر)
 دل من است که هم جمع و هم پربشان است (کنایه، یارادوکس)
 طناب عمر من آن موی عنبرافشان است (جناس، تشبیه)

۱۵۱- آرایه‌های «استعاره، ایهام، ایهام تناسب و لف و نشر» به ترتیب، در کدام ابیات آمده است؟

- (الف) چو دَرّه گرچه حقیرم ببین به دولت عشق
(ب) تیر و کمان عشق را هر که ندیده، گو ببین
(ج) گر چو شمعش پیش می‌رم بر غم خندان شود
(د) آخر چه شد ای برگ گل تازه که دیدار
- (۱) الف - ب - د - ج (۲) الف - ج - ب - د
(۳) د - الف - ج - ب (۴) د - ج - الف - ب

۱۵۲- قاعده قافیه در مقابل کدام بیت، «غلط» آمده است؟

- (۱) ای برادر بشنوی رمزی ز شعر و شاعری
(۲) چون من به ره سخن فراز آییم
(۳) اگر محوّل حال جهانیان نه قضاست
(۴) در پای تو تا زلف چلیپای تو افتاد

۱۵۳- توضیح روبه‌روی کدام بیت، در مورد قافیه درست است؟

- (۱) سپه را تو باش این زمان پیشرو
(۲) ناقه جسم دلی را بنده باش
(۳) دوش از در میخانه کشیدند به دوشم
(۴) خدایا مقصربه کار امیدیم

۱۵۴- وزن کدام مصراع، در مقابل آن «غلط» آمده است؟

- (۱) چین زلف مشکین را بر رخ نگارم بین (مستفعل فاعلاتن فعلن)
(۲) ای دل چو خطش سر زد پیوند از او مگسل (مفعول مفاعیلن مفعول مفاعیلن)
(۳) برخاست ز هر گوشه بلایی به کمینم (مفعول مفاعیلن مفاعیلن فعلن)
(۴) مژگان مردم افکن چشمان کافرش بین (مستفعلن فعولن مستفعلن فعولن)

۱۵۵- در کدام بیت «بلند تلفظ کردن مصوت کوتاه، کوتاه تلفظ کردن مصوت بلند و ابدال» همگی یافت می‌شود؟

- (۱) قوت بازوی پرهیز به خوبان مفروش
(۲) رقص بر شعر نر و ناله نی خوش باشد
(۳) حافظ اینای زمان را غم مسکینان نیست
(۴) خوش گرفتند حریفان سر زلف ساقی

۱۵۶- در بیت زیر همه اختیارات شاعری یافت می‌شود، به جز:

- «چون گل و می دمی از پرده برون آی و در آ
(۱) قلب
(۲) ابدال
(۳) تغییر کمیت مصوت‌ها
(۴) آوردن فاعلاتن به جای فعلاتن

۱۵۷- وزن کدام مصراع با مصراع زیر، یکسان است؟

- «خیال سرو قدانت به پیشواز آید»
(۱) گوشم همه بر قول نی و نغمه چنگ است
(۲) بگشای روی زیبا ز نگاه آن میندیش
(۳) جریده رو که گذرگاه عاقبت تنگ است
(۴) به دامان فلک جایی سزای چون تو گوهر نیست

۱۵۸- وزن کدام بیت «دوری» است؟

- (۱) باز آی و بر چشمم نشین ای دلستان نازنین
(۲) نعیم هر دو جهان پیش عاشقان بجوی
(۳) زاهد از ما به سلامت بگذر کاین می لعل
(۴) به شوق چشمه نوش که قطره‌ها که فشاندم
(۲) کآشوب و فریاد از زمین بر آسمانم می‌رود
(۳) که این متاع قلیل است و آن عطای کثیر
(۴) دل و دین می‌برد از دست بدان‌سان که می‌پرس
(۲) ز لعل باده‌فروشت چه عشو‌ها که خریدم

۱۵۹- کدام بیت را نمی‌توان به دو شکل، دسته‌بندی هجایی کرد؟

- ۱) رقصیدن سرو و حالت گل
- ۲) این مطرب از کجاست که ساز عراق ساخت
- ۳) آخر به چه گویم هست از خود خبرم چون نیست
- ۴) آن که غم جهان خورد کی خورد از حیات بر

بی‌صوت هزار خوش‌نباتند
و آهنگ بازگشت به راه حجاز کرد
وز بهر چه گویم نیست با وی نظرم چون هست
پس تو غم جهان مخور تا ز حیات برخوردار

۱۶۰- با توجه به بیت زیر، از دیدگاه «عروض و قافیه» کدام مورد «نادرست» است؟

- ۱) وزن بیت «مفعول مفاعیل مفاعیل مفعولن» است.
- ۲) در بیت اختیار شاعری «تغییر کمیت مصوت» وجود دارد.
- ۳) «جمالت و جلالت» واژه قافیه و «ت» حرف روی است.
- ۴) قافیه بیت براساس قاعده «۲» و تبصره «۱» آمده است.

وی کو کبک صبیح جلودار جلالت

۱۶۱- مفهوم روبه‌روی کدام بیت، درست آمده است؟

- ۱) ز منجنیق فلک سنگ فتنه می‌بارد
- ۲) نه سبو پیدا در این حالت نه آب
- ۳) بگفتا دل ز مهرش کی کنی پاک
- ۴) یارب این آتش که بر جان من است

من ابلهانه گریزم در آگینه حصار (جبرگرایی)
خوش بین والله اعلم بالصواب (تحیر و سرگشتگی)
بگفت آنگه که بشم خفته در خاک (عدم آسودگی)
سرد کن زانسان که کردی بر خلیل (تمنای عشق)

۱۶۲- مفهوم همه ابیات یکسان است، به جز:

- ۱) در خرمن صد زاهد عاقل زند آتش
- ۲) مجنون که به دیوانه‌گری شهره شهر است
- ۳) با عقل گشتم هم‌سفر یک کوچه راه از بی‌کسی
- ۴) حریم عشق را در گه بسی بالاتر از عقل است

این داغ که ما بر دل دیوانه نهادیم
در دشت جنون هم‌سفر عاقل ما بود
شد ریشه‌ریشه دامنم از خار استدلال‌ها
کسی آن آستان بوسد که جان در آستین دارد

۱۶۳- کدام بیت، مفهومی نظیر بیت زیر در ذهن ایجاد می‌کند؟

- ۱) صبا خاک وجود ما بدان عالی‌جناب انداز
- ۲) آینه از نقش تو بنمود راست
- ۳) عارفان از دیدن حسن مجاز آسوده‌اند
- ۴) داشت چشم باز عالم را سیه در دیده‌ام

بعد از آن آینه پیش نظر یار بیار
بود کن شاه خوبان را نظر بر منظر اندازیم
خودشکن آینه شکستن خطاست
تشنه خم کی شود از شیشه و پیمانه سیر
تا نظر بستم ز دنیا عین بینایی شدم

۱۶۴- کدام بیت با بیت زیر، قرابت مفهومی دارد؟

- ۱) جفا پل بود بر عاشق شکستی
- ۲) طرفه می‌دارند یاران صبر من بر داغ و درد
- ۳) تیر بلای او را جز دل هدف نباشد
- ۴) گرم باز آمدی محبوب سیم‌اندام سنگین‌دل

ور خوار چون خارم کنی ای گل بدان خواری خوشم
وفا گل بود بر دشمن فشانندی
داغ و دردی کز تو باشد خوش‌تر است از باغ ورد
تیغ جفای او را جز جان سپر نباشد
گل از خارم برآوردی و خار از پای و پای از گل

۱۶۵- مفهوم کدام بیت، متفاوت با سایر ابیات است؟

- ۱) من اول روز دانستم که با شیرین در افتادم
- ۲) گر عزم جفا داری سر در رخت اندازم
- ۳) مشکل است از درد و داغ عشق دل برداشتن
- ۴) به تیغم گر کشد دستش نگیرم

که چون فرهاد باید شست دست از جان شیرینم
ور راه وفاگیری جان در قدمت ریزم
ورنه می‌دادم به سیلاب فنا این خانه را
وگر تیرم ز نمد منت پذیرم

■ ■ عین الأنسب للجواب عن الترجمة أو المفهوم من أو إلى العربية (۱۶۶ - ۱۷۴)

۱۶۶- ﴿ أَنْفَقُوا مِمَّا رَزَقْنَاكُمْ مِنْ قَبْلِ أَنْ يَأْتِيَ يَوْمٌ لَا بَيْعَ فِيهِ وَلَا خِلَّةٌ ﴾:

- ۱) از آنچه به شما روزی دادیم انفاق کنید قبل از اینکه روزی بیاید که نه فروشی (تجارتی) در آن است و نه دوستی‌ای!
- ۲) آنچه را روزی شما کردیم انفاق کنید پیش از اینکه آن روزی فرا رسد که نه خرید و فروش در آن است و نه شفاعتی!
- ۳) از چیزهایی که به شما روزی داده‌ایم به دیگران بدهید پیش از اینکه آن روز بیاید که نه خریدی در آن است و نه شفاعتی!
- ۴) چیزهایی را که روزی شما قرار دادیم به دیگران ببخشید قبل از اینکه روزی فرا رسد که نه معاملاتی در آن است و نه دوستی!

۱۶۷- « إِنْ يَبْخُلْ أَحَدٌ فِي تَعْلِيمِ عِلْمِهِ إِلَيْكَ فَلَا يَحْزَنُكَ حَزْنًا، لِأَنَّهُ يَضُرُّ نَفْسَهُ ضَرْبًا أَشَدَّ مِنْ ضَرْبِكَ! »:

- ۱) اگر کسی در یاد دادن علمش به تو بخل ورزید پس نباید که ناراحتت کند، زیرا مسلماً زیانی که به خودش می‌زند از زیان تو بیشتر است!
- ۲) کسی اگر در آموختن علمش به تو بخیل شد پس نباید غمگین شوی، زیرا ضرری را که به خود می‌زند قطعاً بیشتر از تو است!
- ۳) کسی چنانچه در آموختن علمش به تو بخیل باشد اصلاً نباید غمگین بشوی، زیرا مسلماً ضرری بیشتر از ضرر تو به خود می‌زند!
- ۴) اگر کسی در یاد دادن علمش به تو بخل بورزد قطعاً نباید تو را ناراحت کند، زیرا او ضرری بیشتر از ضرر تو به خودش می‌زند!

۱۶۸- « بَعْضُ الطَّيُورِ عِنْدَمَا تَشْعُرُ بِالْخَطَرِ حَوْلَهَا تَلْجَأُ إِلَى الْحَيْلِ الَّتِي تَنْقُذُ حَيَاتَهَا مِنَ الْمَوْتِ »:

- ۱) عده‌ای از پرندگان هنگام احساس خطر، به چاره‌ای می‌اندیشند که زندگی‌شان را از مرگ نجات دهد.
- ۲) زمانی که تعدادی از پرندگان خطر را احساس کردند به چاره‌هایی پناه آوردند تا زندگی‌شان از مرگ نجات یابد.
- ۳) هرگاه برخی پرندگان پیرامون خود احساس خطر کنند چاره‌اندیشی می‌کنند تا زندگی خود را از مرگ نجات دهند.
- ۴) برخی پرندگان هنگامی که در اطراف خود احساس خطر می‌کنند به چاره‌اندیشیهایی که زندگی آنها را از مرگ نجات می‌دهد، متوسل می‌شوند.

۱۶۹- « نَسْتَهْنِكُ الْأَسْمَدَةَ الْكِيمِيَاوِيَّةَ بِكَثْرَةِ وَ نَحْنُ نَعْلَمُ أَنَّ إِسْتِخْدَامَهَا الْكَثِيرَ يُؤَدِّي إِلَى الْاِخْتِلَالِ فِي نِظَامِ الطَّبِيعَةِ! »:

- ۱) ما از کودهای شیمیایی زیاد استفاده می‌کنیم حال آنکه می‌فهمیم که کاربرد زیادشان اختلالی در نظام طبیعت بوجود می‌آورد!
- ۲) ما کودهای شیمیایی را زیاد مصرف می‌کنیم در حالی که می‌دانیم که بکار بردن زیادشان به اختلال در نظام طبیعت منجر می‌شود!
- ۳) ما کودهای شیمیایی زیادی مصرف می‌کنیم با اینکه می‌دانیم که بکار بردن زیادشان اختلال در نظام طبیعت را بوجود می‌آورد!
- ۴) ما از کودهای شیمیایی زیاد استفاده می‌کنیم با وجود اینکه فهمیده‌ایم که زیاد بکار بردنشان منجر به اختلال در نظام طبیعت می‌شود!

۱۷۰- « لا أدري ما هو نسيج زعانف الأسماك، ولكني أعلم أنها تساعد بعض الأسماك على الحركة و بعضها على الطيران»:»

(۱) نمی دانم بافت باله ماهیان از چیست، اما می دانستم بعضی ماهیها را در حرکت و بعضی را در پرواز کردن کمک می کند.

(۲) نمی دانم چه چیزی در بافت باله ماهیها هست، ولی می دانم در حرکت بعضی ماهیها و پرواز بعضی دیگر از آنها یاری می رساند.

(۳) نمی دانم بافت باله های ماهیان چیست، ولی می دانم که بعضی ماهیها را در حرکت کردن و بعضی را در پرواز کردن کمک می کند.

(۴) نمی دانم در بافت باله های ماهی ها چه چیزی هست، اما می دانستم که در حرکت کردن بعضی از ماهیها و پرواز کردن بعضی دیگر یاری می رساند.

۱۷۱- عین الخطأ:

(۱) إذا أردنا أن لا نتعب من المصائب، هرگاه بخواهیم که از مصیبتها خسته نشویم،

(۲) فلنقبل أن لا نحزن أنفسنا بالمشاكل الجزئية، باید بپذیریم که درونمان با مشکلات جزئی ناراحت نشود،

(۳) و كل مشاكل الدنيا للإنسان الذكي جزئية حقاً، و همه مشکلات دنیا برای انسان باهوش واقعاً جزئی است،

(۴) إن كنا من العقلاء لا نصبح منزعجين أبداً! اگر از عاقلان باشیم هرگز آزرده نمی شویم

۱۷۲- عین الصحيح:

(۱) حاولت زميلتي أن تغلق باب حافلة المدرسة، همشاگردیم تلاش کرد که در اتوبوس مدرسه را ببندد،

(۲) ولكن الباب لم يغلق و أخذت الحافلة تسير بسرعة، ولی درب بسته نشد و اتوبوس می خواست بسرعت حرکت کند،

(۳) تغلب الخوف على اللاتي كن قد جلسن على الكراسي الامامية، کسانی را که در جلو صندلیها نشسته بودند ترس فرا گرفت،

(۴) لأن السائق لم يكن جالساً على كرسيه الخاص في السيارة! زیرا راننده اتوبوس هنوز در جای خود ننشسته بود!

۱۷۳- « جوان دروغگو هنگامی که برای بار سوم دروغ گفت نزدیک بود غرق شود»:»

(۱) الشاب الذي كذب كاذب يغرق لما كذب ثلاث مرات.

(۲) كاذب الشاب الذي يكذب يغرق لما كذب للمرة الثالثة.

(۳) كاذب الشاب الكذاب يغرق عندما كذب للمرة الثالثة.

(۴) الشاب الكذاب كاذب قد غرق عندما كذب ثلاث مرات.

۱۷۴- عین المناسب عن المفهوم: « الناس نيام فإذا ماتوا انتبهوا»:»

(۱) عمری به جهل غافل از مرگ جان را بدهیم سقوط چون برگ

(۲) تا چنین زنده ای تو در خوابی چون بمیری تمام دریایی

(۳) دیگر سخن از غفلت ایام چه سود آن دم که طعام شکم گور شدم

(۴) آدمی تا کی تو را در خواب غفلت بودن با بدیها و پلیدیهای دل هم رنگ شدن

■ ■ عَيْنُ الْخَطَأِ فِي الْإِعْرَابِ وَ التَّحْلِيلِ الصَّرْفِيِّ (١٧٥ - ١٧٧)

١٧٥- ﴿أَذْكُرُوا نِعْمَةَ اللَّهِ عَلَيْكُمْ إِذْ كُنْتُمْ أَعْدَاءً فَأَنفَ بَيْنَ قُلُوبِكُمْ﴾:

- (١) الله: لفظ الجلالة - اسم - مفرد مذكر - معرفة (علم) - معرب / مضاف إليه و مجرور
- (٢) أذكروا: فعل أمر - مجرد ثلاثي - متعدّد / فعل و فاعل، و الجملة فعلية؛ و مفعوله « نعمة »
- (٣) أَلْف: فعل ماضٍ - مزيد ثلاثي (من باب تفعل) - لازم - معلوم / فعل و فاعل، و الجملة فعلية
- (٤) أَعْدَاء: جمع مكسّر أو تكسير (مفردة: عدوّ، مذكر) - نكرة / خير « كان » من الأفعال الناقصة، و منصوب

١٧٦- « حضر جميع الطلاب في صالة الامتحانات إلا علياً »:

- (١) علياً: اسم - مفرد مذكر - نكرة - معرب / مستثنى، و المستثنى منه « جميع ... »
- (٢) صالة: اسم - مفرد مؤنث - معرب / مجرور بحرف الجر؛ في صالة: جار و مجرور
- (٣) الامتحانات: جمع سالم للمؤنث (مفردة: امتحان، مذكر) - معرف بال / مضاف إليه و مجرور
- (٤) الطلاب: جمع تكسير أو مكسّر (مفردة: طالب، مذكر) - اسم فاعل (من فعل مجرد ثلاثي) - معرب / مضاف إليه و مجرور

١٧٧- « الصين أول دولة في العالم استخدمت نقوداً ورقية »:

- (١) ورقية: مفرد مؤنث - نكرة - معرب / صفة و منصوب بالتبعية للموصوف « نقوداً »
- (٢) أول: اسم - من الأعداد الترتيبية - مفرد مذكر - نكرة - معرب / خير و مرفوع، و المبتدأ: « الصين »
- (٣) العالم: اسم - مفرد مذكر - اسم فاعل - معرف بال - معرب / مجرور بحرف الجر؛ في العالم: جار و مجرور
- (٤) استخدمت: فعل ماضٍ - مزيد ثلاثي (من باب استفعال) - متعدّد / فعل و مع فاعله جملة فعلية و تصف ما قبلها

■ ■ عَيْنُ الْمُنَاسِبِ لِلْجَوَابِ عَنِ الْأَسْئَلَةِ التَّالِيَةِ (١٧٨-١٨٥)

١٧٨- عَيْنُ الْخَطَأِ فِي ضَبْطِ حَرَكَاتِ الْحُرُوفِ:

- (١) يَتَّبِعُ الْحَيَوَانَ الْمُفْتَرَسُ هَذِهِ الْفَرِيسَةَ وَ يَتَّبِعُ عَنِ الْعُشِّ إِبْتِعَادًا كَثِيرًا.
- (٢) حَاوَلَ الرَّجُلُ الْكَثِيرُ الْمَعَاصِي أَنْ يُصْلِحَ نَفْسَهُ، فَلَمْ يَسْتَطِعْ فِي الْبِدَايَةِ.
- (٣) التَّمْسَاحُ عِنْدَمَا يَأْكُلُ فَرِيسَةً أَكْبَرَ مِنْ فَمِهِ، تُفَرِّزُ عُيُونَهُ سَائِلًا كَأَنَّهُ تُمُوغٌ.
- (٤) إِنَّ إِيْرَانَ مِنَ الدُّوَلِ الْجَمِيلَةِ فِي الْعَالَمِ وَ الْمَشْهُورَةِ بِالْكَثِيرِ مِنَ الْمَنَاطِقِ الْخَلَابَةِ.

۱۷۹- عین « اللام » تختلف (في المعنى):

- (۱) إن نطلب أن نتعلم العلم فلنجالس المتفهمين! (۲) نحتاج إلى التراب و السماد لينمو الورد!
- (۳) ليشجع المتفرجون اللاعبين في المسابقات! (۴) إن المؤمنين ليطعموا المساكين مما يأكلون!

۱۸۰- عین كلمة « خير » أو « شر » ليست اسم تفضيل:

- (۱) خيرُ الناس من يُساعد الآخرين في حاجاتهم اليومية.
- (۲) إن تلوث الهواء شرٌّ و هو من المهذدات لنظام الطبيعة.
- (۳) إن السعادة بعد الغلبة على المصاعب عمل خير للإنسان.
- (۴) هجمت الفران على المزارع، و هذا العمل من شرّ المخربات للطبيعة.

۱۸۱- عین جواب الشرط يختلف:

- (۱) إن يقدر أحدٌ أن يسخطك فهو قد تغلب عليك!
- (۲) إن تغضب و تعمل بغضبك تقرب من مفسدة عظيمة!
- (۳) إن يقصد الأحمق أن ينفكك لا يقدر لأنه يضرك بحماقته!
- (۴) إن ندرس دروسنا في موعده نتخرج من المدرسة بعد سنة!

۱۸۲- عین خبر « كان » مختلفاً:

- (۱) كان الطالب يتكلم مع أصدقائه حول برنامج سفرتهم العلمية!
- (۲) كان الإنسان يستفيد من الديناميت لتسهيل أعماله الصعبة!
- (۳) كان التلاميذ يقذفون الكرة حتى تدخل المرمى!
- (۴) كان الفستق الذي ينتج في كرمان لذيذاً!

۱۸۳- عین « دؤوب » حالا:

- (۱) ليتني أصبح دؤوباً في اكتساب العلم!
- (۲) لايتقدم في الحياة إلا من يحاول دؤوباً!
- (۳) من كان أميراً يجب أن يكون دؤوباً و حليماً!
- (۴) رأيت طالباً دؤوباً يستمر في أعماله لأهدافه العالية!

۱۸۴- عین أسلوب الاستثناء معناه الحصر:

- (۱) ما اهتم هذا الفيزيائي في كشف هذه المادة بالآخرين إلا عالماً واحداً!
- (۲) لم تضعف المشاكل عزم التلميذ في أداء جميع واجباته إلا الأخير!
- (۳) لا يمنح المحسن ثروته لكل من يدعي أنه يحتاج إليها إلا أسرته!
- (۴) لم يكن هدف نوبل من اختراع الديناميت إلا الإعمار و البناء!

۱۸۵- عین الصحيح للفراغين: « طالب، و الطالبة حافظا على كرامتكما! »:

- (۱) يا / يا
- (۲) أيها / أيّتها
- (۳) أيها / يا أيّتها
- (۴) يا / يا أيّتها

۱۸۶- کدام گزینه، توصیف درستی از وقایع نگاری‌ها پیش از ظهور تاریخ‌نگاری نوین به دست داده است؟

- (۱) به بین حوادث سیاسی و نظامی و شرح حال فرمانروایان و وجوه گوناگون حیات جامعه توجه می‌شد.
- (۲) تمام آثار نتیجه سفرها و مشاهدات و شنیده‌های مستقیم و بلاواسطه وقایع‌نویسان است.
- (۳) برای ثبت و نوشتن وقایع تاریخی از اسناد دولتی و یافته‌های سایر علوم استفاده می‌شد.
- (۴) در ثبت و نگارش برخی رویدادها، از اسناد و مدارک دولتی استفاده می‌شد.

۱۸۷- فلسفه یونان بر کدام فیلسوف و دانشمند ایرانی تأثیر زیادی گذاشته است؟

- (۱) ابن سینا
- (۲) امام محمد غزالی
- (۳) امام فخر رازی
- (۴) ابن مسکویه رازی

۱۸۸- کدام گزینه، درباره «تاریخ طبری و بخش تاریخ ایران باستان آن» درست است؟

- (۱) یک تاریخ عمومی است و طبری برای نگارش این بخش، از ترجمه عربی خدای‌نامه‌ها استفاده کرده است.
- (۲) یک تاریخ روایی است و مؤلف برای نگارش بخش مذکور، از متن پهلوی خدای‌نامه‌های دوره ساسانی بهره برده است.
- (۳) یک تاریخ عمومی است و طبری از متن پهلوی خدای‌نامه‌های دوره ساسانی برای نگارش بخش مذکور بهره برده است.
- (۴) یک تاریخ روایی است و مؤلف، از شاهنامه و ترجمه عربی دینوری از خدای‌نامه‌ها برای نگارش این بخش بهره برده است.

۱۸۹- در دوره اشکانی از نیروی کار اسیران جنگی در کدام زمینه‌ها استفاده می‌شد؟

- (۱) فعالیت‌های عمرانی، تولیدات کارگاهی، راه‌سازی، گله‌داری و خدمات خانگی
- (۲) فعالیت‌های کشاورزی، ساختمان‌سازی، معادن شاهی و خدمات خانگی
- (۳) معادن شاهی، فعالیت‌های کشاورزی و دامداری، انجام خدمات عمومی و عام‌المنفعه
- (۴) انجام خدمات عمومی و عام‌المنفعه، راه‌سازی، تولیدات کارگاهی، کار در معادن شاهی

۱۹۰- کدام گزینه، درباره باورها و آموزه‌های زرتشت درست است؟

- (۱) پرداختن به کشاورزی و قربانی کردن گاو را نهی می‌کرد.
- (۲) پارسایی و استقلال را دو ویژگی زن خوب می‌شمرد.
- (۳) مشوق زندگی کوچ‌نشینی و اقتصاد شبانی بود.
- (۴) مردم را به کشت و کار تشویق می‌کرد.

۱۹۱- کدام گزینه، کمک زیادی به شناخت فرهنگ، آداب و رسوم و سنت‌ها، در دوره‌های مختلف تاریخی می‌کند؟


- (۱) شهرهای تاریخی
- (۲) بناهای تاریخی
- (۳) اساطیر اقوام
- (۴) تابلوهای نقاشی

۱۹۲- کدام خلیفه اموی، نیروی دریایی را توسعه داد و هدف وی از این اقدام چه بود؟

- (۱) معاویه - تسلط بر دریاهای سرخ و مدیترانه و حفاظت از بازرگانی دریایی جهان اسلام
- (۲) معاویه - فتح جزایر دریای مدیترانه و پایان دادن به حاکمیت مطلق رومیان بر آن دریا
- (۳) عبدالملک بن مروان - فتح جزایر دریای مدیترانه و پایان دادن به حاکمیت مطلق رومیان بر آن دریا
- (۴) عبدالملک بن مروان - تسلط بر دریاهای سرخ و مدیترانه و حفاظت از بازرگانی دریایی جهان اسلام

- ۱۹۳- مأمون خلیفه عباسی پس از سه سال خلافت با تغییر شرایط سیاسی، به کدام اقدام دست زد؟
 (۱) پایتخت خود را از مرو به بغداد منتقل کرد.
 (۲) مشارکت ایرانیان در اداره امور را به حداقل رساند.
 (۳) بیت‌الحکمه را برای ترجمه و تألیف کتاب تأسیس نمود.
 (۴) برای مهار قیام علویان، امام رضا (ع) را از مدینه به مرو منتقل نمود.
- ۱۹۴- کدام گزینه، از دلایل ضعف و زوال حکومت سلجوقیان پس از مرگ ملکشاه و خواجه نظام‌الملک توسی نیست؟
 (۱) هجوم اقوام مهاجم و از دست رفتن ماوراءالنهر
 (۲) قدرت‌یابی اتبکان در نواحی زیر سلطه سلجوقیان
 (۳) مبارزات اسماعیلیان و رقابت و کشمکش بر سر قدرت
 (۴) مهاجرت قبایل ترک به آسیای صغیر و تغییر وضعیت سیاسی این ناحیه
- ۱۹۵- در کدام گزینه، عوامل مؤثر بر رشد اندیشه ملی‌گرایی (ناسیونالیسم) در اروپا در عصر جدید و دوره معاصر به درستی بیان شده است؟
 (۱) نهضت پروتستان، انقلاب کبیر فرانسه
 (۲) آغاز و گسترش رقابت‌های استعماری، انقلاب کبیر فرانسه
 (۳) نهضت پروتستان، تشدید رقابت‌های استعماری در قرن ۱۹
 (۴) اکتشافات جغرافیایی، گسترش استعمار و ظهور انقلاب صنعتی
- ۱۹۶- برای نخستین بار مدرسه دوشیزگان برای تحصیل دختران به وسیله بی‌بی خانم استرآبادی در کدام شهر تأسیس گردید؟
 (۱) رشت (۲) تبریز (۳) تهران (۴) شیراز
- ۱۹۷- کدام گزینه، از نتایج عمده مهار کردن نیروهای رزمی عشایر و اسکان اجباری آنان به وسیله رضاشاه است؟
 (۱) مجبور شدن عشایر به فروش زمین‌های خود به دولت
 (۲) کسب رضایت طبقات مختلف مردم به ویژه شهرنشینان
 (۳) برانگیخته شدن خشم عمومی در سطوح مختلف از اقدامات شاه
 (۴) کاهش رونق دامداری و نیازمند شدن کشور از نظر دامی به بیگانگان
- ۱۹۸- اخراج کدام کشور از جامعه ملل، موجب بی‌اعتباری این نهاد بین‌المللی گردید؟
 (۱) ترکیه (۲) شوروی (۳) آلمان (۴) ایتالیا
- ۱۹۹- کدام پادشاه قاجار امتیاز کشف و استخراج نفت و گاز را به مدت ۶۰ سال به یک سرمایه‌دار خارجی واگذار کرد؟
 (۱) احمدشاه (۲) محمدعلی شاه (۳) مظفرالدین شاه (۴) ناصرالدین شاه
- ۲۰۰- کدام یک از رویدادهای زیر مربوط به دوره ریاست جمهوری ابوالحسن بنی‌صدر است؟
 (۱) برگزاری همه‌پرسی قانون اساسی جمهوری اسلامی ایران و تأیید آن توسط اکثریت مردم
 (۲) آغاز جنگ تحمیلی رژیم بعثی عراق علیه ایران و اشغال خرمشهر توسط ارتش عراق
 (۳) برگزاری انتخابات اولین دوره مجلس خبرگان رهبری و تشکیل مجلس خبرگان
 (۴) بازگشایی دانشگاه‌ها که پس از پیروزی انقلاب اسلامی تعطیل شده بودند.

- ۲۰۱- در کدام عبارت، تفاوت میان نگرش جغرافیدانان با سایر رشته‌های علوم، به درستی بیان شده است؟
 (۱) کمک به انسان برای زندگی بهتر
 (۲) کشف ناشناخته‌های جهان
 (۳) مطالعه شباهت‌ها و تفاوت‌های مکان‌ها
 (۴) طبقه‌بندی نظام‌های اقتصادی و اجتماعی
- ۲۰۲- کدام مورد، با دلایل ناپایداری «دامنه شمالی البرز» مغایرت دارد؟
 (۱) شیب زیاد دامنه‌ها
 (۲) افزایش وزن دامنه‌ها
 (۳) جریان آب حاصل از بارندگی
 (۴) حجم زیاد رسوبات فرسایش یافته
- ۲۰۳- کدام گزینه، پیامد عبارت زیر است؟
 «در فصل زمستان و در شرایطی که توده هوا از هوای مجاور خود گرم‌تر می‌شود، در صورت وجود رطوبت، بارندگی صورت می‌گیرد.»
 (۱) افزایش بارش در سواحل خزر
 (۲) تراکم رطوبت و بارش در دامنه غربی زاگرس
 (۳) کاهش اختلاف دما در سواحل شمالی و جنوبی کشور
 (۴) تشکیل ابرهای نیمبواستراتوس در دامنه شمالی البرز
- ۲۰۴- کدام جمله، دلیل مناسبی برای عبارت تدوین شده است؟
 «سفیدرود و هراز از طولانی‌ترین رودهایی هستند که به دریای خزر وارد می‌شوند.»
 (۱) پُرآب‌ترین رودهای این حوضه آبریز هستند.
 (۲) از کوهستان‌های بلند و برف‌گیر تغذیه می‌شوند.
 (۳) سرچشمه رودهای متعددی در حوضه آبریز هستند.
 (۴) براساس شکل زمین و شیب ناهمواری جریان می‌یابند.
- ۲۰۵- همه عبارت‌ها، براساس «سلسله مراتب سکونتگاه‌های ایران»، به درستی نوشته شده‌اند، به جز:
 (۱) استان با تنوع خدمات بیشتر در رأس هرم قرار گرفته است.
 (۲) تنوع خدمات در دهستان کمتر از بخش و بیشتر از روستا است.
 (۳) در شهرستان شمار جمعیت و تنوع خدمات از بخش بیشتر و از استان کمتر است.
 (۴) تنوع خدمات و شمار جمعیت در چند روستا، از بخش بیشتر و از دهستان کمتر است.
- ۲۰۶- کدام گزینه، با توجه به تصویر زیر، عبارت تدوین شده را به درستی کامل می‌کند؟
 «هر مکان در روی زمین ویژگی‌هایی دارد و»

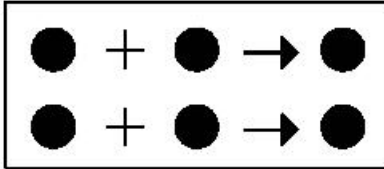


- (۱) میان هر واحد با واحد مجاور تفاوت وجود دارد.
 (۲) میان اجزا و پدیده‌های آن، نوعی پیوستگی و هماهنگی وجود دارد.
 (۳) تعیین حدود یک ناحیه، به هدف مطالعه و تحقیق جغرافیدان بستگی دارد.
 (۴) ویژگی اصلی هر ناحیه، وحدت و همگونی نسبی میان عناصر طبیعی و انسانی است.
- ۲۰۷- همه موارد، با ویژگی‌های بیان تصویر شده، مغایرت دارند، به جز:
 (۱) دوری از منابع رطوبتی
 (۲) صعود کردن هوای مرطوب
 (۳) مجاورت با مرکز پُر فشار جنب حازه
 (۴) قرار داشتن در عرض جغرافیایی بالا

۲۰۸- کدام گزینه، بیانگر تفاوت «نقش فرسایشی آب‌های جاری» در مقایسه با عملکرد سایر عوامل مؤثر در فرایند فرسایش است؟

- (۱) تشکیل غارهای طبیعی
(۲) تغییر شکل عوارض سطح زمین
(۳) انباشت مواد حاصل از هوازدگی
(۴) حمل مواد تخریب شده به صورت معلق

۲۰۹- کدام عبارت، با مدل تصویر شده روبه‌رو، مغایرت دارد؟



- (۱) ظهور دین مسیحیت در آسیا
(۲) خلق چشم‌اندازهای فرهنگی
(۳) همه‌گیری بیماری Covid۱۹

(۴) پراکندگی پیروان دین یهود در نواحی بزرگ بازرگانی

۲۱۰- همه عبارت‌ها، با نظریه «قدرت دریایی آلفرد ماهان»، مطابقت دارند. به جز:

- (الف) کشورهای قدرتمند هستند که به آب‌های آزاد دسترسی داشته باشند.
(ب) فضاهای دریایی و اقیانوسی در شکل‌گیری قدرت جهانی مؤثر هستند.
(ج) قدرت دریایی کشور ساحلی وابسته به نیروی جنگی ناوگان دریایی است.
(د) در کشورهای دریایی و اقیانوسی، ملتی قدرتمندتر است که در تجارت دریایی نیرومند باشد.
- (۱) الف و ب (۲) الف و ج (۳) ب و د (۴) ج و د

۲۱۱- کدام عبارت، درست است؟

- (۱) همه پایتخت‌ها در سطح جهان، مادرشهر هستند.
(۲) مادرشهرها بیش از ۱۰ میلیون نفر جمعیت دارند.
(۳) مادرشهرها در رأس هرم سلسله مراتب سکونتگاهی قرار دارند.
(۴) مادرشهرها بزرگ‌ترین و پرجمعیت‌ترین شهر در یک ناحیه یا استان هستند.

۲۱۲- کدام موارد، به صورت «طرح هادی روستایی و توسط بنیاد مسکن انقلاب اسلامی ایران» تهیه و اجرا شده است؟

- (الف) توسعه صنایع تبدیلی کشاورزی
(ب) آموزش بهداشت و پیشگیری از بیماری‌های واگیردار
(ج) بهبود خدمات گردشگری و فراغتی
(د) تأمین آب آشامیدنی سالم
- (۱) الف و ب (۲) الف و ج (۳) ب و د (۴) ج و د


۲۱۳- چرا مدیریت حمل‌ونقل درون شهری، یکی از موضوعات مهم شهرها، طی ۵۰ سال اخیر بوده است؟

- (۱) به دسترسی عادلانه همه اقشار جامعه توجه شده است.
(۲) نقاضای حمل‌ونقل شهری، رشد چشمگیری داشته است.
(۳) حمل‌ونقل یکی از اساسی‌ترین نیازهای روزانه مردم بوده است.
(۴) با توسعه وسایل حمل‌ونقل، مصرف سوخت‌های فسیلی بسیار افزایش یافته است.

۲۱۴- کدام عبارت، نادرست است؟

- (۱) رودخانه‌ها، جریان آب حاصل از بارش را، به تدریج تخلیه می‌کنند.
(۲) میان شکل حوضه و شیب بستر با طول آبراهه، رابطه مستقیمی وجود دارد.
(۳) در زمان وقوع سیلاب‌های فصلی، جریان آب، دشت‌های سیلابی را فرا می‌گیرد.
(۴) هر قدر تعداد انشعابات رود بیشتر باشد، سرعت تخلیه آب حاصل از بارش افزایش می‌یابد.

۲۱۵- تصویر زیر، با کدام یک از «روش‌های سازهای» در مدیریت پیش از وقوع سیل مطابقت دارد؟



- (۱) ساخت سدهای خشکه چین مطابق با دوره بازگشت آبراهه‌ها
(۲) ساخت دیواره‌های مهارکننده برای انحراف آبراهه‌ها
(۳) احداث کانال‌های انحرافی با هدف هدایت آبراهه‌ها
(۴) احداث سد تنظیمی برای اصلاح شیب آبراهه‌ها

۲۱۶- به ترتیب عناوین زیر، در رابطه با جهان اجتماعی چه چیزی را بیان می‌کنند؟

- حقوق و تکالیف افراد

- عقاید و ارزش‌ها

- پدیده‌های کلان مانند فرهنگ و جامعه

(۱) لایه‌های جهان اجتماعی - اجزای جهان اجتماعی - ویژگی جهان اجتماعی

(۲) محدودیت‌های جهان اجتماعی - ویژگی جهان اجتماعی - لایه‌های جهان اجتماعی

(۳) اجزای جهان اجتماعی - ویژگی جهان اجتماعی - فرصت‌ها و محدودیت‌های جهان اجتماعی

(۴) فرصت‌ها و محدودیت‌های جهان اجتماعی - عمیق‌ترین لایه‌های جهان اجتماعی - اجزای جهان اجتماعی

۲۱۷- کدام یک، روند تبدیل جهان اجتماعی به جهان اجتماعی دیگر را بیان می‌کند؟

(۱) بحران هویت ← دگرگونی هویت فرهنگی ← فراتر رفتن تغییرات از محدوده تغییرات درون جهان اجتماعی ← تحولات فرهنگی ← تبدیل جهان اجتماعی به جهان اجتماعی دیگر

(۲) تعارض فرهنگی ← بحران هویت ← دفاع از عقاید و ارزش‌های اجتماعی ← پیدایش شیوه‌هایی از زندگی در تداوم عقاید و ارزش‌ها ← تبدیل جهان اجتماعی به جهان اجتماعی دیگر

(۳) تزلزل فرهنگی ← بحران هویت ← تغییرات هویتی بیرون از مرزهای مقبول جهان اجتماعی ← تأثیرپذیری از جهان‌های اجتماعی دیگر ← تبدیل یک جهان اجتماعی به جهان اجتماعی دیگر

(۴) شکل‌گیری هویت اجتماعی خارج از چارچوب ارزش‌های اساسی جامعه ← پیدایش شیوه‌هایی از زندگی در تقابل با عقاید و ارزش‌ها ← بحران هویت ← تعارض فرهنگی ← تبدیل جهان اجتماعی به جهان اجتماعی دیگر

۲۱۸- ویژگی‌های جامعه تغلب و مردم آن کدام است؟

(۱) همکاری مردم برای غلبه یافتن بر سایر ملت‌ها - خوار و مقهور کردن دیگران - تصور برتر بودن خود نسبت به دیگران - طالب ستایش دیگران

(۲) خودداری از چیرگی بر مردم جامعه - فراهم آوردن زمینه نفوذ سلطه‌گران - منفعل کردن مردم - بی‌ارزش ندانستن مردم جوامع دیگر

(۳) علاقه به چیره شدن بر یکایک مردم جامعه خود - تصور خوشبخت و پیروز بودن دیگران - انکار نقش انسان‌ها در تعیین سرنوشتشان - خوار کردن دیگران

(۴) شیفتگی همه مردم برای غلبه بر اقوام دیگر - مالک نبودن ملت مقهور بر جان و مال خود - تصور توانایی دیگران در دستیابی به موقعیت آنان - خوار شمردن مردم جوامع دیگر

۲۱۹- در استعمار نو، کشور استعمارگر چگونه کنترل بازار و سیاست کشورهای دیگر را در اختیار می‌گیرد؟

(۱) استفاده از ابزارهای فناوری اطلاعات - با اتکاء به قدرت نظامی خود - با استفاده از نهادها و سازمان‌های اقتصادی و سیاسی بین‌المللی

(۲) با اتکاء به قدرت اقتصادی خود - با استفاده از نهادها و سازمان‌های اقتصادی و سیاسی بین‌المللی - از طریق دولت‌های دست‌نشانده

(۳) با اتکاء به قدرت نظامی خود - از طریق دولت‌های دست‌نشانده - هدف قرار دادن هویت فرهنگی دیگر کشورها

(۴) استفاده از مجربان بومی - استفاده از ابزارهای فناوری اطلاعات - با اتکاء به قدرت اقتصادی خود

۲۲۰- به ترتیب هر یک از عناوین زیر مربوط به کدام قسمت در جدول است؟

- دانش ابزاری

- عقل‌گرایی، نفی وحی

- بحران معرفتی

- حس‌گرایی، نفی عقل و وحی

روشنگری		
دوره زمانی	ویژگی	پیامد
قرون هفدهم و هجدهم	ج	د
قرون نوزدهم و بیستم	الف	هـ
پایان قرن بیستم	ب	و

(۴) هـ - ج - و - الف

(۳) د - ب - الف - ج

(۲) ج - و - هـ - الف

(۱) الف - هـ - ج - و

۲۲۱- عبارت درست در رابطه با انقلاب اسلامی ایران، کدام است؟

- (۱) در جهت مبارزه با استعمار قدیم و حذف کُرگزاران مستقیم غرب موفق شد - هویتی سیاسی داشت - مورد حمایت بلوک شرق بود.
- (۲) انقلاب اسلامی ایران فقط یک انقلاب سیاسی بود - با جنبش‌های چریکی گروه‌ها و احزاب مختلف شکل گرفت - هویتی فرهنگی و سیاسی داشت.
- (۳) در جهت از بین بردن سلطه سیاسی کشورهای غربی عمل می‌کرد - هویتی فرهنگی و تمدنی داشت - در کانون قطب فرهنگی جهان اسلام قرار گرفت.
- (۴) در کانون قطب سیاسی جهان اسلام قرار گرفت - در جهت از بین بردن سلطه نظامی کشورهای غربی عمل می‌کرد - به فلسفه‌ها و مکاتب سیاسی شرق تعلق نداشت.

۲۲۲- به ترتیب، مشخص کنید موارد ذکر شده با کدام نوع جامعه‌شناسی در ارتباط هستند؟

- از منظر آن برخی جوامع از برخی دیگر پیچیده‌ترند، در رفع نیازهای خود تواناترند و به همین دلیل پیشرفته‌ترند.
- انتظار دارد علوم اجتماعی با تشخیص و افشای سلطه در مناسبات انسانی، به رهایی انسان کمک کند.
- روش آن، نگاه به درون پدیده‌ها برای یافتن معنای آن‌ها است.
- بر آنچه مشاهده می‌شود تمرکز می‌کند.

(۱) تبیینی - تفسیری - انتقادی - انتقادی - تبیینی - انتقادی

(۳) انتقادی - تبیینی - تبیینی - تفسیری (۴) تبیینی - انتقادی - تفسیری - تبیینی

۲۲۳- به ترتیب، کدام رویکرد به نابرابری اجتماعی، چنین می‌پندارد؟

- جامعه وظیفه دارد امکان رقابت را برای همگان فراهم کند.
- عدالت اقتصادی، مهم دانسته می‌شود.
- نابرابری اجتماعی از تفاوت‌ها یا نابرابری‌های طبیعی ناشی می‌شود.

(۱) مخالفان قشربندی اجتماعی - طرفداران قشربندی اجتماعی - طرفداران عدالت اجتماعی

(۲) طرفداران عدالت اجتماعی - مخالفان قشربندی اجتماعی - طرفداران قشربندی اجتماعی

(۳) طرفداران قشربندی اجتماعی - مخالفان قشربندی اجتماعی - طرفداران عدالت اجتماعی

(۴) طرفداران عدالت اجتماعی - طرفداران قشربندی اجتماعی - مخالفان قشربندی اجتماعی

۲۲۴- کدام یک، از ویژگی‌های جامعه‌شناسی انتقادی است، اما ویژگی جامعه‌شناسی تفسیری نیست؟

- (۱) اغلب معنای کنش و آن چه درون انسان می‌گذرد را نادیده می‌انگارد - روش مطالعه، روش کمی است.
- (۲) به نقد سلطه در روابط و مناسبات میان افراد، گروه‌ها و فرهنگ‌ها می‌پردازد - هدف معنابخشی و انسجام‌بخشی به زندگی اجتماعی است.
- (۳) برای دفاع از اراده افراد و فرهنگ‌ها معتقد است نباید اراده فرد یا گروهی بر فرد یا گروه دیگری تحمیل شود - عدالت اجتماعی را تحسین می‌کند و برای گسترش آن راه‌حل‌هایی تجویز می‌کند.
- (۴) در این رویکرد برای فهم زندگی اجتماعی باید از ظاهر پدیده‌های اجتماعی عبور کرد و به معنای نهفته در کنش‌ها راه یافت - به بیان چرایی یک پدیده یا نشان دادن علت ایجاد و زوال آن می‌پردازد.

۲۲۵- دسته‌بندی فارابی از جوامع مختلف بر چه اساسی انجام شده و این تقسیم‌بندی چگونه صورت پذیرفته است؟

- (۱) نوع علم، اندیشه، آرمان‌ها و ارزش‌های آن‌ها - با تأثیرپذیری از قرآن و تجربه تاریخی جوامع
- (۲) شناخت آرمان‌ها و ارزش‌ها و تجربه تاریخی آن‌ها - با روش تجربی و تفهیمی و براساس باورهای دینی
- (۳) نوع حکومت، دانش‌ها و آثار مادی و معنوی آن‌ها - با تأثیرپذیری از قرآن و با شناخت سنت‌های الهی
- (۴) نوع علم، اندیشه، فرهنگ و رفتار آن‌ها - با توجه به جوامع زمان خود و جوامع گذشته و با استدلال عقلی

۲۲۶- علوم اجتماعی متفکران مسلمان، چه ویژگی‌هایی دارد؟

- (۱) برای داوری درباره ارزش‌ها، از ظرفیت عقل نظری و عملی و وحی بهره می‌برند و تبیین و تفسیر و تجویز استدلال‌های ویژه خود را دارند و در هر سه سطح، پژوهشگر اجتماعی به دنبال کشف واقعیت‌ها و حقایق است.
- (۲) از سطوح مختلف عقل استفاده می‌کنند و تبیین را به تبیین تجربی محدود می‌دانند و از ظرفیت جهان شمول عقل نظری و عقل عملی و وحی کمک می‌گیرند.
- (۳) از ظرفیت جهان شمول عقل نظری و عقل عملی و وحی برای داوری ارزش‌ها کمک می‌گیرند و تفسیر را نوعی تبیین و استدلال عقلی نمی‌دانند.
- (۴) تفسیر و تبیین را در تقابل با هم می‌بینند و در همه سطوح، پژوهشگر اجتماعی به دنبال کشف واقعیت‌ها و حقایق است.

- ۲۲۷- به ترتیب پاسخ پرسش‌های زیر چیست؟
- در چه شرایطی امکان تشخیص درست یا غلط بودن باورها و اندیشه‌ها از بشر سلب می‌شود؟
 - جنبش عدالتخانه از آن جهت که ساختار سیاسی جامعه را تغییر می‌داد، چگونه انقلابی بود؟
 - بسیاری از آدابی که مراعات می‌کنیم، محصول چیست؟
 - چه چیزی، سکولاریسم را از لایه‌های سطحی فرهنگ غرب به لایه‌های عمیق آن تسری داد؟
- (۱) تعارض فرهنگی - سیاسی - کنش‌های اجتماعی - اومانیزم
 (۲) تزلزل فرهنگی - هویتی - هنجارهای اجتماعی - فلسفه‌های روشنگری
 (۳) بحران هویتی - فرهنگی - سنت‌ها و قوانین اجتماعی - جریان‌های پست مدرن
 (۴) بحران معرفت‌شناختی - اجتماعی - پدیده‌های اجتماعی اطراف ما - فلسفه‌های روشنگری
- ۲۲۸- به ترتیب هر یک از موارد زیر نتیجه چیست؟
- رکود اراده‌ها
 - حذف ارزش و اخلاق از زندگی اجتماعی
 - ایجاد دولت بزرگ
 - مشاهده نشدن نظم در زندگی روزمره
- (۱) نادیده گرفتن کنش اجتماعی - تأکید بیش از اندازه رویکرد تبیینی بر نظم و ساختارهای اجتماعی - اقتصاد وابسته به نفت - عادت به نظم
 (۲) نادیده گرفتن قواعد اجتماعی - تأکید بیش از اندازه رویکرد انتقادی بر نظم و ساختارهای اجتماعی - تک محصولی - عدم آگاهی
 (۳) خودباختگی فرهنگی - روی آوردن به جامعه‌شناسی تفسیری - عدم رواج کسب و کار - تمرکز بر بی‌نظمی
 (۴) بحران هویت - سلب شور زندگی از انسان‌ها - تولید ملی ضعیف - آشنایی‌زدایی
- ۲۲۹- به ترتیب هر یک از این موارد با چه موضوعی ارتباط دارند؟
- افرادی که از نظر قانونی و اجتماعی از هیچ اهمیت و اعتباری برخوردار نبودند ولی به علت فواید و کارکردهایشان تحمل می‌شدند.
 - اگر اراده فرد یا گروهی سرکوب گردد، مصداق سلطه است.
 - اتفاقات غیرمنتظره شما را از همکاری با دیگران باز ندارند.
- (۱) رعایا - دیدگاه جامعه‌شناسی تبیینی - فایده علوم اجتماعی
 (۲) کارگران کشاورز - هدف جامعه‌شناسان انتقادی - فایده علوم انسانی
 (۳) طبقه متوسط - نگرش جامعه‌شناسی تفسیری - فایده قواعد اجتماعی
 (۴) طبقه سوم در جوامع فنودالی غربی - نگرش جامعه‌شناسان انتقادی - فایده نظم اجتماعی
- ۲۳۰- پاسخ سؤال‌های زیر کدام است؟
- تأمین جمعیت مناسب برای جهان اجتماعی، چگونه مسئله‌ای است؟
 - مطالعه موردی، جزء کدام دسته از روش‌ها است؟
 - «کنش انسان‌ها» با کدام عقل درک می‌شود؟
 - در اواخر قرن بیستم، چه چیزی محور مباحثات فکری و سیاسی شد؟
- (۱) اجتماعی - کمی - ابزاری - قشربندی
 (۲) هویتی - کیفی - تفسیری - هویت
 (۳) سیاسی - کیفی - تجربی - عدالت اجتماعی
 (۴) اقتصادی - قوم‌نگاری - انتقادی - کشمکش طبقاتی
- ۲۳۱- هر یک از موارد زیر، به کدام علت پدید آمده‌اند؟
- خرده فرهنگ‌ها و گروه‌های مختلف درون هر جهان اجتماعی
 - استفاده از منابع عقلانی و وحیانی در تبیین‌های علمی جهان اسلام
 - سرعت بخشیدن به انباشت ثروت سرمایه‌داران
 - حاشیه‌نشینی
- (۱) تنوع و تکثر معانی - توجه به عقل در معنای عام - تکنولوژی - مرکز، پیرامون
 (۲) معنادار بودن کنش‌های انسانی - اخذ این تفاسیر از فلسفه یونان - رشد تجارت - بحران اقتصادی
 (۳) فعالیت و خلاقیت کنشگران - محدود نشدن به شناخت تجربی - صنعت - بحران زیست‌محیطی
 (۴) تفاوت زمینه‌های فرهنگی کنشگران - عدم ساماندهی همه عرصه‌های علمی توسط عقلانیت - برده‌داری - فقر و غنا

۲۳۲ به ترتیب، این نظریه‌ها توسط چه کسانی مطرح شده است؟

- جهان متجدد فقط علمی را که با روش‌های تجربی به دست می‌آیند، علم می‌داند.
- در ورای ابهام، رمز و رازی نهفته است که با هنر می‌توان به آن راه یافت.
- چالش‌های جامعه سرمایه‌داری، فقط با یک انقلاب قابل حل بود.
- «عصبیت» را عامل شکل‌گیری جوامع می‌دانست.

- (۱) وبر - مارکس - هانتینگتون - فارابی
 (۲) فارابی - گافمن - وبر - ابن‌خلدون
 (۳) مارکس - وبر - ابوعلی مسکویه - فارابی
 (۴) وبر - پاول کله - مارکس - ابن‌خلدون

۲۳۳ پاسخ سؤال‌های زیر به ترتیب کدام است؟

- برخی از متفکران، مشکل سرنوشت‌ساز قرن بیستم را چه چیزی می‌دانند؟
- مشخصه اصلی هویتی دولت - ملت‌های جدید چه بود؟
- وقتی فردی مجسمه‌ای می‌سازد از چه جهانی، به چه جهانی وارد می‌شود؟
- چه کسی معتقد بود که جهان متجدد در جهت برخورداری از زندگی دنیوی و تسلط انسان بر عالم گام برمی‌دارد؟

- (۱) بحران‌های زیست‌محیطی - ملی‌گرایی و وطن‌دوستی - فردی به فرهنگی - ماکس وبر
 (۲) تقابل‌های جهانی - شناخت متقابل هویت‌ها - تکوینی به فرهنگی - مارکس
 (۳) بحران معرفتی - سیاست هویت - فردی به تکوینی - آگوست کنت
 (۴) فقر و غنا - ناسیونالیسم - فرهنگی به اجتماعی - ماکس وبر

۲۳۴ - درست و غلط بودن عبارت‌های زیر را تعیین کنید.

- هرگاه عقاید و ارزش‌ها، اهمیت و اعتبار خود را نزد اعضای جهان اجتماعی از دست بدهند، دوام هویت فرهنگی با چالش‌هایی مواجه می‌شود.
- فاصله میان وضع موجود و وضع مطلوب جهان اجتماعی، جامعه‌شناسی را به داوری درباره ارزش‌ها و انتقاد از آن‌ها می‌کشاند.
- با تغییرات و تفاوت‌هایی که در جهان اجتماعی به وجود می‌آید، مانند افول یا رشد اقتصاد و ... هویت جهان اجتماعی تغییر می‌کند.

- بیداری اسلامی، تغییر موقعیت ملت‌ها و کشورهای پیرامونی، در نظام جهانی سلطه را هدف نهایی خویش می‌بیند.

- (۱) غ - د - غ - غ
 (۲) د - د - غ - غ
 (۳) غ - د - د - غ
 (۴) غ - د - غ - غ

۲۳۵ - در ارتباط با یک کنش اجتماعی، مانند گرایش افراطی جوانان به اینترنت و بازی‌های رایانه‌ای، به ترتیب هر یک از رویکردهای سه‌گانه جامعه‌شناسی تبیینی، تفسیری و انتقادی چگونه به بررسی آن می‌پردازند؟

(۱) با استفاده از روش‌های کمی، به پیش‌بینی این کنش اجتماعی و راه‌های کنترل آن می‌پردازد - با توجه به پیچیدگی پدیده اعتیاد به اینترنت و فضای مجازی، به فهم معنای آن در گروه‌های مختلف می‌پردازد - با پذیرش معانی و اراده افراد و کشف حقیقت و فضیلت، به نقد این کنش پرداخته و وضعیت مطلوب را تجویز می‌کند.

(۲) در هر جامعه، با توجه به ویژگی‌های فرهنگی و اجتماعی آن می‌توان این پدیده را مورد مطالعه تجربی قرار داد - برای فهم و تفسیر این کنش، باید بفهمیم که این اعتیاد بر چه چیزی دلالت می‌کند - با استفاده از روش‌های کمی، بدون تحمیل و سرکوب این کنش، وضع مطلوب را تجویز می‌کند.

(۳) بین میزان پرخاشگری با اعتیاد به اینترنت و بازی‌های رایانه‌ای رابطه وجود دارد - به زمینه فرهنگی که جوانان در آن به استفاده افراطی از اینترنت می‌پردازند رجوع می‌کنند - اعتیاد به اینترنت و فضای مجازی برای جوانان خطرناک است و آن‌ها را از فضای واقعی زندگی جدا می‌کند.

(۴) اعتیاد به اینترنت و فضای مجازی موجب اخلاق‌گریزی و سقوط ارزش‌ها می‌شود - سرگرمی، هیجان، آزادی و به‌روز بودن، انگیزه و عامل اصلی حضور در فضای مجازی است - با وجود پیچیدگی این مسئله و همه‌گیر بودن آن، می‌توان به راهکارهایی برای بهبود این وضعیت دست یافت.

۲۳۶- در کدام عبارت، احتمال وقوع مغالطه اشتراک لفظ وجود دارد؟

- (۱) قضایا مانند مفاهیم، به جزئی و کلی تقسیم می‌شوند.
- (۲) تصدیق می‌کنم که به درستی، متوجه منظور شما نشدم.
- (۳) او خدو انداخت بر رویی که ماه / سجده آرد پیش او در سجده‌گاه
- (۴) کار پاکان را قیاس از خود مگیر / گرچه باشد در نبستن شیر شیر

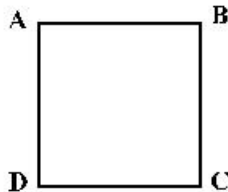
۲۳۷- در کدام مورد، نوع دلالت همه الفاظ مشخص شده بر معنای آن‌ها یکسان است؟

- (۱) دوستش او را به خانه خود برد. - دست‌هایت را تا جایی که می‌توانی بالا ببر - خدا در قرآن به قلم سوگند خورده است.
- (۲) پاک‌کنی که خریدام، خوب پاک نمی‌کند. - دستم روی کاغذ می‌دوید و داستان را پیش می‌برد. - در قوری گم شده است.
- (۳) تو ماه منی، مرا با ماه گردون کاری نیست. - چون کوه استوار باش و دلت را به خدای بسیار - ماشین پت پتی کرد و از کار افتاد.
- (۴) دست خدا بالای دست‌های آنان است. - سرو از میان درختان، مظهر خوش قد و بالائی است. - پس از رسیدن به خانه، دست و صورت را بشوید.

۲۳۸- مناسب‌ترین پاسخ برای این پرسش که «چرا جملات انشایی در منطق بررسی نمی‌شوند،» کدام است؟

- (۱) با واقعیت مطابقت ندارند.
- (۲) خطای اندیشه شامل آن‌ها نمی‌شود.
- (۳) فقط از احساسات و تمایلات ما خبر می‌دهند.
- (۴) به شکل سؤالی، امری یا عاطفی بیان می‌شوند.

۲۳۹- اگر مربع روبه‌رو، مربع تقابل باشد، به ترتیب امکان موارد زیر را بررسی کنید:



- جمع میان A و D در صدق
- تشخیص صدق یا کذب B در صورت صدق C
- جمع میان A و B در صدق
- (۱) غیرممکن - غیرممکن - امکان پذیر
- (۲) غیرممکن - امکان پذیر - غیرممکن
- (۳) امکان پذیر - امکان پذیر - غیرممکن
- (۴) امکان پذیر - غیرممکن - غیرممکن

۲۴۰- روزی نرگس از دور، حیوانی چهارپا دید که بار زیادی بر پشتش گذاشته شده بود. پدر او مدتی پیش در ضمن یک داستان، شتر کوهان دار را برای او توصیف کرده بود. نرگس بی‌درنگ فریاد زد: پدر! شتر کوهان دار! نرگس دچار چه مغالطه‌ای شده است؟

- (۱) تمثیل ناروا
- (۲) ابهام انعکاس
- (۳) تعمیم شتابزده
- (۴) توسل به احساسات

۲۴۱- در کدام قضیه، دامنه مصادیق موضوع و محمول علامت یکسانی دارند؟

- (۱) برخی از حیوانات استخوان ندارند.
- (۲) تیم والیبال جنابازان بازی را برد.
- (۳) آدمی به‌طور طبیعی به آینده می‌اندیشد.
- (۴) محمود از فرستاده مغولان استقبال خوبی نکرد.

۲۴۲- کدام قضیه مانع‌الجمع است؟

- (۱) جسم یا رسانا است یا غیرفلز.
- (۲) ماه یا به دور خورشید می‌گردد یا به دور زمین.
- (۳) قضیه یا حملی است یا منفصل حقیقی.
- (۴) هر موجودی، یا جاندار است یا دارای احساس نیست.

۲۴۳- کدام عبارت درست است؟

- (۱) هرگاه نتیجه یک استدلال درست باشد، می‌توان نتیجه گرفت که مقدمات آن هم درست بوده است.
- (۲) تأثیری که ژولیدگی یک فرد بر نفوذ کلام او نزد شنونده می‌گذارد، ناشی از نوعی مغالطه است.
- (۳) کلمات مترادف، با توجه به یکی بودن مفهوم، از نظر تأثیری که بر شتوندگان می‌گذارند، مشابهت دارند.
- (۴) در مغالطه تعمیم شتابزده، مغالطه‌گر می‌کوشد تا با استفاده از یک عامل روانی شنونده را تحت تأثیر قرار دهد.

۲۴۴- کدام مورد، ویژه تفکر فلسفی است؟

- (۱) تأمل در باورهای بنیادین زندگی
- (۲) استفاده از روش عقلی و استدلالی
- (۳) تلاش برای رهایی از عادت‌های غیرمنطقی
- (۴) تلاش برای پاسخ قانونمند به سؤالات مطرح شده

۲۴۵- فلسفه با کدام مورد ارتباط مستقیم ندارد؟

- (۱) عشق به خردمندی
(۲) هنر خوب زیستن
(۳) استفاده درست از ظرفیت ذهن
(۴) تلاش برای نیل به حقیقت

۲۴۶- کدام عبارت درست است؟

- (۱) گستردگی شناخت و فهم ما از جهان، نشان می‌دهد که توانایی شناخت ما حدی ندارد.
(۲) کسی که توانایی شناخت برخی امور را مطلقاً منتفی بداند، امکان شناخت را منکر است.
(۳) با پیشرفت‌های حیرت‌آور بشر در سده‌های اخیر، همه دانش‌های گذشته زیر سؤال رفته‌اند.
(۴) کسی که معتقد است حقیقت غیرقابل شناخت است، ناخواسته وجود یک حقیقت را اثبات می‌کند.

۲۴۷- بارزترین نشانه اعتبار شناخت حسی کدام است؟

- (۱) عقل به کمک این شناخت، اسرار و رموز طبیعت را می‌شناسد.
(۲) با استفاده از آن می‌توان خطاهای گوناگون حواس را تشخیص داد.
(۳) انسان نیازهای جسمانی خود را براساس یافته‌های آن برطرف می‌کند.
(۴) فقط با استفاده از این شناخت می‌توانیم تمایز و تفاوت چیزها را بفهمیم.

۲۴۸- کانت با کدام یک موافق است؟

- (۱) هیچ‌یک از شناخت‌های انسان ذاتی نیست.
(۲) اصل علیت اصلی است که عقل آن را اثبات می‌کند.
(۳) علیت طلوع خورشید نسبت به روشنی زمین، از پیش در دستگاه ادراکی موجود است.
(۴) تصوراتی مانند زمان و مکان و علیت را، انسان از راه عقل به دست می‌آورد نه از راه حس و تجربه.

۲۴۹- توضیح تأثیر متقابل روح و جسم، بنا بر دیدگاه کدام یک، مشکل‌تر است؟

- (۱) ملاصدرا (۲) دکارت (۳) داروینیست‌ها (۴) ماتریالیست‌ها

۲۵۰- ملاصدرا و ابن سینا در مورد کدام عبارت، اختلاف نظر دارند؟

- (۱) روح بدن را به کار می‌گیرد، نه بدن روح را.
(۲) روح و بدن در واقع تفاوتی با یکدیگر ندارند.
(۳) رابطه روح و بدن شبیه رابطه قفس و پرنده است.
(۴) بدن بیمار، روح را کسل می‌کند و روح افسرده بدن را بیمار می‌کند.

۲۵۱- مفهوم «عدالت» در دیدگاه‌های اخلاقی افلاطون، به کدام یک از عبارات‌های زیر نزدیک‌تر است؟

- (۱) اعمال تساوی و برابری میان قوای سه‌گانه وجودی
(۲) اعتدال و هماهنگی میان ابعاد و قوای وجودی انسان
(۳) غلبه قوه عقلانی بر قوای شهوت و غضب و ممانعت آن‌ها از عمل
(۴) ایجاد برابری در همه ابعاد فردی و اجتماعی برای رسیدن به سعادت

۲۵۲- حمل «دارای دو قطر مساوی» بر «هریخ»، از نظر نسبت، مانند کدام حمل است؟

- (۱) دوزنقه بر شکل
(۲) متساوی‌الاضلاع بر مثلث
(۳) مثلث بر دارای اضلاع
(۴) دارای زاویه بر مستطیل

۲۵۳- کدام عبارت، مورد توافق کانت و هیوم است؟

- (۱) درک علیت از طریق حواس امکان‌پذیر نیست.
(۲) مفاهیمی مانند علیت، جزء ساختارهای ذهن انسان‌اند.
(۳) انسان داده‌های حسی را، در قالب‌های ذهنی درک می‌کند.
(۴) برای درک علیت، باید هم از حس و هم از عقل استفاده کنیم.

۲۵۴- در کدام عبارت، لفظ «باید» نشان دهندهٔ وجوب علی و معلولی است؟

- (۱) برای نماز خواندن باید وضو گرفت.
- (۲) انسان باید راستگو و درستکار باشد.
- (۳) وقتی از مدرسه آمدی باید تکالیفت را انجام دهی.
- (۴) وقتی در قفل نیست و اشکالی وجود ندارد، باید در باز شود.

۲۵۵- کدام یک، جزء مقدمات برهان حرکت نیست؟

- (۱) هر متحرکی نیازمند محرک است.
- (۲) تسلسل از نظر عقلی محال است.
- (۳) در عالم طبیعت حرکت وجود دارد.
- (۴) محرکی وجود دارد که خودش حرکت ندارد.

۲۵۶- کدام مورد با نظرات فیلسوفان مسلمان سازگار است؟

- (۱) معناداری زندگی انسان بدون پذیرش واقعی وجود خدا، غیرممکن است.
- (۲) مقدمه مشترک همه براهین اثبات خدا، نیازمندی هر موجودی به علت است.
- (۳) عقل وجود خدا را اثبات می‌کند و این، برای معنابخشی به زندگی کافی است.
- (۴) فیلسوف، وجود خدا را به دلایل دینی می‌پذیرد و سپس می‌کوشد تا وجود او را اثبات کند.

۲۵۷- کدام عبارت، عقل عملی را به درستی و با دقت بیشتری توضیح می‌دهد؟

- (۱) آن عقلی که به علوم عملی، یعنی بایدها و نبایدها، مهارت‌ها و فنون اختصاص دارد
- (۲) جنبه‌ای از عقل که بایدها و نبایدها را مورد بررسی و شناخت قرار می‌دهد
- (۳) آن بُعد از وجود انسان که به انجام بایدها و پرهیز از نبایدها مبادرت می‌ورزد
- (۴) نوعی از عقل که به رفتارهای اختیاری و باید و نبایدهای او اختصاص دارد

۲۵۸- کدام عبارت درست است؟

- (۱) این ویژگی، خاص دانش فلسفه است که درستی یا نادرستی گزاره‌های آن را استدلال و برهان تعیین می‌کند.
- (۲) فیلسوفان تجربه‌گرای مسلمان، برخلاف گروه عقل‌گرا، استدلال تجربی و تمثیل را نیز در جای خود معتبر می‌دانند.
- (۳) به اعتقاد فیلسوفان مسلمان، ایمانی که پشتوانهٔ عقلی ندارد، می‌تواند عامل گمراهی فکری یا عملی انسان گردد.
- (۴) اصل در دانش فلسفه، تقویت مهارت‌های منطقی و تفکر فلسفی است و دانستن تفکرات سایر فیلسوفان ضرورتی ندارد.

۲۵۹- با استفاده از طبیعت‌شناسی ابن سینا، کدام عبارت درست است؟

- (۱) بندگان عالم خداوند که خشیت او را به دل دارند، کسانی‌اند که از طبیعت گذشته و در ماوراءالطبیعة تحقیق کرده‌اند.
- (۲) با وجود خسارت‌هایی که ملخ‌های مهاجم به کشاورزان می‌زنند، نمی‌توان آن‌ها را حشرات بی‌فایده و مضر به حال طبیعت دانست.
- (۳) بیماری، پیری و مرگ هر چند شر و بدی به نظر می‌رسند، اما با توجه به نظام احسن، هیچ‌گونه داوری در مورد آن‌ها نمی‌توان کرد.
- (۴) طبیعت مرتبه‌ای از هستی است که روبه مقصدی خاص دارد و موجودات آن، دستخوش تحولاتی می‌شوند که منشاء طبیعت آن‌ها می‌شود.

۲۶۰- کدام عبارت با نظرات ملاصدرا سازگار است؟

- (۱) آن چه اصیل است، وجود است و ماهیت انتزاعی است، یعنی هیچ‌گونه واقعیتی ندارد.
- (۲) میان وجود و ماهیت، وجود امری واقعی و ماهیت مفهومی ساخته و پرداخته ذهن افراد است.
- (۳) ذهن عادی و طبیعی انسان، در مسئله اصالت وجود یا ماهیت، حقیقت را وارونه نشان می‌دهد.
- (۴) وحی و شهود را باید در فلسفه به همان نحوی به کار گرفت که عقل و استدلال به کار می‌روند.

- ۲۶۱- کدام عبارت، در خصوص روش‌های جمع‌آوری اطلاعات در روان‌شناسی درست است؟
 (۱) از پرسشنامه برای جمع‌آوری اطلاعات عمیق از افراد استفاده می‌شود.
 (۲) یک آزمون در اجراهای متعدد متغیرهای متفاوتی را اندازه می‌گیرد.
 (۳) مصاحبه بدون نظام مستلزم وقت زیادی در جمع‌آوری اطلاعات است.
 (۴) از طریق مشاهده از افراد به‌طور مستقیم درباره رفتار و احساسات سؤال می‌شود.
- ۲۶۲- کدام مورد، در خصوص شناخت درست است؟
 (۱) پردازش مفهومی در یافتن بهترین راه‌حل برای رسیدن به هدف کارآمدتر است.
 (۲) پردازش مفهومی تنها از طریق خصوصیات کیفی محرک صورت می‌گیرد.
 (۳) توجه به محرک بالاترین مرحله شناخت ناشی از پردازش ادراکی است.
 (۴) روش پردازش ادراکی محرک‌ها در همه انسان‌ها یکسان است.
- ۲۶۳- پاسخ‌های خردمندانه به مسائل علمی در روان‌شناسی بیانگر چه مفهومی است؟
 (۱) فرضیه (۲) نظریه (۳) تجربه (۴) بیان مسئله
- ۲۶۴- براساس کدام مورد «خودآرمانی» در افراد شکل می‌گیرد؟
 (۱) خود واقعی (۲) رویاپردازی (۳) ویژگی‌های فردی (۴) ایده‌آل‌های فردی
- ۲۶۵- کدام عبارت، در خصوص رشد هیجانی از تولد تا ۱۲ سالگی درست است؟
 (۱) رشد هیجانی فرایندی ساده است و تنها معطوف به هیجانات ساده است.
 (۲) واکنش و عکس‌العمل اطرافیان در جهت‌دهی کودکان به هیجانات خود نقش دارد.
 (۳) رشد هیجانی ابتدایی‌ترین جنبه تحول در این دوره است و با سرعت و تغییرات بسیار همراه است.
 (۴) به موازات افزایش آگاهی، هیجانات ساده ترحم و سپاسگزاری به هیجانات مرکب ترس و خشم تبدیل می‌شود.
- ۲۶۶- معنای پختگی کدام است؟
 (۱) تغییرات در طول زندگی (۲) به ارث بردن صفات از والدین
 (۳) بارور کردن تخمک مادر با اسپرم پدر (۴) رفتارهای وابسته به آمادگی زیستی
- ۲۶۷- کدام عبارت، در خصوص ویژگی‌های رشد نوجوانان درست است؟
 (۱) از لحاظ جسمانی تغییرات سریع و متعددی را تجربه می‌کنند.
 (۲) در پایان این دوره همه نوجوانان هویتی مثبت و با ثباتی را کسب می‌کنند.
 (۳) به دلیل تغییرات شناختی نسبت به مسائل اخلاقی و ارزشی بی‌تفاوت هستند.
 (۴) اطلاعات را بیشتر به‌صورت ادراکی و براساس ویژگی‌های عینی پردازش می‌کنند.
- ۲۶۸- نوجوان ۱۶ ساله‌ای به خاطر می‌آورد که زمانی که حدوداً ۵ ساله بود، در یک پارک بزرگ، پدر و مادر خود را گم کرده و بعد از چند ساعت توسط پلیس به والدین خود بازگردانده شده است. والدین این نوجوان تأکید می‌کنند که چنین رویدادی هرگز رخ نداده است. این مثال به کدام نوع حافظه اشاره دارد؟
 (۱) حسی (۲) کاری (۳) کاذب (۴) معنایی
- ۲۶۹- کدام عبارت، در خصوص فردی که در آزمایش شرایط محرومیت حسی شرکت می‌کند، درست است؟
 (۱) از بین محرک‌های محیطی زیاد، یک یا چند محرک را انتخاب و به آن‌ها توجه می‌کند.
 (۲) شدت محرک‌های بیرونی در حدی نیست که اعضای حسی او تحریک شود.
 (۳) حواس پنجگانه فرد با محرک‌های متنوع تحریک می‌شود.
 (۴) از شرایط محرومیت حسی لذت می‌برد.
- ۲۷۰- در کدام مورد، دانش‌آموزان نسبت به موضوعی که توسط معلم در کلاس تدریس می‌شود، تمرکز بیشتری دارند؟
 (۱) معلم موضوع جدید و تازه‌ای را تدریس کند.
 (۲) معلم موضوع را به‌صورت مستمر و بدون وقفه تدریس کند.
 (۳) دانش‌آموزان نسبت به موضوع موردنظر آگاهی نسبی داشته باشند.
 (۴) دانش‌آموزان در کلاس‌های متعددی با موضوع موردنظر برخورد کرده باشند.


- ۲۷۱- این نکته که در موقعیت ردیابی علامت، تکالیف مهم با هشدار کاذب همراه است، به کدام معنی است؟
- (۱) امکان ردیابی علامت درحالی که محرک هدف حاضر است، کمتر است.
 - (۲) امکان ردیابی علامت درحالی که محرک هدف غایب است، بیشتر است.
 - (۳) امکان از دست دادن علامت درحالی که محرک هدف غایب است، کمتر است.
 - (۴) امکان از دست دادن علامت درحالی که محرک هدف حاضر است، بیشتر است.
- ۲۷۲- مطابق با نمودار فراموشی، بعد از به خاطر سپردن اطلاعات، در صورتی که مرور اطلاعات صورت نگیرد، بیشترین میزان اطلاعات بعد از گذشت چه زمانی فراموش می‌شود؟
- (۱) ۱ ساعت
 - (۲) ۸ ساعت
 - (۳) ۱۲ ساعت
 - (۴) ۲۴ ساعت
- ۲۷۳- کدام مرحله در حافظه حسی نسبت به حافظه کوتاه مدت برتری دارد؟
- (۱) زمان بازیابی
 - (۲) به خاطر آوردن
 - (۳) نوع رمزگردانی
 - (۴) ظرفیت ذخیره‌سازی
- ۲۷۴- وقتی تجربه گذشته فرد، یادگیری جدید را آسان تر کند، با چه پدیده‌ای سروکار داریم؟
- (۱) انتقال
 - (۲) اثر نهفتگی
 - (۳) بازیابی راه حل
 - (۴) تداخل
- ۲۷۵- دانشمندان علوم انسانی بیشتر با مسئله‌هایی برخورد می‌کنند که از نوع «خوب تعریف نشده» هستند. این مسئله‌ها دارای کدام ویژگی هستند؟
- (۱) ابهامات کمی در مورد آن‌ها وجود دارند.
 - (۲) راهبردهای حل آن‌ها در دسترس دانشمندان قرار دارد.
 - (۳) چند علیتی و پیچیده هستند و به دشواری قابل حل هستند.
 - (۴) دانشمندان می‌توانند با طی مراحل مشخص به‌طور تضمینی آن‌ها را حل کنند.
- ۲۷۶- افرادی که باور دارند «همه چیز خودبه‌خود درست می‌شود» دارای کدام سبک تصمیم‌گیری هستند؟
- (۱) وابسته
 - (۲) اجتنابی
 - (۳) احساسی
 - (۴) منطقی
- ۲۷۷- کدام عبارت، در خصوص سبک‌های تصمیم‌گیری درست است؟
- (۱) سبک‌های تصمیم‌گیری مختلف دارای کارایی یکسان هستند.
 - (۲) همه سبک‌های تصمیم‌گیری در عوامل زیربنایی با هم شباهت دارند.
 - (۳) سودمندی و مناسب بودن سبک تصمیم‌گیری بستگی به موقعیت دارد.
 - (۴) سبک‌های تصمیم‌گیری شیوه‌های پایدار و ثابت افراد در تصمیم‌گیری است.
- ۲۷۸- دانشجویی که بعد از ۳ ترم متوالی موفق به کسب نمره قبولی در درس ریاضیات نشده است و دچار درماندگی آموخته شده است، دارای کدام باور است؟
- (۱) به دلیل بی‌نظمی و عدم مطالعه کافی موفق به کسب نمره قبولی نشدم.
 - (۲) اگر در کلاس‌های حل تمرین شرکت کنم، می‌توانم نمره قبولی کسب کنم.
 - (۳) مهم نیست که چقدر مطالعه کنم، نمره این درس به تلاش من ربطی ندارد.
 - (۴) در صورتی که بیشتر مطالعه کنم، می‌توانم در ترم آینده نمره قبولی را کسب کنم.
- ۲۷۹- فرض کنید مسابقه فوتبالی برای مشخص شدن قهرمان به مرحله پنالتی‌ها رسیده است. به نظر شما کدام دروازه‌بان ممکن است به علت وجود احساس استرس، نتیجه ضعیفتری از خود نشان دهد؟
- (۱) قبلاً به کرات پنالتی‌های زیادی را توانسته است کنترل کند، ولی این بار نگران است.
 - (۲) توان خود را در گرفتن پنالتی عالی ارزیابی نمی‌کند و زننده پنالتی را خیلی با مهارت می‌داند.
 - (۳) توان خود را در گرفتن پنالتی عالی ارزیابی می‌کند و زننده پنالتی را خیلی با مهارت می‌داند.
 - (۴) توان خود را در گرفتن پنالتی عالی ارزیابی نمی‌کند و زننده پنالتی را خیلی با مهارت نمی‌داند.
- ۲۸۰- دانش‌آموزی که در کنکور دچار استرس زیادی می‌شود، واکنش‌ها و علائم مختلفی نشان می‌دهد. کدام عبارت در مورد این علائم درست است؟
- (۱) دست‌های دانش‌آموز عرق می‌کند و احساس تپش قلب و ضربان بالا دارد، به‌عنوان علائم هیجانی
 - (۲) دانش‌آموز تمرکز و دقت خود را از دست می‌دهد و برخی سؤال‌ها را جا می‌اندازد، به‌عنوان علائم جسمانی
 - (۳) دست‌های دانش‌آموز عرق می‌کند، احساس تپش قلب می‌کند و ضربان بالا دارد، به‌عنوان علائم رفتاری
 - (۴) دانش‌آموز تمرکز و دقت خود را از دست می‌دهد و برخی سؤال‌ها را جا می‌اندازد، به‌عنوان علائم شناختی

کد کنترل

362

A

خارج از کشور



دفترچه شماره ۲
صبح جمعه

جمهوری اسلامی ایران
وزارت علوم، تحقیقات و فناوری
سازمان سنجش آموزش کشور

«اگر دانشگاه اصلاح شود مملکت اصلاح می‌شود.»
امام خمینی (ره)

آزمون سراسری ورودی دانشگاه‌های کشور - ۱۴۰۰

گروه آزمایشی علوم انسانی (ویژه علوم و معارف اسلامی) آزمون اختصاصی

مدت پاسخ‌گویی: ۱۶۵ دقیقه

تعداد سؤال: ۱۸۰

ردیف	مواد امتحانی	تعداد سؤال	از شماره	تا شماره	مدت پاسخ‌گویی
۱	ریاضی	۲۰	۱۰۱	۱۲۰	۲۵ دقیقه
۲	اقتصاد	۱۵	۱۲۱	۱۳۵	۱۰ دقیقه
۳	زبان و ادبیات فارسی	۳۰	۱۳۶	۱۶۵	۳۰ دقیقه
۴	زبان عربی	۲۰	۱۶۶	۱۸۵	۲۰ دقیقه
۵	تاریخ	۱۵	۱۸۶	۲۰۰	۲۵ دقیقه
۶	جغرافیا	۱۵	۲۰۱	۲۱۵	
۷	علوم اجتماعی	۲۰	۲۱۶	۲۳۵	۱۵ دقیقه
۸	فلسفه و منطق	۲۵	۲۳۶	۲۶۰	۲۵ دقیقه
۹	روان‌شناسی	۲۰	۲۶۱	۲۸۰	۱۵ دقیقه

سال ۱۴۰۰

حق چاپ، تکثیر و انتشار سؤالات به هر روش (الکترونیکی و ...) پس از برگزاری آزمون، برای تمامی اشخاص حقیقی و حقوقی تنها با مجوز این سازمان مجاز می‌باشد و با متخلفین برابر مقررات رفتار می‌شود.

* داوطلب گرامی، عدم درج مشخصات و امضاء در مندرجات جدول ذیل، به منزله عدم حضور شما در جلسه آزمون است.

اینجانب..... با شماره داوطلبی..... با آگاهی کامل، یکسان بودن شماره سندلی خود را با شماره داوطلبی مندرج در بالای کارت ورود به جلسه، بالای پاسخنامه و دفترچه سؤالات، نوع و کدکنترل درج شده بر روی دفترچه سؤالات و پائین پاسخنامه ام را تأیید می نمایم.

امضاء:

۱۰۱- فرض کنید تابع درآمد شرکتی به ازای تولید x محصول از یک کالا به صورت $R(x) = -\frac{1}{2}x^2 + 30x$ و تابع هزینه

به صورت $C(x) = ax + 18$ باشد. اگر بیشترین سود این شرکت به ازای تولید ۹ واحد کالا باشد، مقدار a کدام است؟

- (۱) ۲۱ (۲) ۱۸ (۳) -۲۱ (۴) -۳۹

۱۰۲- اگر عبارت‌های گویا تعریف شده باشند، قدرمطلق تفاضل جواب‌های معادله $1 = \frac{9x^2 - (x+3)^2}{2x-3} - \frac{2}{x}$ ، کدام است؟

- (۱) صفر (۲) $\frac{1}{2}$ (۳) ۱ (۴) $\frac{2}{2}$

۱۰۳- فرض کنید $f(x) = \frac{2x-1}{[x] - \text{sign}(x)}$ ، بر مجموعه $\{-2/5, 2/1, 0/8, 4\}$ تعریف شده باشد. ماکزیمم عضو مجموعه برد

تابع f ، کدام است؟

- (۱) $\frac{7}{3}$ (۲) ۳ (۳) $3/2$ (۴) ۴

۱۰۴- فرض کنید $f(x) = |x-1|$ ، $g(x) = [2x]$ و $h(x) = \text{sign}(-x)$ باشد. ضابطه تابع $y = 2f(x) - h(x)g(x)$ در بازه

$-\frac{3}{2} < x < -1$ ، کدام است؟

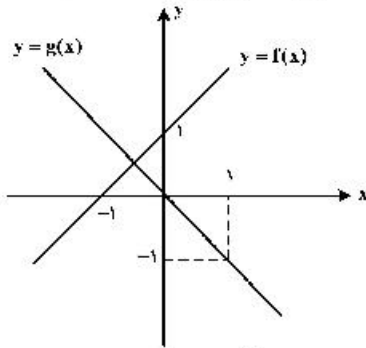
- (۱) $3x-2$ (۲) $5-2x$ (۳) $-2x+2$ (۴) $-8x-4$

۱۰۵- اگر معادله $\frac{x^2-a}{x+3} = 2x-1$ ، دارای دو ریشه حقیقی متمایز باشد، محدوده تغییرات a ، کدام می‌تواند باشد؟

- (۱) $a < 9$ (۲) $a > 9$ (۳) $a < \frac{37}{4}$ (۴) $a > \frac{37}{4}$

محل انجام محاسبات

۱۰۶- فرض کنید نمودار تابع‌های خط راست $y = f(x)$ و $y = g(x)$ در صفحه مختصات مطابق شکل زیر داده شده باشند.



قدر مطلق اختلاف جواب‌های معادله $\frac{f^2(x)}{g(x)} = 2$ کدام است؟

- (۱) $\sqrt{3}$
 (۲) $\frac{2}{\sqrt{3}}$
 (۳) $2\sqrt{3}$
 (۴) $3\sqrt{3}$

۱۰۷- فرض کنید $f = \{(x, x^2) \mid x = \pm 5, \pm 4, \dots, \pm 1, 0\}$ و $g = \{(x, x^2) \mid x = \pm 5, \pm 4, \dots, \pm 1, 0\}$ دو تابع در

صفحه مختصات باشند. تعداد عناصر برد تابع $y = \frac{g}{f}(x)$ کدام است؟

- (۱) ۱۱ (۲) ۱۰ (۳) ۶ (۴) ۵

۱۰۸- نمودار تابع با ضابطه $y = a\left(\frac{1}{3}\right)^x$ در نقطه‌ای به عرض ۴ محور y را قطع می‌کند. مقدار تابع در $x = -2$ کدام است؟

- (۱) $\frac{4}{9}$ (۲) $\frac{9}{4}$ (۳) ۲۷ (۴) ۳۶

۱۰۹- اگر $3^A \times 12^B = \frac{\frac{1}{3^4} \times \frac{1}{3^8} \times \frac{1}{9^{22}} \times \frac{1}{9^{64}}}{\frac{1}{3^2} \times \frac{1}{4^2} \times 3^8 \times 4^8}$ باشد، مقدار $A+B$ کدام است؟

- (۱) $-\frac{13}{32}$ (۲) $\frac{13}{32}$ (۳) $\frac{13}{16}$ (۴) $-\frac{13}{16}$

۱۱۰- اگر $z, x+2, x, x-1, y$ جملات متوالی یک دنباله هندسی باشند، مقدار xyz کدام است؟

- (۱) ۲ (۲) ۴ (۳) ۸ (۴) ۱۶

۱۱۱- جمله پنجم یک دنباله حسابی با اختلاف مشترک ناصفر، واسطه هندسی بین جملات سوم و نهم آن دنباله است.

اگر جمله پنجم دنباله ۷ باشد، جمله صد و یکم دنباله، کدام است؟

- (۱) ۲۰۰ (۲) ۱۷۵ (۳) ۱۵۰ (۴) ۱۲۵

۱۱۲- جمله دهم دنباله بازگشتی $a_{n+1} = \frac{1}{a_n} + 1$ و $a_1 = 1$ ، کدام است؟

- (۱) $\frac{55}{34}$ (۲) $\frac{144}{89}$ (۳) $\frac{610}{377}$ (۴) $\frac{89}{55}$

۱۱۳- جدول ارزشی کدام گزاره با جدول ارزشی گزاره $(p \Rightarrow q) \Rightarrow (r \wedge (p \Rightarrow q))$ ، یکسان نیست؟

- (۱) $p \vee q \vee r$ (۲) $(p \wedge \sim q) \vee r$ (۳) $\sim (p \Rightarrow q) \vee r$ (۴) $(p \vee r) \wedge (q \Rightarrow r)$

۱۱۴- ارزش گزاره $(\sim(p \Leftrightarrow q) \wedge p) \Rightarrow \sim q$ ، کدام است؟

- (۱) همواره درست است.
 (۲) همواره نادرست است.
 (۳) به ارزش q بستگی دارد.
 (۴) به ارزش p بستگی دارد.

۱۱۵- اگر $A \subseteq B'$ باشد، حاصل $((A - B) \cup (B - A))'$ ، کدام است؟

- (۱) $A \cap B$ (۲) $A' \cap B'$ (۳) $A \cup B$ (۴) $A' \cup B'$

۱۱۶- در یک بازی ۱۶ نفره به هر نفر یکی از شماره‌های ۳، ۴، ۵، ...، ۱۸ را تخصیص می‌دهیم. سه تاس را پرتاب می‌کنیم و اعداد روشده را با یکدیگر جمع می‌کنیم. شخصی که آن شماره را داشته باشد، انتخاب می‌شود. احتمال این که شخص صاحب شماره ۱۰ انتخاب شود، کدام است؟

- (۱) $\frac{1}{10}$ (۲) $\frac{1}{9}$ (۳) $\frac{1}{8}$ (۴) $\frac{1}{7}$

۱۱۷- برای اندازه‌گیری ویژگی افراد یا اشیاء با دقت زیاد از کدام مقیاس اندازه‌گیری، استفاده می‌شود؟

- (۱) اسمی (۲) نسبی (۳) ترتیبی (۴) فاصله‌ای

۱۱۸- در یک جامعه با میانگین ۴۰ تقریباً ۶۸ درصد داده‌ها بین ۳۵ و ۴۵ قرار می‌گیرند. واریانس داده‌ها، کدام است؟

- (۱) ۵ (۲) ۱۵ (۳) ۲۵ (۴) ۴۰

۱۱۹- جمعیت ده کشور دنیا برحسب میلیون نفر به صورت داده‌های زیر است.

۸۵ ، ۱۰۵۰ ، ۲۴۰ ، ۸۵ ، ۶۵ ، ۳ ، ۸ ، ۴۲ ، ۲۵ ، ۳۶

نسبت دامنه کل به دامنه میان چارکی، کدام است؟

- (۱) $12/35$ (۲) $17/45$ (۳) $19/35$ (۴) $19/55$

۱۲۰- مقدار بارندگی یک شهر در روزهای مختلف هفته اول سال، برحسب میلی‌متر، به صورت جدول زیر است؟

روز	شنبه	یکشنبه	دوشنبه	سه‌شنبه	چهارشنبه	پنجشنبه	جمعه
مقدار بارندگی (میلی‌متر)	۱۲	۱۱	۵	۱۳	۷	۱۵	x

در جدول فوق داده x معلوم است. پیش‌بینی می‌شود مقدار بارندگی این شهر روز سه‌شنبه هفته جدید ۱۵ میلی‌متر باشد. میانگین مقدار بارندگی در هفته اول سال، کدام است؟

- (۱) ۹ (۲) $10/8$ (۳) $11/2$ (۴) ۱۴

محل انجام محاسبات

۱۲۱- کدام گزینه مبین پاسخ درست و کامل سؤالات زیر است؟

الف) مالیات بر «ارزش افزوده»، نوعی مالیات بر «.....» است که «.....» را از پرداخت مالیات «.....» ب) در ادبیات اقتصادی به کسی که حتی در صورت دسترسی به امکانات معیشتی توانایی استفاده از آن‌ها را هم ندارد چه می‌گویند؟

ج) بهترین روش «تحریک تقاضای کل جامعه» که در مواقع رکود بتواند رونق را به بازار برگرداند چیست؟

۱) الف) فروش دو مرحله‌ای - کالا و خدمات واسطه‌ای - نمی‌رهاند. ب) فقیر مطلق ج) کاهش مخارج جاری و عمرانی دولت و کاهش نرخ‌های مالیاتی یا پایه‌های مالیاتی

۲) الف) فروش دو مرحله‌ای - کالا و خدمات سرمایه‌ای - نمی‌رهاند. ب) فقیر اقتصادی ج) کاهش مخارج جاری یا عمرانی دولت و افزایش نرخ‌های مالیاتی یا پایه‌های مالیاتی

۳) الف) فروش چند مرحله‌ای - کالاها و خدمات سرمایه‌ای - معاف می‌کند. ب) فقیر خاص ج) افزایش مخارج جاری یا عمرانی دولت و افزایش نرخ‌های مالیاتی یا پایه‌های مالیاتی

۴) الف) فروش چند مرحله‌ای - کالا و خدمات واسطه‌ای - معاف می‌کند. ب) مسکین ج) افزایش مخارج جاری یا عمرانی دولت و کاهش نرخ‌های مالیاتی یا پایه‌های مالیاتی

۱۲۲- در یک جامعه فرضی یک دستگاه سرمایه‌ای به قیمت ۸۵ میلیارد ریال و عمر مفید آن ۵ سال منظور شده است. در این صورت به ترتیب از راست به چپ:

الف) چنانچه در دو سال آخر عمر مفید این کالای سرمایه‌ای ۷ درصد افزایش قیمت داشته باشد، مجموع هزینه استهلاک دو سال آخر، چه مقدار خواهد بود؟

ب) قیمت جدید کالای سرمایه‌ای چقدر است؟

ج) هر سال چه مقدار به‌عنوان هزینه استهلاکی باید منظور شود؟

ارقام به «میلیون و میلیارد ریال» است.

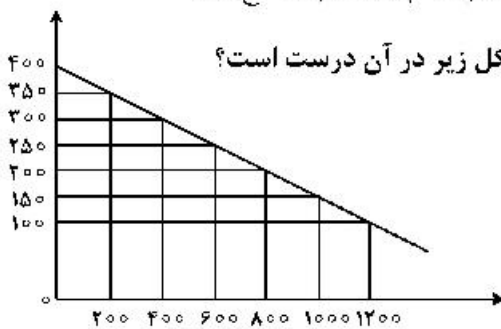
۱) الف) ۳۶,۳۸۰ ب) ۹۰,۹۵۰ ج) ۱۷

۲) الف) ۳۶,۳۸۰ ب) ۹۰,۵۹۰ ج) ۱۷

۳) الف) ۳۸,۳۶۰ ب) ۹۰,۹۵۰ ج) ۱۸

۴) الف) ۳۸,۳۶۰ ب) ۹۰,۵۹۰ ج) ۱۸

۱۲۳- کدام گروه از مشخصات در رابطه با نمودار منحنی ترسیم شده در شکل زیر در آن درست است؟



۱) معنا و مفهوم آن این است که با افزایش قیمت، مقدار تقاضا کاهش و با کاهش آن مقدار تقاضا افزایش می‌یابد - رابطه بین تقاضا و قیمت یک رابطه معکوس است - این منحنی مبین چگونگی رفتار اقتصادی مصرف‌کنندگان است - در این نمودار محور افقی بیانگر «مقدار» و محور عمودی مبین «قیمت کالا» است.

۲) معنا و مفهوم آن این است که با افزایش قیمت، مقدار عرضه کالا افزایش و با کاهش آن کاهش می‌یابد - موقعیت منحنی از راست به چپ نزولی است - رابطه بین تقاضا و قیمت یک رابطه غیرمستقیم است - این منحنی بیانگر چگونگی رفتار اقتصادی «تولیدکنندگان» است.

۳) معنا و مفهوم آن این است که با افزایش قیمت، مقدار تقاضا کاهش و با کاهش آن مقدار تقاضا افزایش می‌یابد - رابطه بین تقاضا و قیمت یک رابطه مستقیم است - این منحنی بیانگر چگونگی رفتار اقتصادی تولیدکنندگان است - نقطه تعادل همان نقطه تقاطع «قیمت و مقدار» است.

۴) معنا و مفهوم آن این است که با افزایش قیمت، مقدار عرضه کالا افزایش و با کاهش آن کاهش می‌یابد - رابطه بین عرضه و قیمت یک رابطه مستقیم است - این منحنی بیانگر چگونگی رفتار تولیدکنندگان است - موقعیت منحنی از راست به چپ صعودی است.

محل انجام محاسبات

۱۲۴- پاسخ درست و کامل پرسش‌های زیر در کدام گزینه مطرح شده است؟
الف) کدام اثر و نتیجه، مربوط به برقراری ارتباط بین عرضه‌کنندگان و تقاضاکنندگان سرمایه در فعالیتهای بورس تلقی می‌شود؟

ب) دو مؤسسه تولید محصولات صنعتی و تولید محصولات کشاورزی در استفاده از کدام نهادهای تولید، اشتراک دارند؟
ج) با توجه به مشکلات عدیده در دوران استفاده از کالاهای پولی انسان با استفاده از پول «.....» از به‌کارگیری کالاها در مبادلات رهایی یافت و استفاده از برخی فلزات از جمله «.....» را جایگزین آن‌ها نمود.
د) برخی از انواع بازارها را می‌توان دید که در قالب حراجی‌ها به دو صورت «.....» فعالیت می‌کنند. فروشندگان آثار هنری با برگزاری نمایشگاه‌ها و حراجی‌ها از روش «.....» و خریداران عمده کالاها و خدمات مثل خریدهای دولتی از روش «.....» استفاده می‌کنند.

۱) الف) کاهش نرخ تورم ب) ماشین‌آلات ج) کاغذی - اسکناس د) مزایده و مناقصه - مناقصه - مزایده
۲) الف) تنظیم معاملات بازار سرمایه ب) نیروی کار ج) فلزی - طلا و نقره د) مناقصه و مزایده - مزایده - مناقصه
۳) الف) افزایش حجم سرمایه‌گذاری ب) مواد اولیه ج) فلزی - مفرغ و نیکل د) رقابت و انحصار - مزایده - مناقصه
۴) الف) اجرای پروژه‌های بزرگ خصوصی و دولتی ب) سردخانه ج) پول کاغذی - رسیدهای جایگزین پول د) رقابت و انحصار - مزایده - مناقصه

۱۲۵- مندرجات جدول زیر، مربوط به یک جامعه فرضی است. چنانچه مجموع ارزش اقلام: ماشین‌آلات، پوشاک، و مواد غذایی ۱۳۵ میلیارد ریال باشد، در این صورت:

الف) تولید خالص ملی ب) تولید ناخالص داخلی ج) تولید خالص داخلی سرانه
در این جامعه، کدام است؟

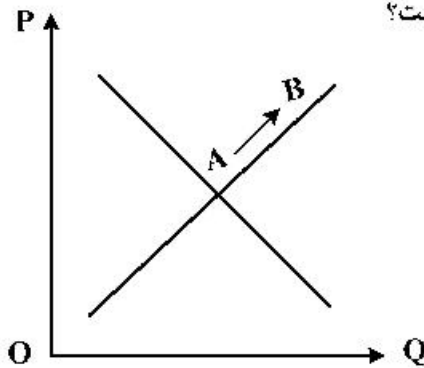
۱	جمعیت کل کشور	۵۰ میلیون نفر
۲	ارزش تولید خارجیان مقیم کشور	۱/۵ برابر هزینه استهلاک
۳	هزینه استهلاک	۱۴ میلیارد ریال
۴	ارزش خدمات ارائه شده	$\frac{1}{3}$ ارزش تولید مردم کشور که در خارج اقامت دارند.
۵	ارزش تولید مردم کشور که در خارج اقامت دارند.	۴۵ میلیارد ریال

۱) الف) ۱۱۸ ب) ۱۷۱ ج) ۳/۱۴
۲) الف) ۱۱۸ ب) ۷۱۱ ج) ۴/۱۳
۳) الف) ۱۸۱ ب) ۱۷۱ ج) ۳/۱۴
۴) الف) ۱۸۱ ب) ۷۱۱ ج) ۴/۱۳

۱۲۶- کدام گزینه دربردارنده پاسخ درست و کامل پرسش‌های زیر است؟
الف) به دلیل کدام‌یک از فعالیتهای بانکی، که در بخش واقعی اقتصاد قرار دارد، سود بانکی چه علی‌الحساب و چه قطعی اعطایی به سپرده‌گذاران در قانون ربا تلقی نشده است؟
ب) اثر و نتیجه این فعالیت بورس، یعنی تشویق مردم به پس‌انداز و به‌کارگیری پس‌اندازها در فعالیتهای مفید اقتصادی کدام است؟

ج) کدام گروه از فعالیتهای منحصراً مربوط به بخش دولتی است؟
۱) الف) حضور بانک‌ها در سرمایه‌گذاری غیرمستقیم از طریق استفاده از عقود اسلامی مجاز برای اعطای تسهیلات مالی به مشتریان خود ب) اثرگذاری در کاهش نرخ تورم ج) بانکداری، راه و راه‌آهن، بیمه و تأمین نیرو و صنایع مادر
۲) الف) دریافت مطالبات اسنادی و سود سهام و اوراق بهادار و اشیای قیمتی مشتریان ب) تنظیم معاملات بازار سرمایه ج) سدها، بازرگانی خارجی، کشاورزی، شبکه‌های آبرسانی
۳) الف) خرید و فروش ارز و نقل و انتقال وجوه در داخل کشور ب) جلوگیری از نوسان شدید قیمت‌ها ج) صنایع بزرگ، دامداری، تجارت و خدمات، بازرگانی خارجی
۴) الف) سرمایه‌گذاری مستقیم بانک‌ها در طرح‌های تولیدی و عمرانی ب) افزایش حجم سرمایه‌گذاری در جامعه ج) صنایع، دامداری، صنعت، پست، تلگراف و تلفن

۱۲۷- با توجه به نمودار منحنی «.....» علت حرکت از نقطه A به B کدام است؟



- (۱) تقاضا - افزایش عرضه
- (۲) عرضه - کاهش قیمت کالا
- (۳) تقاضا - کاهش مقدار عرضه
- (۴) عرضه - افزایش قیمت کالا

۱۲۸- فرض کنیم کشاورزان هر یک کیلوگرم پنبه تولیدی خود را به ارزش ۵۰۰۰ ریال به کارگاه‌های ریسندگی بفروشند. کارگاه‌های ریسندگی هم این مقدار پنبه را به مقداری نخ تبدیل کرده و به ارزش ۷۰۰۰ ریال به کارگاه‌های پارچه‌بافی بفروشند. در کارگاه‌های پارچه‌بافی نخ به پارچه تبدیل شده و به ارزش ۹۵۰۰ ریال به کارگاه‌های تولید پوشاک فروخته می‌شود. در این کارگاه‌ها پارچه به پوشاک تبدیل شده و به ارزش ۱۳۰۰۰ ریال به دست مصرف‌کنندگان می‌رسد. با توجه به داده‌ها و ستاده‌ها:

الف) ارزش افزوده مرحله اول و چهارم به ترتیب از راست به چپ، کدام است؟

ب) به جز این روش چه روش‌های دیگر برای محاسبه تولید کل جامعه، وجود دارد و عناوین آن کدام است؟
ج) روشی که در آن با جمع زدن همه اجزای سهم در «روند تولید» عایدی همه بازیگران و فعالان اقتصادی داخلی یا ملی «تولید کل» محاسبه می‌شود، چه نام دارد؟ ضمناً در کدام روش محاسبه تولیدات کل، نگران اندازه‌گیری تولیدات واسطه‌ای و مواد اولیه نیستیم چرا که ارزش پولی همه آنها در محاسبه کالاها و خدمات نهایی خود به خود اندازه‌گیری شده است؟

د) از نظر کارشناسان اقتصادی برای جلوگیری از اشتباه در محاسبه «تولید کل جامعه» توسل به چه اقدامی ضروری است؟

(۱) الف) ۲۰۰۰ - ۲۵۰۰ (ب) روش هزینه‌ای - روش تولید (ج) روش درآمدی - روش هزینه‌ای (د) دو روش را به کار می‌گیرند و میانگین این دو را می‌پذیرند.

(۲) الف) ۵۰۰۰ - ۳۵۰۰ (ب) روش هزینه‌ای - روش درآمدی (ج) روش هزینه‌ای - روش درآمدی (د) حداقل دو روش را به کار می‌گیرند و نتایج را با هم مقایسه می‌کنند.

(۳) الف) ۳۵۰۰ - ۵۰۰۰ (ب) روش درآمدی - روش هزینه‌ای (ج) روش درآمدی - روش هزینه‌ای (د) هر سه روش را استفاده می‌کنند و هر کدام بیشتر بود آن را منظور می‌دارند.

(۴) الف) ۲۵۰۰ - ۲۰۰۰ (ب) روش درآمدی - روش تولید (ج) روش هزینه‌ای - روش درآمدی (د) هر سه روش به کار گرفته می‌شود و میانگین آنها به عنوان پاسخ قطعی مورد قبول قرار می‌گیرد.

محل انجام محاسبات

۱۲۹- کدام گزینه، دربردارنده پاسخ درست و کامل پرسش‌های زیر است؟

الف) مطلب زیر مربوط به کدام مورد است؟

«یک سبد کالایی یکسان، سالانه در ایران قیمت‌گذاری می‌شود و هم‌زمان همان سبد کالایی در کشور آمریکا، تعیین

قیمت می‌شود. تقسیم این دو بر هم قدرت خرید دلار را در ایران نشان می‌دهند.»

ب) به کالاهای با دوام سرمایه‌ای، که در جریان تولید به‌کار گرفته می‌شود، نظیر تراکتور برای کشاورز و کامیون

برای شرکت‌های حمل‌ونقل «.....» گفته می‌شود و آنچه که در طول زمان، خدماتشان در جریان تولید

استفاده می‌شود «.....» می‌گویند و تولیدکننده با آن‌ها «.....» ایجاد می‌کند.

ج) چندین سال است، مطلبی در رابطه با «بودجه کل کشور که بی‌ارتباط با تشکیل «صندوق توسعه ملی» نیست

در بودجه کل کشور لحاظ و رعایت می‌شود، محتوی و مضمون آن کدام است؟

د) گاهی به اوراقی مثل: سفته، چک، پول، برات و حوالجات در زبان مردم، «وراق بهادار» گفته می‌شود که کارکرد

آن‌ها «.....» اما در اصطلاح اقتصاددانان، آن‌ها اوراق بهادار «.....».

۱) الف) استفاده از دلار رفاهی یا دلار برابری خرید (P.P.P) ب) سرمایه فیزیکی - کالاهای سرمایه‌ای بادوام - ارزش

افزوده ج) نفت خام ثروت عمومی است و صادرات و فروش آن درآمد محسوب نشده و وجوه حاصل از فروش آن

و همچنین گاز طبیعی تولید شده پس از کسر هزینه‌های تولید حتماً باید به صندوق توسعه ملی واریز شود.

د) تضمین تعهدات است نه تأمین مالی - تلقی نمی‌شود.

۲) الف) مورد استفاد قرار دادن میانگین ارزهای معتبر جهان و تبدیل تولید ملی به آن ب) سرمایه مالی - کالاهای

سرمایه‌ای - سود حسابداری ج) درآمدهای حاصل از فروش ثروت‌های عمومی برای زاینده‌گی مستمر و حفظ این

ثروت طبیعی هرگز نباید مورد مصرف و استفاده قرار گیرد. د) تأمین مالی است نه تضمین تعهدات - تلقی نمی‌شود.

۳) الف) مورد استفاده قرار دادن ارزی که ارتباط مستقیمی با نرخ دلار موجود در بازار ارز را ندارد. ب) سرمایه مؤند -

کالاهای سرمایه‌ای بادوام - سود اقتصادی ج) درآمدهای حاصل از فروش ثروت‌های عمومی باید به‌عنوان

درآمدهای خاص دولتی به صندوق توسعه ملی واریز شود. د) تضمین تعهدات است نه تأمین مالی - تلقی

می‌شود.

۴) الف) استفاده از دلاری که توسط سازمان‌های مالی بین‌المللی محاسبه و اعلام می‌شود. ب) سرمایه عمرانی -

کالاهای بادوام نهایی - سود ویژه ج) نفت خام ثروت عمومی بوده و فروش آن باید از طریق صندوق توسعه ملی در

جهت فقرزدایی همه جانبه و فراگیر مورد مصرف قرار گیرد. د) تأمین مالی است نه تضمین تعهدات - تلقی می‌شود.

۱۳۰- جدول زیر نمایانگر اطلاعات ارائه شده در یک جامعه فرضی است، با توجه به مندرجات جدول:

الف) میزان «حجم شبه پول» این جامعه چقدر است؟

ب) ارزش پولی سپرده‌های غیردیداری کدام است؟

ج) حجم کل «پول موجود یا کل نقدینگی» این جامعه، کدام است؟

۱	ارزش پولی موجودی سپرده‌های مدت‌دار مردم	۴۸۰ واحد
۲	ارزش پولی مجموع سپرده‌های دیداری و غیردیداری مردم	۱۲۰۰ واحد
۳	ارزش پولی مجموع مسکوکات در دست مردم	$\frac{۲}{۳}$ موجودی اسکناس‌ها
۴	ارزش پولی مجموع اسکناس‌ها	۱۵۰۰ واحد
۵	ارزش پولی سپرده‌های دیداری مردم	۱۲۰ واحد
۶	ارزش پولی حساب‌های قرض‌الحسنه	۱۶۳۰ واحد

۱) الف) ۲۷۱۰ (ب) ۱۰۸۰ (ج) ۵۳۳۰ (۲) الف) ۲۱۷۰ (ب) ۱۰۰۸ (ج) ۵۳۳۰

۳) الف) ۲۷۱۰ (ب) ۱۰۰۸ (ج) ۵۰۳۳ (۴) الف) ۲۱۷۰ (ب) ۱۰۸۰ (ج) ۵۰۳۳

۱۳۱- جدول زیر، نمودار: «تقاضا، عرضه، قیمت» در یک جامعه بازاری فرضی است. در این صورت کدام یک از ردیف‌های جدول، بیانگر:

الف) مازاد عرضه است؟

ب) برابری میان «تقاضا و عرضه است و نام «اصطلاح اقتصادی» آن کدام است؟

ج) کمبود عرضه است؟

ردیف	قیمت «به ریال»	مقدار تقاضا «به کیلو»	مقدار عرضه «به کیلو»
۱	۱۰۰	۱۲۰۰	۰
۲	۱۵۰	۱۰۰۰	۲۰۰
۳	۲۰۰	۸۰۰	۴۰۰
۴	۲۵۰	۶۰۰	۶۰۰
۵	۳۰۰	۴۰۰	۸۰۰
۶	۳۵۰	۲۰۰	۱۰۰۰
۷	۴۰۰	۰	۱۲۰۰

(۱) الف) ردیف: ۳ (ب) ردیف: ۴ - قیمت تعادلی (ج) ردیف: ۳

(۲) الف) ردیف: ۳ (ب) ردیف: ۵ - مقدار تعادلی (ج) ردیف: ۴

(۳) الف) ردیف: ۵ (ب) ردیف: ۴ - قیمت و مقدار تعادلی (ج) ردیف: ۳

(۴) الف) ردیف: ۵ (ب) ردیف: ۵ - مقدار و قیمت تعادلی (ج) ردیف: ۴

۱۳۲- کدام گزینه، متضمن پاسخ درست و کامل سوالات زیر است؟

الف) مطلب زیر در ارتباط با کدام مورد است؟

«صاحبان زمین، بذر، تراکتور و نیروی کار، همه با هم یک واحد کشت و صنعت، را راه‌اندازی کرده و به تولید گندم می‌پردازند و عواید به‌دست آمده را بین هم تقسیم می‌کنند. این نوع نهاد اقتصادی، «.....» نامیده می‌شود و نمونه‌ای از آن «.....» است.»

ب) انگیزه «.....» تقاضای کالا، رفع نیاز است و تصمیم آن‌ها در مورد مصرف کالا از عواملی مانند «قیمت کالا»، «درآمد»، سلیقه خودشان و «.....» و «.....» تأثیر می‌پذیرد.

ج) نظر اقتصاددانان در رابطه با توجه یا عدم توجه به مفاهیم اقتصادی همچون: «مزیت‌های مطلق و نسبی، استقلال اقتصادی، خودکفایی، عدم وابستگی و تولید و مصرف کالاهای ملی کدام است؟

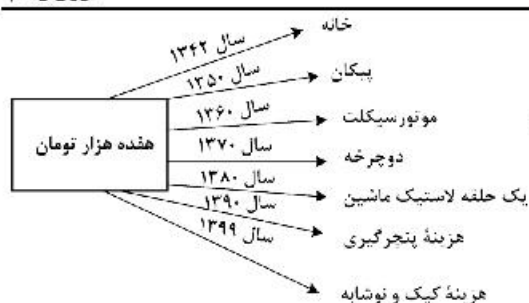
د) در رابطه با محورهای کلی و ویژگی‌های اساسی نظام اقتصادی کشور، اصول مربوط به آن‌ها، کدام مورد درست است؟

(۱) الف) سازمان تولید مشارکتی - شرکت تعاونی (ب) مصرف‌کنندگان - تبلیغات - قیمت سایر کالاها (ج) آنان موفق به ایجاد ترکیب جامعی از منافع ملی و منافع بین‌المللی شده‌اند. (د) مالی دولت، پنج اصل: اصول ۵۱ تا ۵۵

(۲) الف) واحد کشت و صنعت کشاورزی - شرکت تعاونی (ب) تولیدکنندگان - تبلیغات - قیمت سایر کالاها (ج) آنان معتقدند این اصطلاحات در ارتباط منطقی و درست با هم نیستند. (د) منابع مالی حکومت برای ایفای وظایف خود، پنج اصل: ۴۱ تا ۴۵

(۳) الف) سازمان تولید زراعی - شرکت سهامی (ب) مصرف‌کنندگان - پیش‌بینی در مورد رونق و رکود بازار - قیمت سایر کالاها (ج) اقتصاددانان بر این باورند که استقلال اقتصادی در دنیای امروز کاملاً بی‌معناست. (د) اصول مالی دولت، پنج اصل: ۴۱ تا ۴۵

(۴) الف) سازمان تعاون روستایی - شرکت سهامی (ب) تولیدکنندگان - تثبیت قیمت کالاها - قیمت کالاهای جایگزین (ج) غالب اقتصاددانان معتقدند برخلاف الگوی فرضی مطرح شده تک محصولی شدن در دنیای واقعی مطلوب نیست. (د) منابع مالی حکومت برای ایفای وظایف خود، پنج اصل: ۵۱ تا ۵۵



۱۳۳- با توجه به نمودار تصویری روبه‌رو در رابطه با قدرت خرید پول:

- (الف) نتیجه کاهش قدرت خرید پول، کدام است؟
 (ب) پول در مقابل چه چیزی قدرت خرید خود را حفظ نکرده است؟
 (ج) یکی از دلایل مهم کاهش قدرت خرید پول جامعه، کدام است؟
 (د) رابطه پول با چه چیزی یک رابطه غیرمستقیم است؟
 (ه) چرا گفته می‌شود قدرت خرید پول دستخوش تغییر است؟
 (و) قدرت خرید پول جامعه وابسته به چیست؟

- (۱) الف) تورم رکودی (ب) سطح عمومی قیمت‌ها (ج) نابرابری عرضه تقاضای و کل جامعه (د) حجم پول در گردش (ه) چون یک واحد پول نتوانسته ارزش خود را در طول زمان حفظ کند. (و) قدرت موازنه پرداختی‌های خارجی آن است.
 (۲) الف) تورم رکودی (ب) افزایش نقدینگی (ج) نابرابری عرضه و تقاضای کل جامعه (د) سطح عمومی قیمت‌ها (ه) چون ارزش پول متناسب با رونق و شکوفایی اقتصادی افزایش هماهنگ نداشته است. (و) سطح عمومی قیمت‌ها
 (۳) الف) تورم (ب) افزایش نقدینگی (ج) حجم زیاد پول نسبت به تولید جامعه (د) حجم پول در گردش (ه) چون ارزش پول متناسب با رونق و شکوفایی اقتصادی افزایش هماهنگ نداشته است. (و) قدرت موازنه پرداختی‌های خارجی آن است.
 (۴) الف) تورم (ب) سطح عمومی قیمت‌ها (ج) حجم زیاد پول نسبت به تولید جامعه (د) سطح عمومی قیمت‌ها (ه) چون یک واحد پول نتوانسته ارزش خود را در طول زمان حفظ کند. (و) سطح عمومی قیمت‌ها

۱۳۴- با فرض جدول مالیاتی زیر:

- (الف) میزان مالیات شخصی که در ماه، ۱۵ میلیارد ریال درآمد دارد، کدام است؟
 (ب) میزان مانده خالص ماهیانه او کدام است؟
 (ج) این محاسبه مربوط به کدام یک از روش‌های نرخ مالیاتی ثابت، تصاعدی کلی، تصاعدی طبقه‌ای است؟
 (د) در رابطه با ویژگی نوع نرخ مالیاتی در محاسبه این جدول، کدام مورد، نادرست است؟

۱	درآمدهای تا: ۱۵۰ میلیون ریال	معاف از مالیات
۲	درآمدهای تا: ۲۵۰ میلیون ریال	با نرخ: ۱۵٪ نسبت به مازاد: ۱۵۰ میلیون ریال
۳	درآمدهای تا: ۳۵۰ میلیون ریال	با نرخ: ۲۰٪ نسبت به مازاد: ۲۵۰ میلیون ریال
۴	درآمدهای تا: ۴۵۰ میلیون ریال	با نرخ: ۲۵٪ نسبت به مازاد: ۳۵۰ میلیون ریال
۵	درآمدهای تا: ۹۰۰ میلیون ریال	با نرخ: ۳۵٪ نسبت به مازاد: ۴۵۰ میلیون ریال
۶	درآمدهای بالاتر از: ۹۰۰ میلیون ریال	با نرخ: ۴۵٪ نسبت به مازاد: ۹۰۰ میلیون ریال

- (۱) الف) ۶,۵۶۲,۵۰۰,۰۰۰ ریال (ب) ۷,۴۳۸,۵۰۰,۰۰۰ ریال (ج) تصاعدی (د) این نوع نرخ مالیاتی در تعدیل درآمد و ثروت افراد جامعه، مؤثر است.
 (۲) الف) ۶,۶۲۵,۵۰۰,۰۰۰ ریال (ب) ۸,۴۳۷,۵۰۰,۰۰۰ ریال (ج) ثابت (د) در این نوع مالیات، افراد با درآمدهای بیشتر با نرخ بیشتر و افراد با درآمدهای پایین‌تر با نرخ کمتری مالیات می‌پردازند.
 (۳) الف) ۶,۵۶۲,۵۰۰,۰۰۰ ریال (ب) ۸,۴۳۷,۵۰۰,۰۰۰ ریال (ج) تصاعدی طبقه‌ای (د) در این نوع مالیات، میزان مالیات پرداختی افراد، متناسب با تغییر در درآمد یا دارایی آن‌ها کم و زیاد می‌شود.
 (۴) الف) ۶,۶۲۵,۵۰۰,۰۰۰ ریال (ب) ۷,۴۳۸,۵۰۰,۰۰۰ ریال (ج) تصاعدی کلی (د) در این نظام مالیاتی نرخ مالیات با افزایش درآمد یا دارایی، زیاد و به عکس با کاهش درآمد یا دارایی، کم می‌شود.

محل انجام محاسبات

۱۳۵- با توجه به اطلاعات به دست آمده از چند کشور و شاخص‌های مربوط به آن‌ها مندرج در کتاب درسی، گزینه کامل‌کننده اطلاعات، به ترتیب حروف، کدام است؟

شخص‌ها کشورها	نرخ مرگ‌ومیر نوزادان در هر ۱۰۰۰ تولد	امید به زندگی «سال»	نرخ باسوادی بزرگسالان به درصد	تولید ناخالص داخلی سرانه به دلار PPP ثابت سال ۲۰۱۱
الف) نروژ رتبه اول	؟	۸۱٫۶	حدود ۱۰۰	؟
ب) موزامبیک رتبه «؟»	۶۱٫۵	۵۵٫۱	؟	۱۰۷۰
ج) ایران رتبه «؟»	۱۴٫۴	؟	۸۴٫۳	۱۵۰۹۰
د) چین رتبه «؟»	؟	۷۵	۹۵٫۱	؟

- (۱) الف) ۱-۸۲,۵۲۴ (ب) ۳-۴۰ (ج) ۳-۷۲ (د) ۹-۶/۹-۱۱,۵۲۵
- (۲) الف) ۳-۶۲,۴۴۸ (ب) ۶-۵۰ (ج) ۴-۷۵ (د) ۹-۱۰/۹-۱۱,۵۲۵
- (۳) الف) ۱-۸۲,۵۲۴ (ب) ۳-۴۰ (ج) ۳-۷۲ (د) ۹-۱۰/۹-۱۱,۵۲۶
- (۴) الف) ۳-۶۲,۴۴۸ (ب) ۶-۵۰ (ج) ۴-۷۵ (د) ۹-۱۰/۹-۱۱,۵۲۶

محل انجام محاسبات

۱۳۶- ویژگی‌های زبانی «سبک خراسانی» در کدام مصراع‌ها مشهود است؟

- (الف) به رنج اندر است ای خردمند گنج
 (ب) یک است ابلهان را شتاب و شکیب
 (ج) چه پرسی کزین پس نبینی تو کام
 (د) به فتراک بر بست پیچان کمند
 (ه) کمان را بمالید رستم به چنگ

(۱) الف - ب - د (۲) الف - ج - د (۳) ب - ج - د (۴) ب - ج - ه

۱۳۷- در کدام عبارات، ویژگی‌های زبان پهلوی آمده است؟

- (الف) در زمان اشکانیان و در شمال و شمال شرقی ایران رواج داشته است.
 (ب) اغلب آثار ادبی پهلوی شفاهی بوده و به کتابت در نیامده است.
 (ج) از این زبان ترجمه عربی و فارسی کلیله و دمنه و هزار و یک شب موجود است.
 (د) در اصل «درخت آسوریک» و «یادگار زبیران» به این زبان است.
 (ه) زبان رسمی دوران ساسانی و متعلق به ناحیه پارس است.

(۱) الف - ب - ج (۲) الف - د - ه (۳) ب - ج - د (۴) ب - ج - ه

۱۳۸- پدیدآورندگان «خسی در میقات - راه آب نامه - زمستان - شهری چون بهشت» به ترتیب، دارای آثاری مانند نیز هستند.

- (۱) سه تار - یکی بود یکی نبود - همسایه‌ها - سووشون
 (۲) دید و بازدید - دهکده پرمال - آخر شاهنامه - تنگسیر
 (۳) مدیر مدرسه - تلخ و شیرین - از این اوستا - آتش خاموش
 (۴) ارزیابی شتابزده - شوهر آهو خانم - چشمه‌هایش - سگ ولگرد

۱۳۹- همه عبارات از لحاظ تاریخ ادبیات درست است، به جز:

- (۱) شاعران عصر صفوی موضوعات کهن را با مضامین تازه و زبان جدید همراه کردند.
 (۲) در قرن نهم و دهم لغات مربوط به مذاهب و آداب و رسوم هندوان به حوزه شعر و ادب راه یافت.
 (۳) در قرن هفتم و هشتم برخی نویسندگان کتاب‌های مشکل را به زبان ساده بازنویسی می‌کردند.
 (۴) درامیختگی نظم و نثر، کاربرد وجه وصفی و فراوانی لغات مغولی از ویژگی‌های نثر سبک هندی است.

۱۴۰- نثر هر یک از آثار زیر، به ترتیب، چگونه است؟

«شرفنامه بدلیسی، محبوب‌القلوب، احسن‌التواریخ، دارا شکوه»

- (۱) مصنوع، ساده، بینابین، ساده (۲) ساده، بینابین، مصنوع، ساده
 (۳) ساده، بینابین، ساده، مصنوع (۴) ساده، مصنوع، بینابین، ساده

۱۴۱- چند اثر درست، معرفی شده است؟

- (زیارت: جلال آل احمد) (شهری چون بهشت: سیمین دانشور) (راه آب نامه: علی اکبر دهخدا)
 (دهکده پرمال: احمد محمود) (بره گمشده راعی: هوشنگ گلشیری) (جعفرخان از فرنگ برگشته: مشفق کاظمی)
 (دید و بازدید: علی محمد افغانی) (تهران مخوف: مشفق کاظمی)

(۱) سه (۲) چهار (۳) پنج (۴) شش

۱۴۲- کدام نویسندگان «همگی» در داستان‌نویسی «سبک تلفیقی» را برگزیدند؟

- (۱) محمود اعتمادزاده، صادق چوبک، احمد محمود (۲) جلال آل احمد، علی محمد افغانی، امین فقیری
 (۳) غلامحسین ساعدی، جمال میرصادقی، تقی مدرس (۴) سیمین دانشور، بزرگ علوی، هوشنگ گلشیری

۱۴۳- در کدام بیت، ویژگی «ادبی سبک هندی» به چشم نمی‌خورد؟

- (۱) دوری از ما مکن ای چشم بد از روی تو دور
 (۲) در سر مرده‌دلان شور ندیده است کسی
 (۳) دامن شادی چو غم آسان نمی‌آید به دست
 (۴) سختی رسد از چرخ به نازک‌سخنان بیش
 زان که جانی تو و از جان نتوان بود صبور
 نفس گرم ز کافور ندیده است کسی
 پسته را خون می‌شود دل تالبی خندان کند
 با سنگ سر و کار بود شیشه‌گری را

۱۴۴- کدام یک، از ویژگی‌های داستان نویسی دوره انقلاب اسلامی نیست؟

- (۱) اندیشه حاکم بر داستان‌های دهه اول انقلاب اسلامی سیاسی و اجتماعی بودن است.
- (۲) گرایش به خاطره، قطعه ادبی، سفرنامه و شرح حال رایج شد.
- (۳) زبان داستان‌ها به ویژه در زمان جنگ بیشتر ادبی است.
- (۴) تفکر اومانیستی در برخی آثار این دوره کمرنگ است.

۱۴۵- در همه ابیات، آرایه مجاز به چشم می‌خورد، به جز:

- (۱) می‌رود صبح و اشارت می‌کند
- (۲) هزار نکته باریک‌تر ز مو اینجاست
- (۳) من و تو غافلیم و ماه و خورشید
- (۴) از تلاوت بر تو حق دارد کتاب

۱۴۶- آرایه‌های «جناس، استعاره، موازنه و اغراق» همگی در کدام بیت آمده است؟

- (۱) بگفت از سوز کم‌تر گوی با مور
- (۲) بهاری کز دو رخسارش همی شمس و قمر خیزد
- (۳) پرواز به آنجا که نشاط است و امید است
- (۴) آمد نفس صبح و سلامت نرسانید

۱۴۷- آرایه‌های بیت زیر، کدام است؟

- «مهی که راز من از پرده آشکارا کرد
- (۱) استعاره - ایهام - کنایه - تضاد
 - (۲) کنایه - ایهام - تناسب - تکرار - متناقص نما
 - (۳) تضاد - استعاره - کنایه - واج‌آرایی
 - (۴) جناس هم‌سان - استعاره - یارادوکس - مجاز

۱۴۸- در همه ابیات همه ارکان تشبیه یافت می‌شود، به جز:

- (۱) گویی شب هجر تو چو بخت سیه من
- (۲) من از لب می‌گون تو مستی طلبیدم
- (۳) رقص آیدم از ساز تو چون زهره چنگی
- (۴) پیش رخ روشن‌تر از آینه‌ات ای ماه

۱۴۹- در کدام بیت، آرایه‌های ایهام و استعاره «هر دو» یافت می‌شود؟

- (۱) آفتابی کز شفق، رخسار، در خون شسته است
- (۲) زهره‌سازی خوش نمی‌سازد مگر عودش بسوخت
- (۳) در بزم دور یک دو قدح درکش و برو
- (۴) فرش طرب بگستر چون باد نوبهاری

۱۵۰- آرایه‌های مقابل همه ابیات درست است، به جز:

- (۱) ز آشفته‌گی به حلقه جمعی رسیده‌ام
 - (۲) به عشق زلف و رخت فارغم ز دیر و حرم
 - (۳) به یاد کاکل پرتاب و زلف پرجینش
 - (۴) چراغ چشم من آن روی مجلس افروز است
- کز حلقه‌های زلف تو تایی نداشتند (ایهام، یارادوکس)
 که این معامله بیرون ز کفر و ایمان است (استعاره، لف و نشر)
 دل من است که هم جمع و هم پربشان است (کنایه، یارادوکس)
 طناب عمر من آن موی عنبرافشان است (جناس، تشبیه)

۱۵۱- آرایه‌های «استعاره، ایهام، ایهام تناسب و لف و نشر» به ترتیب، در کدام ابیات آمده است؟

- (الف) چو دَرّه گرچه حقیرم ببین به دولت عشق
(ب) تیر و کمان عشق را هر که ندیده، گو ببین
(ج) گر چو شمعش پیش می‌رم بر غم خندان شود
(د) آخر چه شد ای برگ گل تازه که دیدار
- (۱) الف - ب - د - ج (۲) الف - ج - ب - د
(۳) د - الف - ج - ب (۴) د - ج - الف - ب

۱۵۲- قاعده قافیه در مقابل کدام بیت، «غلط» آمده است؟

- (۱) ای برادر بشنوی رمزی ز شعر و شاعری
(۲) چون من به ره سخن فراز آییم
(۳) اگر محوّل حال جهانیان نه قضاست
(۴) در پای تو تا زلف چلیپای تو افتاد

۱۵۳- توضیح روبه‌روی کدام بیت، در مورد قافیه درست است؟

- (۱) سپه را تو باش این زمان پیشرو
(۲) ناقه جسم دلی را بنده باش
(۳) دوش از در میخانه کشیدند به دوشم
(۴) خدایا مقصربه کار امیدم

۱۵۴- وزن کدام مصراع، در مقابل آن «غلط» آمده است؟

- (۱) چین زلف مشکین را بر رخ نگارم بین (مستفعل فاعلاتن فعلن)
(۲) ای دل چو خطش سر زد پیوند از او مگسل (مفعول مفاعیلن مفعول مفاعیلن)
(۳) برخاست ز هر گوشه بلایی به کمینم (مفعول مفاعیلن مفاعیلن فعلن)
(۴) مژگان مردم افکن چشمان کافرش بین (مستفعلن فعولن مستفعلن فعولن)

۱۵۵- در کدام بیت «بلند تلفظ کردن مصوت کوتاه، کوتاه تلفظ کردن مصوت بلند و ابدال» همگی یافت می‌شود؟

- (۱) قوت بازوی پرهیز به خوبان مفروش
(۲) رقص بر شعر نر و ناله نی خوش باشد
(۳) حافظ اینای زمان را غم مسکینان نیست
(۴) خوش گرفتند حریفان سر زلف ساقی

۱۵۶- در بیت زیر همه اختیارات شاعری یافت می‌شود، به جز:

- «چون گل و می دمی از پرده برون آی و در آ
(۱) قلب
(۲) ابدال
(۳) تغییر کمیت مصوت‌ها
(۴) آوردن فاعلاتن به جای فعلاتن

۱۵۷- وزن کدام مصراع با مصراع زیر، یکسان است؟

- «خیال سرو قدانت به پیشواز آید»
(۱) گوشم همه بر قول نی و نغمه چنگ است
(۲) بگشای روی زیبا ز نگاه آن میندیش
(۳) جریده رو که گذرگاه عاقبت تنگ است
(۴) به دامان فلک جایی سزای چون تو گوهر نیست

۱۵۸- وزن کدام بیت «دوری» است؟

- (۱) باز آی و بر چشمم نشین ای دلستان نازنین
(۲) نعیم هر دو جهان پیش عاشقان بجوی
(۳) زاهد از ما به سلامت بگذر کاین می لعل
(۴) به شوق چشمه نوش که قطره‌ها که فشاندیم
(۲) کاشوب و فریاد از زمین بر آسمانم می‌رود
(۳) که این متاع قلیل است و آن عطای کثیر
(۴) دل و دین می‌برد از دست بدان‌سان که می‌رس
(۲) ز لعل باده‌فروشت چه عشو‌ها که خریدم

۱۵۹- کدام بیت را نمی‌توان به دو شکل، دسته‌بندی هجایی کرد؟

- ۱) رقصیدن سرو و حالت گل
- ۲) این مطرب از کجاست که ساز عراق ساخت
- ۳) آخر به چه گویم هست از خود خبرم چون نیست
- ۴) آن که غم جهان خورد کی خورد از حیات بر

بی‌صوت هزار خوش‌نباتند
و آهنگ بازگشت به راه حجاز کرد
وز بهر چه گویم نیست با وی نظرم چون هست
پس تو غم جهان مخور تا ز حیات برخوردار

۱۶۰- با توجه به بیت زیر، از دیدگاه «عروض و قافیه» کدام مورد «نادرست» است؟

- ۱) وزن بیت «مفعول مفاعیل مفاعیل مفعولن» است.
- ۲) در بیت اختیار شاعری «تغییر کمیت مصوت» وجود دارد.
- ۳) «جمالت و جلالت» واژه قافیه و «ت» حرف روی است.
- ۴) قافیه بیت براساس قاعده «۲» و تبصره «۱» آمده است.

وی کو کبک صبیح جلودار جلالت»

۱۶۱- مفهوم روبه‌روی کدام بیت، درست آمده است؟

- ۱) ز منجنیق فلک سنگ فتنه می‌بارد
- ۲) نه سبو پیدا در این حالت نه آب
- ۳) بگفتا دل ز مهرش کی کنی پاک
- ۴) یارب این آتش که بر جان من است

من ابلهانه گریزم در آبگینه حصار (جبرگرایی)
خوش بین والله اعلم بالصواب (تحیر و سرگشتگی)
بگفت آنگه که بشم خفته در خاک (عدم آسودگی)
سرد کن زانسان که کردی بر خلیل (تمنای عشق)

۱۶۲- مفهوم همه ابیات یکسان است، به جز:

- ۱) در خرمن صد زاهد عاقل زند آتش
- ۲) مجنون که به دیوانه‌گری شهره شهر است
- ۳) با عقل گشتم هم‌سفر یک کوچه راه از بی‌کسی
- ۴) حریم عشق را در گه بسی بالاتر از عقل است

این داغ که ما بر دل دیوانه نهادیم
در دشت جنون هم‌سفر عاقل ما بود
شد ریشه‌ریشه دامنم از خار استدلال‌ها
کسی آن آستان بوسد که جان در آستین دارد

۱۶۳- کدام بیت، مفهومی نظیر بیت زیر در ذهن ایجاد می‌کند؟

- ۱) صبا خاک وجود ما بدان عالی‌جناب انداز
- ۲) آینه از نقش تو بنمود راست
- ۳) عارفان از دیدن حسن مجاز آسوده‌اند
- ۴) داشت چشم باز عالم را سیه در دیده‌ام

بعد از آن آینه پیش نظر یار بیار»
بود کن شاه خوبان را نظر بر منظر اندازیم
خودشکن آینه شکستن خطاست
تشنه خم کی شود از شیشه و پیمانه سیر
تا نظر بستم ز دنیا عین بینایی شدم

۱۶۴- کدام بیت با بیت زیر، قرابت مفهومی دارد؟

- ۱) جفا پل بود بر عاشق شکستی
- ۲) طرفه می‌دارند یاران صبر من بر داغ و درد
- ۳) تیر بلای او را جز دل هدف نباشد
- ۴) گرم باز آمدی محبوب سیم‌اندام سنگین‌دل

ور خوار چون خارم کنی ای گل بدان خواری خوشم»
وفا گل بود بر دشمن فشانندی
داغ و دردی کز تو باشد خوش‌تر است از باغ ورد
تیغ جفای او را جز جان سپر نباشد
گل از خارم برآوردی و خار از پای و پای از گل

۱۶۵- مفهوم کدام بیت، متفاوت با سایر ابیات است؟

- ۱) من اول روز دانستم که با شیرین در افتادم
- ۲) گر عزم جفا داری سر در رهت اندازم
- ۳) مشکل است از درد و داغ عشق دل برداشتن
- ۴) به تیغم گر کشد دستش نگیرم

که چون فرهاد باید شست دست از جان شیرینم
ور راه وفاگیری جان در قدمت ریزم
ورنه می‌دادم به سیلاب فنا این خانه را
وگر تیرم ز نند منت پذیرم

■ ■ عین الأنسب للجواب عن الترجمة أو المفهوم من أو إلى العربية (۱۶۶ - ۱۷۲)

۱۶۶- ﴿واعتصموا بالله، هو مولاكم فيعم المولى و نعم النصير﴾:

- (۱) به الله چنگ بزید، او مولای شما است پس خوب مولایی و خوب یاوری است!
- (۲) به خداوند پناهنده شوید، که او سرور شما است و سرور خوب و یاور خوب اوست!
- (۳) به الله پناهنده شوید، که او مولای شما است و بهترین مولا و بهترین یاور خوب است!
- (۴) به سوی خداوند پناه ببرید، او سرور شما است و چه خوب سرور و چه خوب یاوری است!

۱۶۷- « إن كان لك صديقٌ عالمٌ ينصحك بكلامٍ يمنعك عن ارتكاب المعاصي، فهو نعمةٌ كبيرة! »:

- (۱) اگر دوستی دانا برای تو است که تو را با سخنانی پند دهد که مانع ارتکاب گناهان شود، او نعمتی بزرگ می‌باشد!
- (۲) اگر دوستی عالم داشته باشی که تو را با سخنانی پند می‌دهد تا از انجام معاصی تو را باز دارد، او نعمت بزرگی می‌باشد!
- (۳) اگر دوست عالمی داری که با کلامی نصیحت می‌کند که آدمی را از ارتکاب گناهان باز می‌دارد، او نعمتی بزرگ است!
- (۴) اگر دوست دانایی داشته باشی که با سخنی نصیحتت کند که تو را از انجام دادن گناهان باز دارد، او نعمت بزرگی است!

۱۶۸- « حَضَّضْتُ نَفْسِي عَلَى أَنْ أَذْهَبَ إِلَى الْقَرْيَةِ الَّتِي كَانَتْ أَيَّامُ صَغْرِي قَدْ مَضَتْ فِيهَا، بَعْدَ أَنْ رَأَيْتُ صُورَةَ مِنْهَا عِنْدَ أُمِّي! »:

- (۱) خود را وادار کردم به آبادی بروم که ایام کودکیم در آن گذشت، بعد از آنکه تصویرش را نزد مادرم دیدم!
- (۲) وادار شدم به دهی بروم که دوران کودکیم را در آن گذرانده بودم، بعد از اینکه مادرم تصویرش را نشانم داد!
- (۳) تشویق شدم به قریه‌ای بروم که دوران کودکیم را در آن گذرانده‌ام، بعد از آنکه مادرم تصویری از آن را نشانم داد!
- (۴) خود را تشویق کردم به روستایی که روزهای کودکیم در آن گذشته بود بروم، بعد از اینکه تصویری از آن را نزد مادرم دیدم!

۱۶۹- « قَدْ أُثْبِتَ وَجُودَ الْإِنْفَاقِ أَنْ هُنَاكَ فِي قَلْبِ الْأَحْجَارِ طَرِيقًا أَيْضًا، وَ نَحْنُ لَسْنَا أَصْعَبُ مِنَ الْحَجَرِ، فَلَا نَيَّاسُ! »:

وجود تونلها:

- (۱) ثابت کردند در دل سنگها هم، راه وجود دارد، و ما سخت‌تر از آنها نیستیم، پس ناامید نمی‌شویم!
- (۲) ثابت کرده است که در دل سنگها هم راهی وجود دارد، و ما سخت‌تر از سنگ نیستیم، پس نباید ناامید شویم!
- (۳) اثبات کرده‌اند که در درون صخره‌ها هم راههایی هست، درحالیکه ما سخت‌تر از سنگ نیستیم، پس مأیوس نشویم!
- (۴) اثبات کردند که راههایی در درون سنگها وجود دارد، حال آنکه ما از آن سخت‌تر نیستیم، پس باید مأیوس نشویم!

۱۷۰- عَيْنُ الْخَطَا:

- (۱) قد تُقَطَّعُ آلافُ الأشجارِ في كلِّ سنةٍ لأغراضٍ صناعيةٍ: قطعاً در هر سال هزاران درخت برای اهداف صنعتی بریده می‌شود!
- (۲) نلتقطُ صوراً جميلةً و نستفيدُ منها للبطاقاتِ البريديةِ: عكسهای زیبایی می‌گیریم و از آنها برای کارت پستالها استفاده می‌کنیم!
- (۳) لو ما أعطينا نعمة الحصول على العلم لَكُنَّا نَبْقَى في ضلالة الجهل: اگر نعمت دستیابی به علم به ما داده نمی‌شد در گمراهی جهالت باقی می‌ماندیم!
- (۴) إن ما كان الحجر و الصخرة في مسير النهر لما كان يُسمع صوتُ الماءِ جميلاً: اگر سنگ و صخره در مسیر رود نبود صدای آب، زیبا شنیده نمی‌شد!

۱۷۱- « جوان نزدیک بود غرق شود، پس شروع کرد به صدا زدن دوستانش، ولی آنها گمان کردند دوباره دروغ می‌گوید». عَيْنُ الصَّحِيحِ:

- (۱) كاد شابٌ يغرق، و شرع بنداء أصحابه، ولكنهم ظنوا أنه كذب مرةً أخرى.
- (۲) كاد شابٌ يستغرق في الماء، فشرع بنداء أصدقائه، وظنوا أنه يكذب كذلك.
- (۳) كاد الشابٌ يستغرق في الماء، أخذ يُنادي أصدقاءه، فظنوا أنه يكذب أيضاً.
- (۴) كاد الشابٌ يغرق، فأخذ يُنادي أصحابه، ولكنهم ظنوا أنه يكذب من جديد.

۱۷۲- عَيْنُ مَا يَخْتَلَفُ عَنِ الْبَاقِي فِي الْمَفْهُومِ:

- (۱) لين اللسان قيد القلوب!
- (۲) رَبُّ نَظْرَةٍ أَفْصَحُ مِنْ لِسَانٍ!
- (۳) لسانك اللطيف يأتي بمن هرب!
- (۴) المحافظة على اللسان تجلب الصداقة!

■ ■ عَيْنُ الْخَطَا فِي الْإِعْرَابِ وَ التَّحْلِيلِ الصَّرْفِيِّ (۱۷۳ - ۱۷۵)

۱۷۳- ﴿ لَقَدْ زَيَّنَّا السَّمَاءَ الدُّنْيَا بِمَصَابِيحٍ ﴾:

- (۱) السماء: اسم - مفرد مؤنث - جامد - معرف بأل - معرب - ممدود / مفعول به لفعل « زَيَّنَّا » و منصوب
- (۲) مصابيح: جمع تكسير (مفردة: مصباح، مذكر) - مشتق و اسم آلة - معرب - ممنوع من الصرف / مجرور بالفتح بحرف جرّ؛ بمصابيح: جار و مجرور
- (۳) الدنيا: اسم - مفرد مؤنث - مشتق و اسم تفضيل - معرف بأل - معرب - مقصور - ممنوع من الصرف / صفة و منصوب تقديرًا بالتبعية للموصوف « السماء »
- (۴) زينا: ماضٍ - للمتكلم مع الغير - مزيد ثلاثي (من باب تفعيل) - معتل و أجوف و مضاعف - متعدّد - مبني للمعلوم - مبني على السكون / فعل و فاعله ضمير « نا » البارز، و الجملة فعلية

۱۷۴- « إِنَّمَا بُعِثْتُ لِأَتَمِّمَ مَكَارِمَ الْأَخْلَاقِ »:

- (۱) بُعِثْتُ: ماضٍ - للمتكلم وحده - مجرد ثلاثي - صحيح و سالم - متعدُّ - مجهول (= مبني للمجهول) / فعل و نائب فاعله ضمير التاء، و الجملة فعلية
- (۲) أتمَّمم: مضارع - مزيد ثلاثي (من باب تفعيل) - صحيح و مضاعف - متعدُّ / فعل منصوب بحرف اللام، و مع فاعله جملة فعلية
- (۳) الأخلاق: اسم - مفرد مذكر - معرفٌ بأل - معرب - صحيح الآخر - منصرف / مضاف إليه و مجرور، و المضاف: مكارم
- (۴) مكارم: جمع تكسير (مفردة: مكرمة، مؤنث) - معرفٌ بالإضافة - معرب - صحيح الآخر / مفعول به و منصوب

۱۷۵- « تَوَاجَهَ بِلَادُنَا الْيَوْمَ أَرْمَةٌ شَدِيدَةٌ فِي قَلَّةِ الْمِيَاهِ »:

- (۱) اليوم: مفرد مذكر - جامد - معرفٌ بأل - معرب - صحيح الآخر - منصرف / ظرف أو مفعول فيه و منصوب
- (۲) بلاد: اسم - مفرد مؤنث - معرفٌ بالإضافة - معرب - صحيح الآخر - منصرف / فاعل لفعل « تواجه » و مرفوع
- (۳) شديدة: اسم - مفرد مؤنث - مشتق وصفة مشبهة (مصدر فعله: شدة) - نكرة / صفة و منصوب بالتبعية للموصوف « أرمة »
- (۴) تَوَاجَهَ: فعل مضارع - مزيد ثلاثي (من باب مفاعلة) - معتل و مثال - متعدُّ / فعل مرفوع و فاعله « بلاد » و الجملة فعلية

■ ■ عَيْنُ الْمُنَاسِبِ لِلْجَوَابِ عَنِ الْأَسْئَلَةِ التَّالِيَةِ (۱۷۶-۱۸۵)

۱۷۶- عَيْنُ الْخَطَأِ فِي ضَبْطِ حَرَكَاتِ الْحُرُوفِ:

- (۱) مَقَاوِمَتَا فِي هَذِهِ الْحَرْبِ أَنْبَتَتْ لِلْعَالَمِ أَنَّنَا لَا نَسْتَسَلِّمُ لِلْأَعْدَاءِ.
- (۲) تَسْتَطِيعُ الْبَوْمَةُ أَنْ تُدِيرَ رَأْسَهَا دَائِرَةً كَامِلَةً دُونَ أَنْ تُحَرِّكَ جِسْمَهَا.
- (۳) تُؤَدِّي الدَّلَافِينُ دَوْرًا مَهْمًا فِي الْحَرْبِ وَ السَّلْمِ، وَ تَكْشِفُ مَا تَحْتَ الْمَاءِ.
- (۴) حِينَمَا تَدْخُلُ أَدْوَاتُ الشَّرْطِ عَلَى جُمْلَتِي الشَّرْطِ وَ الْجَوَابِ الْمَاضِيَّتَيْنِ تَجْزِمُهُمَا جَزْمًا.

۱۷۷- عَيْنُ الْخَطَأِ (فِي التَّنْقِضِ):

- (۱) رَأَيْتُ فَاطِمَةَ الْكُبْرَى، إِنَّهَا تَشْتَرِكُ فِي الْمَسَابَقَةِ!
- (۲) كَانَتْ أُخْتِي الصَّغْرَى صَدِيقَةً أُخْتُكَ إِنَّهُمَا تَلْعَبَانِ جَيِّدًا!
- (۳) تَلْمِيزَاتِي أَصْبَحْنَ أَحْسَنَ مِنْ قَبْلِ فِي الْأَخْلَاقِ وَ الدَّرْسِ!
- (۴) هَذِهِ هِيَ الْمُعَلِّمَةُ الْأَفْضَلُ وَ كَأَنَّهَا مَلَكَتْ قُلُوبَ تَلْمِيزَاتِهَا!

١٧٨- عَيْنِ المصدر الميمي:

- (١) في المشرب لا نتكلم!
 (٢) في المشرب لا نلعب!
 (٣) في المشرب لأنسرف!
 (٤) في المشرب نذكر اسم الله!

١٧٩- عَيْنِ ما لا يدلُّ على المطاوعة:

- (١) اللهم إني أفتتحُ الثناء بحمدك أنت!
 (٢) وجدت برنامجًا لا يفتح في الحاسوب!
 (٣) هذا الطائر يستطيع أن يفتح غشاه كالمظلة حين يقفز!
 (٤) إذا وصل الربيع صار الهواء حارًا و تفتحت الأزهار!

١٨٠- عَيْنِ ما فيه أنواع الفعل المعتل الثلاثة:

- (١) لا ننام كثيرًا لأننا نريد أن نوصل مجتمعنا إلى قمة التقدم!
 (٢) إن أدع غير الله أحدًا لم يستجب دعائي و لن أجد عنده مأوى!
 (٣) أعوذ بربي من عيوب أنهي الآخرين عنها و أكون أنا بنفسي فيها!
 (٤) المنافق لا يقوم بعمل سيئ خوفًا من أن يراه أحدٌ و لكن لا يخاف أن يراه الله!

١٨١- عَيْنِ الخطأ عن صيغة ضمير الفصل:

- (١) من ينفع الناس لوجه الله هم أحسن الناس!
 (٢) مركز الشرطة هو المكان الذي يضمن الأمن للناس!
 (٣) إن اليومات هي التي تدخل المزارع و تأكل الفئران!
 (٤) إن الذين جاؤوا إلى الملعب هم الذين يشجعون اللاعبين!

١٨٢- عَيْنِ الخطأ عن العدد:

- (١) بقيت في السفرة السياحية واحدًا و عشرين يومًا!
 (٢) في اليوم الأول قرأت أكثر من اثنتي عشرة مقالة.
 (٣) ضرب الفريق الفائز اثنين هدفين في ثلاث مسابقات.
 (٤) في الساعة الحادية عشرة و الربع وصلت إلى محطة القطار.

١٨٣- عَيْنِ ما ليس فيه التقديم وجوبًا:

- (١) ما أحسن أدبك في الحياة!
 (٢) إنما سعيد من حاول في حياته!
 (٣) لك في هذه الشدائد صبر!
 (٤) في النجاة الصدق و في العمل النجاح!

١٨٤- عَيْنِ ما فيه التأكيد:

- (١) كانوا يظلمون أنفسهم.
 (٢) دعوا إلى الضيافة أعينهم.
 (٣) قرأنا كلتا الرسالتين معًا.
 (٤) دعوناهم إلى الضيافة جميعًا.

١٨٥- عَيْنِ ما ليس فيه المفعول المطلق:

- (١) تضاعف طمعي لرحمتك و مواهبك الدائمة حقًا!
 (٢) لنغسل أيدينا عشرين مرة يوميًا بسبب المرض الجديد!
 (٣) استفاد الإنسان كثيرًا من المادة التي تشق القنوات بسرعة!
 (٤) حصلت على جائزة ثمينة وحيثًا لصناعة مادة مفيدة للمصنع!

۱۸۶- از جمله اساسی‌ترین مشکلات دینی پس از رسول خدا (ص) در دوران حکومت حضرت امیر (ع) چه بود؟

- (۱) برتری عرب بر عجم
- (۲) گرفتار شدن مردم به رفتارهای غیراخلاقی
- (۳) اصرار حضرت بر نفی امتیازات کاذب اقتصادی
- (۴) ملاک قرار گرفتن سنت شیخین (ابوبکر و عمر) در کنار سنت نبوی

۱۸۷- کدام گزینه، درباره براء بن عازب درست است؟

- (۱) از اولین مخالفان خلافت ابوبکر بود.
 - (۲) از فرماندهان سپاه اسلام در جنگ موته بود.
 - (۳) از رؤسای قبیله خزرج و موافق خلافت ابوبکر بود.
 - (۴) از موافقان جریان سقیفه و از عاملان تثبیت خلافت ابوبکر بود.
- ۱۸۸- علت اعزام نیروهای مسلمان توسط پیامبر (ص) به دهکده موته و بروز جنگ چه بود؟

- (۱) ایجاد مزاحمت برای کاروان‌های تجاری توسط قبایل این منطقه
 - (۲) همکاری حاکم موته با امپراتوری ساسانی
 - (۳) برنامه‌ریزی حاکم بصری برای قتل پیامبر (ص)
 - (۴) قتل ناجوانمردانه سفیر پیامبر (ص) توسط حاکم بصری
- ۱۸۹- این سخن حضرت علی (ع) در پاسخ به کدام شخص و درباره کدام گروه بیان شده است؟
«مرا می‌گویی که آنان را طرد کنم و از ستمکاران شوم.»

- (۱) ابوموسی اشعری - موالی
- (۲) ابوموسی اشعری - خوارج
- (۳) اشعث بن قیس - موالی
- (۴) اشعث بن قیس - خوارج

۱۹۰- در کدام گزینه، نام حکام ایرانی یمن در دوره ساسانی آمده است؟

- (۱) باذان - ذونواس
 - (۲) ذونواس - ژوستینین
 - (۳) وهرز دیلمی - باذان
 - (۴) وهرز دیلمی - ذونواس
- ۱۹۱- عمر بن عبدالعزیز با کدام یک از اقدام‌های اصلاحی خود، موجب تحریک نهضت علمی شد؟

- (۱) رسیدگی به امور شیعیان و خوارج
- (۲) لغو ممنوعیت نقل حدیث
- (۳) لغو قانون لعن و ناسزاگویی در منابر
- (۴) حمایت از علویان و کاهش فشار بر آنان

۱۹۲- کدام گزینه، در نسبت با شخصیت و رفتار حجاج بن یوسف ثقفی نادرست است؟


- (۱) با آمدن او جو خفقان و وحشت بر محافل شیعه حاکم شد.
- (۲) او از والیان مروان بن حکم بود و ابن زبیر را در سال ۷۸ ق. شکست داد.
- (۳) او خانه کعبه را محاصره کرد، به منجیق بست و سپس آن را ویران کرد.
- (۴) امام باقر (ع) درباره وی فرموده‌اند: زندیق و کافر در نزد او بهتر از شیعه علی (ع) بود.

۱۹۳- بنی‌امیه با ترویج کدام نوع تفکر، رفتارهای ظالمانه خویش را توجیه کرده و زمینه اعتراض مردمی را از بین می‌بردند؟

- (۱) غلات و مرچئه
- (۲) خبیره و مرچئه
- (۳) خبیره و قدریه
- (۴) قدریه و غلات

- ۱۹۴- کدام گزینه، موضوع مکاتبه امام حسن عسگری (ع) با اسحاق بن اسماعیل نیشابوری در آمده است؟
- (۱) معرفی ابراهیم بن عبده به عنوان وکیل و تعیین حدود و وظایف وی
 - (۲) تعیین محدوده و اختیارات ایوب بن نوح و ابوعلی راشد از وکیلان شبکه وکالت
 - (۳) دروغگو معرفی کردن عنی بن خسکه و بر حذر داشتن شیعیان از مراجعه به وی
 - (۴) دوری کردن مردم قم از موسی بن یحیی که از طرف عباسیان حاکم آن شهر شده بود.
- ۱۹۵- کدام دیوان، وظیفه ارسال خراج دریافتی به مرکز خلافت و چگونگی تقسیم آن را برعهده داشت؟
- (۱) حسیه
 - (۲) جیش
 - (۳) بیت المال
 - (۴) خراج یا استیفا
- ۱۹۶- کدام گزینه، از نتایج رشد شهر و شهرنشینی در ایران دوره سلجوقی است؟
- (۱) رشد و رونق یافتن تجارت، فراهم شدن زمینه برای استقرار نظام دیوانی کارآمد
 - (۲) فراهم شدن فرصت مناسب برای توسعه زبان و ادبیات فارسی و استقرار نظام دیوانی کارآمد
 - (۳) رشد چشمگیر تجارت داخلی و خارجی، اهمیت پیدا کردن بیش از پیش طبقه بازرگان شهری و صرافان
 - (۴) فراهم شدن فرصت مناسب برای توسعه زبان و ادبیات فارسی، اهمیت یافتن بیش از پیش طبقه بازرگان شهری
- ۱۹۷- کدام گزینه، درباره «جلال الدین میرک» و «محمد صادق» از هنرمندان مطرح تاریخ نقاشی ایران درست است؟
- (۱) هر دو از نقاشان و نگارگران برجسته مکتب شیراز هستند و از نقاشی اروپا تأثیر گرفته‌اند.
 - (۲) هر دو از نقاشان بزرگ مکتب تبریز در دوره صفوی و خالق مینیاتورهای شاهنامه تهماسبی هستند.
 - (۳) جلال الدین میرک از خالقان مینیاتورهای شاهنامه تهماسبی و محمدصادق نقاش برجسته مکتب شیراز است.
 - (۴) محمدصادق از خالقان مینیاتورهای شاهنامه تهماسبی و جلال الدین میرک نقاش برجسته مکتب شیراز است.
- ۱۹۸- در کدام گزینه، نام دو روزنامه غیردولتی چاپ ایران دوره قاجار آمده است؟
- (۱) تربیت - ادب
 - (۲) حکمت - ثریا
 - (۳) عروة الوثقی - اختر
 - (۴) کاغذ اخبار - وقایع اتفاقیه
- ۱۹۹- امام خمینی (ره) از کدام واقعه به انقلاب دوم تعبیر کردند؟
- (۱) فتح خرمشهر
 - (۲) تدوین قانون اساسی
 - (۳) تسخیر لانه جاسوسی
 - (۴) عزل بنی‌صدر از ریاست جمهوری
- ۲۰۰- پس از وقوع کدام رویداد، حضرت امام خمینی (ره)، تقیه و سکوت در مقابل ظلم حکومت را حرام دانستند؟
- (۱) حمله مأموران رژیم به مدرسه فیضیه قم و مدرسه طالبیه تبریز
 - (۲) تلاش دولت برای اجرای تصویب‌نامه انجمن‌های ایالتی و ولایتی
 - (۳) برگزاری همه‌پرسی اصول شش‌گانه موسوم به انقلاب سفید
 - (۴) تصویب لایحه کاپیتولاسیون

- ۲۰۱- در کدام عبارت، تفاوت میان نگرش جغرافیدانان با سایر رشته‌های علوم، به درستی بیان شده است؟
 (۱) کمک به انسان برای زندگی بهتر
 (۲) کشف ناشناخته‌های جهان
 (۳) مطالعه شباهت‌ها و تفاوت‌های مکان‌ها
 (۴) طبقه‌بندی نظام‌های اقتصادی و اجتماعی
- ۲۰۲- کدام مورد، با دلایل ناپایداری «دامنه شمالی البرز» مغایرت دارد؟
 (۱) شیب زیاد دامنه‌ها
 (۲) افزایش وزن دامنه‌ها
 (۳) جریان آب حاصل از بارندگی
 (۴) حجم زیاد رسوبات فرسایش یافته
- ۲۰۳- کدام گزینه، پیامد عبارت زیر است؟
 «در فصل زمستان و در شرایطی که توده هوا از هوای مجاور خود گرم‌تر می‌شود، در صورت وجود رطوبت، بارندگی صورت می‌گیرد.»
 (۱) افزایش بارش در سواحل خزر
 (۲) تراکم رطوبت و بارش در دامنه غربی زاگرس
 (۳) کاهش اختلاف دما در سواحل شمالی و جنوبی کشور
 (۴) تشکیل ابرهای نیمبواستراتوس در دامنه شمالی البرز
- ۲۰۴- کدام جمله، دلیل مناسبی برای عبارت تدوین شده است؟
 «سفیدرود و هراز از طولانی‌ترین رودهایی هستند که به دریای خزر وارد می‌شوند.»
 (۱) پرآب‌ترین رودهای این حوضه آبریز هستند.
 (۲) از کوهستان‌های بلند و برف‌گیر تغذیه می‌شوند.
 (۳) سرچشمه رودهای متعددی در حوضه آبریز هستند.
 (۴) براساس شکل زمین و شیب ناهمواری جریان می‌یابند.
- ۲۰۵- همه عبارت‌ها، براساس «سلسله مراتب سکونتگاه‌های ایران»، به درستی نوشته شده‌اند، به جز:
 (۱) استان با تنوع خدمات بیشتر در رأس هرم قرار گرفته است.
 (۲) تنوع خدمات در دهستان کمتر از بخش و بیشتر از روستا است.
 (۳) در شهرستان شمار جمعیت و تنوع خدمات از بخش بیشتر و از استان کمتر است.
 (۴) تنوع خدمات و شمار جمعیت در چند روستا، از بخش بیشتر و از دهستان کمتر است.
- ۲۰۶- کدام گزینه، با توجه به تصویر زیر، عبارت تدوین شده را به درستی کامل می‌کند؟
 «هر مکان در روی زمین ویژگی‌هایی دارد و»

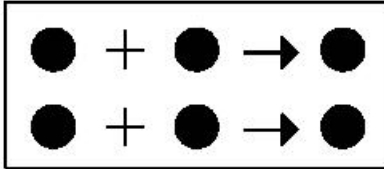


- (۱) میان هر واحد با واحد مجاور تفاوت وجود دارد.
 (۲) میان اجزا و پدیده‌های آن، نوعی پیوستگی و هماهنگی وجود دارد.
 (۳) تعیین حدود یک ناحیه، به هدف مطالعه و تحقیق جغرافیدان بستگی دارد.
 (۴) ویژگی اصلی هر ناحیه، وحدت و همگونی نسبی میان عناصر طبیعی و انسانی است.
- ۲۰۷- همه موارد، با ویژگی‌های بیان تصویر شده، مغایرت دارند، به جز:
 (۱) دوری از منابع رطوبتی
 (۲) صعود کردن هوای مرطوب
 (۳) مجاورت با مرکز پرفشار جنب حاره
 (۴) قرار داشتن در عرض جغرافیایی بالا

۲۰۸- کدام گزینه، بیانگر تفاوت «نقش فرسایشی آب‌های جاری» در مقایسه با عملکرد سایر عوامل مؤثر در فرایند فرسایش است؟

- (۱) تشکیل غارهای طبیعی
(۲) تغییر شکل عوارض سطح زمین
(۳) انباشت مواد حاصل از هوازدگی
(۴) حمل مواد تخریب شده به صورت معلق

۲۰۹- کدام عبارت، با مدل تصویر شدهٔ روبه‌رو، مغایرت دارد؟



- (۱) ظهور دین مسیحیت در آسیا
(۲) خلق چشم‌اندازهای فرهنگی
(۳) همه‌گیری بیماری Covid۱۹

(۴) پراکندگی پیروان دین یهود در نواحی بزرگ بازرگانی

۲۱۰- همه عبارت‌ها، با نظریهٔ «قدرت دریایی آلفرد ماهان»، مطابقت دارند. به جز:

- (الف) کشورهای قدرتمند هستند که به آب‌های آزاد دسترسی داشته باشند.
(ب) فضاها دریایی و اقیانوسی در شکل‌گیری قدرت جهانی مؤثر هستند.
(ج) قدرت دریایی کشور ساحلی وابسته به نیروی جنگی ناوگان دریایی است.
(د) در کشورهای دریایی و اقیانوسی، ملتی قدرتمندتر است که در تجارت دریایی نیرومند باشد.
- (۱) الف و ب (۲) الف و ج (۳) ب و د (۴) ج و د

۲۱۱- کدام عبارت، درست است؟

- (۱) همهٔ پایتخت‌ها در سطح جهان، مادرشهر هستند.
(۲) مادرشهرها بیش از ۱۰ میلیون نفر جمعیت دارند.
(۳) مادرشهرها در رأس هرم سلسله مراتب سکونتگاهی قرار دارند.
(۴) مادرشهرها بزرگ‌ترین و پرجمعیت‌ترین شهر در یک ناحیه یا استان هستند.

۲۱۲- کدام موارد، به صورت «طرح هادی روستایی و توسط بنیاد مسکن انقلاب اسلامی ایران» تهیه و اجرا شده است؟

- (الف) توسعهٔ صنایع تبدیلی کشاورزی
(ب) آموزش بهداشت و پیشگیری از بیماری‌های واگیردار
(ج) بهبود خدمات گردشگری و فراغتی
(د) تأمین آب آشامیدنی سالم

(۱) الف و ب (۲) الف و ج (۳) ب و د (۴) ج و د


۲۱۳- چرا مدیریت حمل‌ونقل درون شهری، یکی از موضوعات مهم شهرها، طی ۵۰ سال اخیر بوده است؟

- (۱) به دسترسی عادلانهٔ همهٔ اقشار جامعه توجه شده است.
(۲) نقاضای حمل‌ونقل شهری، رشد چشمگیری داشته است.
(۳) حمل‌ونقل یکی از اساسی‌ترین نیازهای روزانهٔ مردم بوده است.
(۴) با توسعهٔ وسایل حمل‌ونقل، مصرف سوخت‌های فسیلی بسیار افزایش یافته است.

۲۱۴- کدام عبارت، نادرست است؟

- (۱) رودخانه‌ها، جریان آب حاصل از بارش را، به تدریج تخلیه می‌کنند.
(۲) میان شکل حوضه و شیب بستر با طول آبراهه، رابطهٔ مستقیمی وجود دارد.
(۳) در زمان وقوع سیلاب‌های فصلی، جریان آب، دشت‌های سیلابی را فرا می‌گیرد.
(۴) هر قدر تعداد انشعابات رود بیشتر باشد، سرعت تخلیهٔ آب حاصل از بارش افزایش می‌یابد.

۲۱۵- تصویر زیر، با کدام یک از «روش‌های سازهای» در مدیریت پیش از وقوع سیل مطابقت دارد؟



- (۱) ساخت سدهای خشکه چین مطابق با دورهٔ بازگشت آبراهه‌ها
(۲) ساخت دیواره‌های مهارکننده برای انحراف آبراهه‌ها
(۳) احداث کانال‌های انحرافی با هدف هدایت آبراهه‌ها
(۴) احداث سد تنظیمی برای اصلاح شیب آبراهه‌ها

۲۱۶- به ترتیب عناوین زیر، در رابطه با جهان اجتماعی چه چیزی را بیان می‌کنند؟

- حقوق و تکالیف افراد

- عقاید و ارزش‌ها

- پدیده‌های کلان مانند فرهنگ و جامعه

(۱) لایه‌های جهان اجتماعی - اجزای جهان اجتماعی - ویژگی جهان اجتماعی

(۲) محدودیت‌های جهان اجتماعی - ویژگی جهان اجتماعی - لایه‌های جهان اجتماعی

(۳) اجزای جهان اجتماعی - ویژگی جهان اجتماعی - فرصت‌ها و محدودیت‌های جهان اجتماعی

(۴) فرصت‌ها و محدودیت‌های جهان اجتماعی - عمیق‌ترین لایه‌های جهان اجتماعی - اجزای جهان اجتماعی

۲۱۷- کدام یک، روند تبدیل جهان اجتماعی به جهان اجتماعی دیگر را بیان می‌کند؟

(۱) بحران هویت ← دگرگونی هویت فرهنگی ← فراتر رفتن تغییرات از محدوده تغییرات درون جهان اجتماعی ← تحولات فرهنگی ← تبدیل جهان اجتماعی به جهان اجتماعی دیگر

(۲) تعارض فرهنگی ← بحران هویت ← دفاع از عقاید و ارزش‌های اجتماعی ← پیدایش شیوه‌هایی از زندگی در تداوم عقاید و ارزش‌ها ← تبدیل جهان اجتماعی به جهان اجتماعی دیگر

(۳) تزلزل فرهنگی ← بحران هویت ← تغییرات هویتی بیرون از مرزهای مقبول جهان اجتماعی ← تأثیرپذیری از جهان‌های اجتماعی دیگر ← تبدیل یک جهان اجتماعی به جهان اجتماعی دیگر

(۴) شکل‌گیری هویت اجتماعی خارج از چارچوب ارزش‌های اساسی جامعه ← پیدایش شیوه‌هایی از زندگی در تقابل با عقاید و ارزش‌ها ← بحران هویت ← تعارض فرهنگی ← تبدیل جهان اجتماعی به جهان اجتماعی دیگر

۲۱۸- ویژگی‌های جامعه تغلب و مردم آن کدام است؟

(۱) همکاری مردم برای غلبه یافتن بر سایر ملت‌ها - خوار و مقهور کردن دیگران - تصور برتر بودن خود نسبت به دیگران - طالب ستایش دیگران

(۲) خودداری از چیرگی بر مردم جامعه - فراهم آوردن زمینه نفوذ سلطه‌گران - منفعل کردن مردم - بی‌ارزش ندانستن مردم جوامع دیگر

(۳) علاقه به چیره شدن بر یکایک مردم جامعه خود - تصور خوشبخت و پیروز بودن دیگران - انکار نقش انسان‌ها در تعیین سرنوشتشان - خوار کردن دیگران

(۴) شیفتگی همه مردم برای غلبه بر اقوام دیگر - مالک نبودن ملت مقهور بر جان و مال خود - تصور توانایی دیگران در دستیابی به موقعیت آنان - خوار شمردن مردم جوامع دیگر

۲۱۹- در استعمار نو، کشور استعمارگر چگونه کنترل بازار و سیاست کشورهای دیگر را در اختیار می‌گیرد؟

(۱) استفاده از ابزارهای فناوری اطلاعات - با اتکاء به قدرت نظامی خود - با استفاده از نهادها و سازمان‌های اقتصادی و سیاسی بین‌المللی

(۲) با اتکاء به قدرت اقتصادی خود - با استفاده از نهادها و سازمان‌های اقتصادی و سیاسی بین‌المللی - از طریق دولت‌های دست‌نشانده

(۳) با اتکاء به قدرت نظامی خود - از طریق دولت‌های دست‌نشانده - هدف قرار دادن هویت فرهنگی دیگر کشورها

(۴) استفاده از مجربان بومی - استفاده از ابزارهای فناوری اطلاعات - با اتکاء به قدرت اقتصادی خود

۲۲۰- به ترتیب هر یک از عناوین زیر مربوط به کدام قسمت در جدول است؟

- دانش ابزاری

- عقل‌گرایی، نفی وحی

- بحران معرفتی

- حس‌گرایی، نفی عقل و وحی

روشننگری		
دوره زمانی	ویژگی	پیامد
قرون هفدهم و هجدهم	ج	د
قرون نوزدهم و بیستم	الف	هـ
پایان قرن بیستم	ب	و

(۴) هـ - ج - و - الف

(۳) د - ب - الف - ج

(۲) ج - و - هـ - الف

(۱) الف - هـ - ج - و

۲۲۱- عبارت درست در رابطه با انقلاب اسلامی ایران، کدام است؟

- (۱) در جهت مبارزه با استعمار قدیم و حذف کارگزاران مستقیم غرب موفق شد - هویتی سیاسی داشت - مورد حمایت بلوک شرق بود.
- (۲) انقلاب اسلامی ایران فقط یک انقلاب سیاسی بود - با جنبش‌های چریکی گروه‌ها و احزاب مختلف شکل گرفت - هویتی فرهنگی و سیاسی داشت.
- (۳) در جهت از بین بردن سلطه سیاسی کشورهای غربی عمل می‌کرد - هویتی فرهنگی و تمدنی داشت - در کانون قطب فرهنگی جهان اسلام قرار گرفت.
- (۴) در کانون قطب سیاسی جهان اسلام قرار گرفت - در جهت از بین بردن سلطه نظامی کشورهای غربی عمل می‌کرد - به فلسفه‌ها و مکاتب سیاسی شرق تعلق نداشت.

۲۲۲- به ترتیب، مشخص کنید موارد ذکر شده با کدام نوع جامعه‌شناسی در ارتباط هستند؟

- از منظر آن برخی جوامع از برخی دیگر پیچیده‌ترند، در رفع نیازهای خود تواناترند و به همین دلیل پیشرفته‌ترند.
- انتظار دارد علوم اجتماعی با تشخیص و افشای سلطه در مناسبات انسانی، به رهایی انسان کمک کند.
- روش آن، نگاه به درون پدیده‌ها برای یافتن معنای آن‌ها است.
- بر آنچه مشاهده می‌شود تمرکز می‌کند.

- (۱) تبیینی - تفسیری - انتقادی - انتقادی - تبیینی - انتقادی
- (۲) تفسیری - انتقادی - تبیینی - تبیینی - انتقادی
- (۳) انتقادی - تبیینی - تبیینی - تفسیری
- (۴) تبیینی - انتقادی - تفسیری - تبیینی

۲۲۳- به ترتیب، کدام رویکرد به نابرابری اجتماعی، چنین می‌پندارد؟

- جامعه وظیفه دارد امکان رقابت را برای همگان فراهم کند.
- عدالت اقتصادی، مهم دانسته می‌شود.
- نابرابری اجتماعی از تفاوت‌ها یا نابرابری‌های طبیعی ناشی می‌شود.

- (۱) مخالفان قشربندی اجتماعی - طرفداران قشربندی اجتماعی - طرفداران عدالت اجتماعی
- (۲) طرفداران عدالت اجتماعی - مخالفان قشربندی اجتماعی - طرفداران قشربندی اجتماعی
- (۳) طرفداران قشربندی اجتماعی - مخالفان قشربندی اجتماعی - طرفداران عدالت اجتماعی
- (۴) طرفداران عدالت اجتماعی - طرفداران قشربندی اجتماعی - مخالفان قشربندی اجتماعی

۲۲۴- کدام یک، از ویژگی‌های جامعه‌شناسی انتقادی است، اما ویژگی جامعه‌شناسی تفسیری نیست؟

- (۱) اغلب معنای کنش و آن چه درون انسان می‌گذرد را نادیده می‌انگارد - روش مطالعه، روش کمی است.
- (۲) به نقد سلطه در روابط و مناسبات میان افراد، گروه‌ها و فرهنگ‌ها می‌پردازد - هدف معنابخشی و انسجام‌بخشی به زندگی اجتماعی است.
- (۳) برای دفاع از اراده افراد و فرهنگ‌ها معتقد است نباید اراده فرد یا گروهی بر فرد یا گروه دیگری تحمیل شود - عدالت اجتماعی را تحسین می‌کند و برای گسترش آن راه‌حل‌هایی تجویز می‌کند.
- (۴) در این رویکرد برای فهم زندگی اجتماعی باید از ظاهر پدیده‌های اجتماعی عبور کرد و به معنای نهفته در کنش‌ها راه یافت - به بیان چرایی یک پدیده یا نشان دادن علت ایجاد و زوال آن می‌پردازد.

۲۲۵- دسته‌بندی فارابی از جوامع مختلف بر چه اساسی انجام شده و این تقسیم‌بندی چگونه صورت پذیرفته است؟

- (۱) نوع علم، اندیشه، آرمان‌ها و ارزش‌های آن‌ها - با تأثیرپذیری از قرآن و تجربه تاریخی جوامع
- (۲) شناخت آرمان‌ها و ارزش‌ها و تجربه تاریخی آن‌ها - با روش تجربی و تفهیمی و براساس باورهای دینی
- (۳) نوع حکومت، دانش‌ها و آثار مادی و معنوی آن‌ها - با تأثیرپذیری از قرآن و با شناخت سنت‌های الهی
- (۴) نوع علم، اندیشه، فرهنگ و رفتار آن‌ها - با توجه به جوامع زمان خود و جوامع گذشته و با استدلال عقلی

۲۲۶- علوم اجتماعی متفکران مسلمان، چه ویژگی‌هایی دارد؟

- (۱) برای داوری درباره ارزش‌ها، از ظرفیت عقل نظری و عملی و وحی بهره می‌برند و تبیین و تفسیر و تجویز استدلال‌های ویژه خود را دارند و در هر سه سطح، پژوهشگر اجتماعی به دنبال کشف واقعیت‌ها و حقایق است.
- (۲) از سطوح مختلف عقل استفاده می‌کنند و تبیین را به تبیین تجربی محدود می‌دانند و از ظرفیت جهان شمول عقل نظری و عقل عملی و وحی کمک می‌گیرند.
- (۳) از ظرفیت جهان شمول عقل نظری و عقل عملی و وحی برای داوری ارزش‌ها کمک می‌گیرند و تفسیر را نوعی تبیین و استدلال عقلی نمی‌دانند.
- (۴) تفسیر و تبیین را در تقابل با هم می‌بینند و در همه سطوح، پژوهشگر اجتماعی به دنبال کشف واقعیت‌ها و حقایق است.

- ۲۲۷- به ترتیب پاسخ پرسش‌های زیر چیست؟
- در چه شرایطی امکان تشخیص درست یا غلط بودن باورها و اندیشه‌ها از بشر سلب می‌شود؟
 - جنبش عدالتخانه از آن جهت که ساختار سیاسی جامعه را تغییر می‌داد، چگونه انقلابی بود؟
 - بسیاری از آدابی که مراعات می‌کنیم، محصول چیست؟
 - چه چیزی، سکولاریسم را از لایه‌های سطحی فرهنگ غرب به لایه‌های عمیق آن تسری داد؟
- (۱) تعارض فرهنگی - سیاسی - کنش‌های اجتماعی - اومانیزم
 (۲) تزلزل فرهنگی - هویتی - هنجارهای اجتماعی - فلسفه‌های روشنگری
 (۳) بحران هویتی - فرهنگی - سنت‌ها و قوانین اجتماعی - جریان‌های پست مدرن
 (۴) بحران معرفت‌شناختی - اجتماعی - پدیده‌های اجتماعی اطراف ما - فلسفه‌های روشنگری
- ۲۲۸- به ترتیب هر یک از موارد زیر نتیجه چیست؟
- رکود اراده‌ها
 - حذف ارزش و اخلاق از زندگی اجتماعی
 - ایجاد دولت بزرگ
 - مشاهده نشدن نظم در زندگی روزمره
- (۱) نادیده گرفتن کنش اجتماعی - تأکید بیش از اندازه رویکرد تبیینی بر نظم و ساختارهای اجتماعی - اقتصاد وابسته به نفت - عادت به نظم
 (۲) نادیده گرفتن قواعد اجتماعی - تأکید بیش از اندازه رویکرد انتقادی بر نظم و ساختارهای اجتماعی - تک محصولی - عدم آگاهی
 (۳) خودباختگی فرهنگی - روی آوردن به جامعه‌شناسی تفسیری - عدم رواج کسب و کار - تمرکز بر بی‌نظمی
 (۴) بحران هویت - سلب شور زندگی از انسان‌ها - تولید ملی ضعیف - آشنایی‌زدایی
- ۲۲۹- به ترتیب هر یک از این موارد با چه موضوعی ارتباط دارند؟
- افرادی که از نظر قانونی و اجتماعی از هیچ اهمیت و اعتباری برخوردار نبودند ولی به علت فواید و کارکردهایشان تحمل می‌شدند.
 - اگر اراده فرد یا گروهی سرکوب گردد، مصداق سلطه است.
 - اتفاقات غیرمنتظره شما را از همکاری با دیگران باز ندارند.
- (۱) رعایا - دیدگاه جامعه‌شناسی تبیینی - فایده علوم اجتماعی
 (۲) کارگران کشاورز - هدف جامعه‌شناسان انتقادی - فایده علوم انسانی
 (۳) طبقه متوسط - نگرش جامعه‌شناسی تفسیری - فایده قواعد اجتماعی
 (۴) طبقه سوم در جوامع فنودالی غربی - نگرش جامعه‌شناسان انتقادی - فایده نظم اجتماعی
- ۲۳۰- پاسخ سؤال‌های زیر کدام است؟
- تأمین جمعیت مناسب برای جهان اجتماعی، چگونه مسئله‌ای است؟
 - مطالعه موردی، جزء کدام دسته از روش‌ها است؟
 - «کنش انسان‌ها» با کدام عقل درک می‌شود؟
 - در اواخر قرن بیستم، چه چیزی محور مباحثات فکری و سیاسی شد؟
- (۱) اجتماعی - کمی - ابزاری - قشربندی
 (۲) هویتی - کیفی - تفسیری - هویت
 (۳) سیاسی - کیفی - تجربی - عدالت اجتماعی
 (۴) اقتصادی - قوم‌نگاری - انتقادی - کشمکش طبقاتی
- ۲۳۱- هر یک از موارد زیر، به کدام علت پدید آمده‌اند؟
- خرده فرهنگ‌ها و گروه‌های مختلف درون هر جهان اجتماعی
 - استفاده از منابع عقلانی و وحیانی در تبیین‌های علمی جهان اسلام
 - سرعت بخشیدن به انباشت ثروت سرمایه‌داران
 - حاشیه‌نشینی
- (۱) تنوع و تکثر معانی - توجه به عقل در معنای عام - تکنولوژی - مرکز، پیرامون
 (۲) معنادار بودن کنش‌های انسانی - اخذ این تفاسیر از فلسفه یونان - رشد تجارت - بحران اقتصادی
 (۳) فعالیت و خلاقیت کنشگران - محدود نشدن به شناخت تجربی - صنعت - بحران زیست‌محیطی
 (۴) تفاوت زمینه‌های فرهنگی کنشگران - عدم ساماندهی همه عرصه‌های علمی توسط عقلانیت - برده‌داری - فقر و غنا

۲۳۲ به ترتیب، این نظریه‌ها توسط چه کسانی مطرح شده است؟

- جهان متجدد فقط علمی را که با روش‌های تجربی به دست می‌آیند، علم می‌داند.
- در ورای ابهام، رمز و رازی نهفته است که با هنر می‌توان به آن راه یافت.
- چالش‌های جامعه سرمایه‌داری، فقط با یک انقلاب قابل حل بود.
- «عصبیت» را عامل شکل‌گیری جوامع می‌دانست.

- (۱) وبر - مارکس - هانتینگتون - فارابی
 (۲) فارابی - گافمن - وبر - ابن‌خلدون
 (۳) مارکس - وبر - ابوعلی مسکویه - فارابی
 (۴) وبر - پاول کله - مارکس - ابن‌خلدون

۲۳۳ پاسخ سؤال‌های زیر به ترتیب کدام است؟

- برخی از متفکران، مشکل سرنوشت‌ساز قرن بیستم را چه چیزی می‌دانند؟
- مشخصه اصلی هویتی دولت - ملت‌های جدید چه بود؟
- وقتی فردی مجسمه‌ای می‌سازد از چه جهانی، به چه جهانی وارد می‌شود؟
- چه کسی معتقد بود که جهان متجدد در جهت برخورداری از زندگی دنیوی و تسلط انسان بر عالم گام برمی‌دارد؟

- (۱) بحران‌های زیست‌محیطی - ملی‌گرایی و وطن‌دوستی - فردی به فرهنگی - ماکس وبر
 (۲) تقابل‌های جهانی - شناخت متقابل هویت‌ها - تکوینی به فرهنگی - مارکس
 (۳) بحران معرفتی - سیاست هویت - فردی به تکوینی - آگوست کنت
 (۴) فقر و غنا - ناسیونالیسم - فرهنگی به اجتماعی - ماکس وبر

۲۳۴ - درست و غلط بودن عبارت‌های زیر را تعیین کنید.

- هرگاه عقاید و ارزش‌ها، اهمیت و اعتبار خود را نزد اعضای جهان اجتماعی از دست بدهند، دوام هویت فرهنگی با چالش‌هایی مواجه می‌شود.
- فاصله میان وضع موجود و وضع مطلوب جهان اجتماعی، جامعه‌شناسی را به داوری درباره ارزش‌ها و انتقاد از آن‌ها می‌کشاند.
- با تغییرات و تفاوت‌هایی که در جهان اجتماعی به وجود می‌آید، مانند افول یا رشد اقتصاد و ... هویت جهان اجتماعی تغییر می‌کند.

- بیداری اسلامی، تغییر موقعیت ملت‌ها و کشورهای پیرامونی، در نظام جهانی سلطه را هدف نهایی خویش می‌بیند.

- (۱) غ - د - غ - غ
 (۲) د - د - غ - غ
 (۳) غ - د - د - غ
 (۴) غ - د - غ - غ

۲۳۵ - در ارتباط با یک کنش اجتماعی، مانند گرایش افراطی جوانان به اینترنت و بازی‌های رایانه‌ای، به ترتیب هر یک از رویکردهای سه‌گانه جامعه‌شناسی تبیینی، تفسیری و انتقادی چگونه به بررسی آن می‌پردازند؟

(۱) با استفاده از روش‌های کمی، به پیش‌بینی این کنش اجتماعی و راه‌های کنترل آن می‌پردازد - با توجه به پیچیدگی پدیده اعتیاد به اینترنت و فضای مجازی، به فهم معنای آن در گروه‌های مختلف می‌پردازد - با پذیرش معانی و اراده افراد و کشف حقیقت و فضیلت، به نقد این کنش پرداخته و وضعیت مطلوب را تجویز می‌کند.

(۲) در هر جامعه، با توجه به ویژگی‌های فرهنگی و اجتماعی آن می‌توان این پدیده را مورد مطالعه تجربی قرار داد - برای فهم و تفسیر این کنش، باید بفهمیم که این اعتیاد بر چه چیزی دلالت می‌کند - با استفاده از روش‌های کمی، بدون تحمیل و سرکوب این کنش، وضع مطلوب را تجویز می‌کند.

(۳) بین میزان پرخاشگری با اعتیاد به اینترنت و بازی‌های رایانه‌ای رابطه وجود دارد - به زمینه فرهنگی که جوانان در آن به استفاده افراطی از اینترنت می‌پردازند رجوع می‌کنند - اعتیاد به اینترنت و فضای مجازی برای جوانان خطرناک است و آن‌ها را از فضای واقعی زندگی جدا می‌کند.

(۴) اعتیاد به اینترنت و فضای مجازی موجب اخلاق‌گریزی و سقوط ارزش‌ها می‌شود - سرگرمی، هیجان، آزادی و به‌روز بودن، انگیزه و عامل اصلی حضور در فضای مجازی است - با وجود پیچیدگی این مسئله و همه‌گیر بودن آن، می‌توان به راهکارهایی برای بهبود این وضعیت دست یافت.

۲۳۶- در کدام عبارت، احتمال وقوع مغالطه اشتراک لفظ وجود دارد؟

- (۱) قضایا مانند مفاهیم، به جزئی و کلی تقسیم می‌شوند.
- (۲) تصدیق می‌کنم که به‌درستی، متوجه منظور شما نشدم.
- (۳) او خدو انداخت بر رویی که ماه / سجده آرد پیش او در سجده‌گاه
- (۴) کار پاکان را قیاس از خود مگیر / گرچه باشد در نبستن شیر شیر

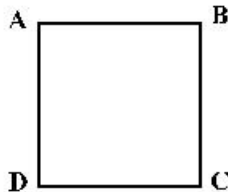
۲۳۷- در کدام مورد، نوع دلالت همه الفاظ مشخص شده بر معنای آن‌ها یکسان است؟

- (۱) دوستش او را به خانه خود برد. - دست‌هایت را تا جایی که می‌توانی بالا ببر - خدا در قرآن به قلم سوگند خورده است.
- (۲) پاک‌کنی که خریدام، خوب پاک نمی‌کند. - دستم روی کاغذ می‌دوید و داستان را پیش می‌برد. - در قوری گم شده است.
- (۳) تو ماه منی، مرا با ماه گردون کاری نیست. - چون کوه استوار باش و دلت را به خدای بسیار - ماشین پت پتی کرد و از کار افتاد.
- (۴) دست خدا بالای دست‌های آنان است. - سرو از میان درختان، مظهر خوش قد و بالائی است. - پس از رسیدن به خانه، دست و صورت را بشوئید.

۲۳۸- مناسب‌ترین پاسخ برای این پرسش که «چرا جملات انشایی در منطق بررسی نمی‌شوند» کدام است؟

- (۱) با واقعیت مطابقت ندارند.
- (۲) خطای اندیشه شامل آن‌ها نمی‌شود.
- (۳) فقط از احساسات و تمایلات ما خبر می‌دهند.
- (۴) به شکل سؤالی، امری یا عاطفی بیان می‌شوند.

۲۳۹- اگر مربع روبه‌رو، مربع تقابل باشد، به ترتیب امکان موارد زیر را بررسی کنید:



- جمع میان A و D در صدق
- تشخیص صدق یا کذب B در صورت صدق C
- جمع میان A و B در صدق
- (۱) غیرممکن - غیرممکن - امکان پذیر
- (۲) غیرممکن - امکان پذیر - غیرممکن
- (۳) امکان پذیر - امکان پذیر - غیرممکن
- (۴) امکان پذیر - غیرممکن - غیرممکن

۲۴۰- روزی نرگس از دور، حیوانی چهارپا دید که بار زیادی بر پشتش گذاشته شده بود. پدر او مدتی پیش در ضمن یک داستان، شتر کوهان‌دار را برای او توصیف کرده بود. نرگس بی‌درنگ فریاد زد: پدر! شتر کوهان‌دار! نرگس دچار چه مغالطه‌ای شده است؟

- (۱) تمثیل ناروا
- (۲) ابهام انعکاس
- (۳) تعمیم شتابزده
- (۴) توسل به احساسات

۲۴۱- در کدام قضیه، دامنه مصادیق موضوع و محمول علامت یکسانی دارند؟

- (۱) برخی از حیوانات استخوان ندارند.
- (۲) تیم والیبال جنابازان بازی را برد.
- (۳) آدمی به‌طور طبیعی به آینده می‌اندیشد.
- (۴) محمود از فرستاده مغولان استقبال خوبی نکرد.

۲۴۲- کدام قضیه مانع‌الجمع است؟

- (۱) جسم یا رسانا است یا غیرفلز.
- (۲) ماه یا به دور خورشید می‌گردد یا به دور زمین.
- (۳) قضیه یا حملی است یا منفصل حقیقی.
- (۴) هر موجودی، یا جاندار است یا دارای احساس نیست.

۲۴۳- کدام عبارت درست است؟

- (۱) هرگاه نتیجه یک استدلال درست باشد، می‌توان نتیجه گرفت که مقدمات آن هم درست بوده است.
- (۲) تأثیری که ژولیدگی یک فرد بر نفوذ کلام او نزد شنونده می‌گذارد، ناشی از نوعی مغالطه است.
- (۳) کلمات مترادف، با توجه به یکی بودن مفهوم، از نظر تأثیری که بر شتونگان می‌گذارند، مشابهت دارند.
- (۴) در مغالطه تعمیم شتابزده، مغالطه‌گر می‌کوشد تا با استفاده از یک عامل روانی شنونده را تحت تأثیر قرار دهد.

۲۴۴- کدام مورد، ویژه تفکر فلسفی است؟

- (۱) تأمل در باورهای بنیادین زندگی
- (۲) استفاده از روش عقلی و استدلالی
- (۳) تلاش برای رهایی از عادت‌های غیرمنطقی
- (۴) تلاش برای پاسخ قانونمند به سؤالات مطرح شده

۲۴۵- فلسفه با کدام مورد ارتباط مستقیم ندارد؟

- (۱) عشق به خردمندی
(۲) هنر خوب زیستن
(۳) استفاده درست از ظرفیت ذهن
(۴) تلاش برای نیل به حقیقت

۲۴۶- کدام عبارت درست است؟

- (۱) گستردگی شناخت و فهم ما از جهان، نشان می‌دهد که توانایی شناخت ما حدی ندارد.
(۲) کسی که توانایی شناخت برخی امور را مطلقاً منتفی بداند، امکان شناخت را منکر است.
(۳) با پیشرفت‌های حیرت‌آور بشر در سده‌های اخیر، همه دانش‌های گذشته زیر سؤال رفته‌اند.
(۴) کسی که معتقد است حقیقت غیرقابل شناخت است، ناخواسته وجود یک حقیقت را اثبات می‌کند.

۲۴۷- بارزترین نشانه اعتبار شناخت حسی کدام است؟

- (۱) عقل به کمک این شناخت، اسرار و رموز طبیعت را می‌شناسد.
(۲) با استفاده از آن می‌توان خطاهای گوناگون حواس را تشخیص داد.
(۳) انسان نیازهای جسمانی خود را براساس یافته‌های آن برطرف می‌کند.
(۴) فقط با استفاده از این شناخت می‌توانیم تمایز و تفاوت چیزها را بفهمیم.

۲۴۸- کانت با کدام یک موافق است؟

- (۱) هیچ‌یک از شناخت‌های انسان ذاتی نیست.
(۲) اصل علیت اصلی است که عقل آن را اثبات می‌کند.
(۳) علیت طلوع خورشید نسبت به روشنی زمین، از پیش در دستگاه ادراکی موجود است.
(۴) تصوراتی مانند زمان و مکان و علیت را، انسان از راه عقل به دست می‌آورد نه از راه حس و تجربه.

۲۴۹- توضیح تأثیر متقابل روح و جسم، بنا بر دیدگاه کدام یک، مشکل‌تر است؟

- (۱) ملاصدرا (۲) دکارت (۳) داروینیست‌ها (۴) ماتریالیست‌ها

۲۵۰- ملاصدرا و ابن سینا در مورد کدام عبارت، اختلاف نظر دارند؟

- (۱) روح بدن را به کار می‌گیرد، نه بدن روح را.
(۲) روح و بدن در واقع تفاوتی با یکدیگر ندارند.
(۳) رابطه روح و بدن شبیه رابطه قفس و پرنده است.
(۴) بدن بیمار، روح را کسل می‌کند و روح افسرده بدن را بیمار می‌کند.

۲۵۱- مفهوم «عدالت» در دیدگاه‌های اخلاقی افلاطون، به کدام یک از عبارات‌های زیر نزدیک‌تر است؟

- (۱) اعمال تساوی و برابری میان قوای سه‌گانه وجودی
(۲) اعتدال و هماهنگی میان ابعاد و قوای وجودی انسان
(۳) غلبه قوه عقلانی بر قوای شهوت و غضب و ممانعت آن‌ها از عمل
(۴) ایجاد برابری در همه ابعاد فردی و اجتماعی برای رسیدن به سعادت

۲۵۲- حمل «دارای دو قطر مساوی» بر «مربع»، از نظر نسبت، مانند کدام حمل است؟

- (۱) دوزنقه بر شکل
(۲) متساوی‌الاضلاع بر مثلث
(۳) مثلث بر دارای اضلاع
(۴) دارای زاویه بر مستطیل

۲۵۳- کدام عبارت، مورد توافق کانت و هیوم است؟

- (۱) درک علیت از طریق حواس امکان‌پذیر نیست.
(۲) مفاهیمی مانند علیت، جزء ساختارهای ذهن انسان‌اند.
(۳) انسان داده‌های حسی را، در قالب‌های ذهنی درک می‌کند.
(۴) برای درک علیت، باید هم از حس و هم از عقل استفاده کنیم.

۲۵۴- در کدام عبارت، لفظ «باید» نشان‌دهندهٔ وجود علی و معلولی است؟

- (۱) برای نماز خواندن باید وضو گرفت.
- (۲) انسان باید راستگو و درستکار باشد.
- (۳) وقتی از مدرسه آمدی باید تکالیف را انجام دهی.
- (۴) وقتی در قفل نیست و اشکالی وجود ندارد، باید در باز شود.

۲۵۵- کدام یک، جزء مقدمات برهان حرکت نیست؟

- (۱) هر متحرکی نیازمند محرک است.
- (۲) تسلسل از نظر عقلی محال است.
- (۳) در عالم طبیعت حرکت وجود دارد.
- (۴) محرکی وجود دارد که خودش حرکت ندارد.

۲۵۶- کدام مورد با نظرات فیلسوفان مسلمان سازگار است؟

- (۱) معناداری زندگی انسان بدون پذیرش واقعی وجود خدا، غیرممکن است.
- (۲) مقدمه مشترک همه براهین اثبات خدا، نیازمندی هر موجودی به علت است.
- (۳) عقل وجود خدا را اثبات می‌کند و این، برای معنابخشی به زندگی کافی است.
- (۴) فیلسوف، وجود خدا را به دلایل دینی می‌پذیرد و سپس می‌کوشد تا وجود او را اثبات کند.

۲۵۷- کدام عبارت، عقل عملی را به درستی و با دقت بیشتری توضیح می‌دهد؟

- (۱) آن عقلی که به علوم عملی، یعنی بایدها و نبایدها، مهارت‌ها و فنون اختصاص دارد
- (۲) جنبه‌ای از عقل که بایدها و نبایدها را مورد بررسی و شناخت قرار می‌دهد
- (۳) آن بُعد از وجود انسان که به انجام بایدها و پرهیز از نبایدها مبادرت می‌ورزد
- (۴) نوعی از عقل که به رفتارهای اختیاری و باید و نبایدهای او اختصاص دارد

۲۵۸- کدام عبارت درست است؟

- (۱) این ویژگی، خاص دانش فلسفه است که درستی یا نادرستی گزاره‌های آن را استدلال و برهان تعیین می‌کند.
- (۲) فیلسوفان تجربه‌گرای مسلمان، برخلاف گروه عقل‌گرا، استدلال تجربی و تمثیل را نیز در جای خود معتبر می‌دانند.
- (۳) به اعتقاد فیلسوفان مسلمان، ایمانی که پشتوانهٔ عقلی ندارد، می‌تواند عامل گمراهی فکری یا عملی انسان گردد.
- (۴) اصل در دانش فلسفه، تقویت مهارت‌های منطقی و تفکر فلسفی است و دانستن تفکرات سایر فیلسوفان ضرورتی ندارد.

۲۵۹- با استفاده از طبیعت‌شناسی ابن سینا، کدام عبارت درست است؟

- (۱) بندگان عالم خداوند که خشیت او را به دل دارند، کسانی‌اند که از طبیعت گذشته و در ماوراءالطبیعة تحقیق کرده‌اند.
- (۲) با وجود خسارت‌هایی که ملخ‌های مهاجم به کشاورزان می‌زنند، نمی‌توان آن‌ها را حشرات بی‌فایده و مضر به حال طبیعت دانست.
- (۳) بیماری، پیری و مرگ هر چند شر و بدی به نظر می‌رسند، اما با توجه به نظام احسن، هیچ‌گونه داوری در مورد آن‌ها نمی‌توان کرد.
- (۴) طبیعت مرتبه‌ای از هستی است که روبه مقصدی خاص دارد و موجودات آن، دستخوش تحولاتی می‌شوند که منشاء طبیعت آن‌ها می‌شود.

۲۶۰- کدام عبارت با نظرات ملاصدرا سازگار است؟

- (۱) آن چه اصیل است، وجود است و ماهیت انتزاعی است، یعنی هیچ‌گونه واقعیتی ندارد.
- (۲) میان وجود و ماهیت، وجود امری واقعی و ماهیت مفهومی ساخته و پرداخته ذهن افراد است.
- (۳) ذهن عادی و طبیعی انسان، در مسئله اصالت وجود یا ماهیت، حقیقت را وارونه نشان می‌دهد.
- (۴) وحی و شهود را باید در فلسفه به همان نحوی به کار گرفت که عقل و استدلال به کار می‌روند.

- ۲۶۱- کدام عبارت، در خصوص روش‌های جمع‌آوری اطلاعات در روان‌شناسی درست است؟
 (۱) از پرسشنامه برای جمع‌آوری اطلاعات عمیق از افراد استفاده می‌شود.
 (۲) یک آزمون در اجراهای متعدد متغیرهای متفاوتی را اندازه می‌گیرد.
 (۳) مصاحبه بدون نظام مستلزم وقت زیادی در جمع‌آوری اطلاعات است.
 (۴) از طریق مشاهده از افراد به‌طور مستقیم درباره رفتار و احساسات سؤال می‌شود.
- ۲۶۲- کدام مورد، در خصوص شناخت درست است؟
 (۱) پردازش مفهومی در یافتن بهترین راه‌حل برای رسیدن به هدف کارآمدتر است.
 (۲) پردازش مفهومی تنها از طریق خصوصیات کیفی محرک صورت می‌گیرد.
 (۳) توجه به محرک بالاترین مرحله شناخت ناشی از پردازش ادراکی است.
 (۴) روش پردازش ادراکی محرک‌ها در همه انسان‌ها یکسان است.
- ۲۶۳- پاسخ‌های خردمندانه به مسائل علمی در روان‌شناسی بیانگر چه مفهومی است؟
 (۱) فرضیه (۲) نظریه (۳) تجربه (۴) بیان مسئله
- ۲۶۴- براساس کدام مورد «خودآرمانی» در افراد شکل می‌گیرد؟
 (۱) خود واقعی (۲) رویاپردازی (۳) ویژگی‌های فردی (۴) ایده‌آل‌های فردی
- ۲۶۵- کدام عبارت، در خصوص رشد هیجانی از تولد تا ۱۲ سالگی درست است؟
 (۱) رشد هیجانی فرایندی ساده است و تنها معطوف به هیجانات ساده است.
 (۲) واکنش و عکس‌العمل اطرافیان در جهت‌دهی کودکان به هیجانات خود نقش دارد.
 (۳) رشد هیجانی ابتدایی‌ترین جنبه تحول در این دوره است و با سرعت و تغییرات بسیار همراه است.
 (۴) به موازات افزایش آگاهی، هیجانات ساده ترحم و سپاسگزاری به هیجانات مرکب ترس و خشم تبدیل می‌شود.
- ۲۶۶- معنای پختگی کدام است؟
 (۱) تغییرات در طول زندگی (۲) به ارث بردن صفات از والدین
 (۳) بارور کردن تخمک مادر با اسپرم پدر (۴) رفتارهای وابسته به آمادگی زیستی
- ۲۶۷- کدام عبارت، در خصوص ویژگی‌های رشد نوجوانان درست است؟
 (۱) از لحاظ جسمانی تغییرات سریع و متعددی را تجربه می‌کنند.
 (۲) در پایان این دوره همه نوجوانان هویتی مثبت و با ثباتی را کسب می‌کنند.
 (۳) به دلیل تغییرات شناختی نسبت به مسائل اخلاقی و ارزشی بی‌تفاوت هستند.
 (۴) اطلاعات را بیشتر به‌صورت ادراکی و براساس ویژگی‌های عینی پردازش می‌کنند.
- ۲۶۸- نوجوان ۱۶ ساله‌ای به خاطر می‌آورد که زمانی که حدوداً ۵ ساله بود، در یک پارک بزرگ، پدر و مادر خود را گم کرده و بعد از چند ساعت توسط پلیس به والدین خود بازگردانده شده است. والدین این نوجوان تأکید می‌کنند که چنین رویدادی هرگز رخ نداده است. این مثال به کدام نوع حافظه اشاره دارد؟
 (۱) حسی (۲) کاری (۳) کاذب (۴) معنایی
- ۲۶۹- کدام عبارت، در خصوص فردی که در آزمایش شرایط محرومیت حسی شرکت می‌کند، درست است؟
 (۱) از بین محرک‌های محیطی زیاد، یک یا چند محرک را انتخاب و به آن‌ها توجه می‌کند.
 (۲) شدت محرک‌های بیرونی در حدی نیست که اعضای حسی او تحریک شود.
 (۳) حواس پنجگانه فرد با محرک‌های متنوع تحریک می‌شود.
 (۴) از شرایط محرومیت حسی لذت می‌برد.
- ۲۷۰- در کدام مورد، دانش‌آموزان نسبت به موضوعی که توسط معلم در کلاس تدریس می‌شود، تمرکز بیشتری دارند؟
 (۱) معلم موضوع جدید و تازه‌ای را تدریس کند.
 (۲) معلم موضوع را به‌صورت مستمر و بدون وقفه تدریس کند.
 (۳) دانش‌آموزان نسبت به موضوع موردنظر آگاهی نسبی داشته باشند.
 (۴) دانش‌آموزان در کلاس‌های متعددی با موضوع موردنظر برخورد کرده باشند.

- ۲۷۱- این نکته که در موقعیت ردیابی علامت، تکالیف مهم با هشدار کاذب همراه است، به کدام معنی است؟
 (۱) امکان ردیابی علامت درحالی که محرک هدف حاضر است، کمتر است.
 (۲) امکان ردیابی علامت درحالی که محرک هدف غایب است، بیشتر است.
 (۳) امکان از دست دادن علامت درحالی که محرک هدف غایب است، کمتر است.
 (۴) امکان از دست دادن علامت درحالی که محرک هدف حاضر است، بیشتر است.
- ۲۷۲- مطابق با نمودار فراموشی، بعد از به خاطر سپردن اطلاعات، در صورتی که مرور اطلاعات صورت نگیرد، بیشترین میزان اطلاعات بعد از گذشت چه زمانی فراموش می‌شود؟
 (۱) ۱ ساعت (۲) ۸ ساعت (۳) ۱۲ ساعت (۴) ۲۴ ساعت
- ۲۷۳- کدام مرحله در حافظه حسی نسبت به حافظه کوتاه مدت برتری دارد؟
 (۱) زمان بازیابی (۲) به خاطر آوردن
 (۳) نوع رمزگردانی (۴) ظرفیت ذخیره‌سازی
- ۲۷۴- وقتی تجربه گذشته فرد، یادگیری جدید را آسان تر کند، با چه پدیده‌ای سروکار داریم؟
 (۱) انتقال (۲) اثر نهفتگی (۳) بازیابی راه حل (۴) تداخل
- ۲۷۵- دانشمندان علوم انسانی بیشتر با مسئله‌هایی برخورد می‌کنند که از نوع «خوب تعریف نشده» هستند. این مسئله‌ها دارای کدام ویژگی هستند؟
 (۱) ابهامات کمی در مورد آن‌ها وجود دارند.
 (۲) راهبردهای حل آن‌ها در دسترس دانشمندان قرار دارد.
 (۳) چند علیتی و پیچیده هستند و به دشواری قابل حل هستند.
 (۴) دانشمندان می‌توانند با طی مراحل مشخص به‌طور تضمینی آن‌ها را حل کنند.
- ۲۷۶- افرادی که باور دارند «همه چیز خودبه‌خود درست می‌شود» دارای کدام سبک تصمیم‌گیری هستند؟
 (۱) وابسته (۲) اجتنابی (۳) احساسی (۴) منطقی
- ۲۷۷- کدام عبارت، در خصوص سبک‌های تصمیم‌گیری درست است؟
 (۱) سبک‌های تصمیم‌گیری مختلف دارای کارایی یکسان هستند.
 (۲) همه سبک‌های تصمیم‌گیری در عوامل زیربنایی با هم شباهت دارند.
 (۳) سودمندی و مناسب بودن سبک تصمیم‌گیری بستگی به موقعیت دارد.
 (۴) سبک‌های تصمیم‌گیری شیوه‌های پایدار و ثابت افراد در تصمیم‌گیری است.
- ۲۷۸- دانشجویی که بعد از ۳ ترم متوالی موفق به کسب نمره قبولی در درس ریاضیات نشده است و دچار درماندگی آموخته شده است، دارای کدام باور است؟
 (۱) به دلیل بی‌نظمی و عدم مطالعه کافی موفق به کسب نمره قبولی نشدم.
 (۲) اگر در کلاس‌های حل تمرین شرکت کنم، می‌توانم نمره قبولی کسب کنم.
 (۳) مهم نیست که چقدر مطالعه کنم، نمره این درس به تلاش من ربطی ندارد.
 (۴) در صورتی که بیشتر مطالعه کنم، می‌توانم در ترم آینده نمره قبولی را کسب کنم.
- ۲۷۹- فرض کنید مسابقه فوتبالی برای مشخص شدن قهرمان به مرحله پنالتی‌ها رسیده است. به نظر شما کدام دروازه‌بان ممکن است به علت وجود احساس استرس، نتیجه ضعیفتری از خود نشان دهد؟
 (۱) قبلاً به کرات پنالتی‌های زیادی را توانسته است کنترل کند، ولی این بار نگران است.
 (۲) توان خود را در گرفتن پنالتی عالی ارزیابی نمی‌کند و زننده پنالتی را خیلی با مهارت می‌داند.
 (۳) توان خود را در گرفتن پنالتی عالی ارزیابی می‌کند و زننده پنالتی را خیلی با مهارت می‌داند.
 (۴) توان خود را در گرفتن پنالتی عالی ارزیابی نمی‌کند و زننده پنالتی را خیلی با مهارت نمی‌داند.
- ۲۸۰- دانش‌آموزی که در کنکور دچار استرس زیادی می‌شود، واکنش‌ها و علائم مختلفی نشان می‌دهد. کدام عبارت در مورد این علائم درست است؟
 (۱) دست‌های دانش‌آموز عرق می‌کند و احساس تپش قلب و ضربان بالا دارد، به‌عنوان علائم هیجانی
 (۲) دانش‌آموز تمرکز و دقت خود را از دست می‌دهد و برخی سؤال‌ها را جا می‌اندازد، به‌عنوان علائم جسمانی
 (۳) دست‌های دانش‌آموز عرق می‌کند، احساس تپش قلب می‌کند و ضربان بالا دارد، به‌عنوان علائم رفتاری
 (۴) دانش‌آموز تمرکز و دقت خود را از دست می‌دهد و برخی سؤال‌ها را جا می‌اندازد، به‌عنوان علائم شناختی